

MATEMATIKA



10

ALGEBRA VA ANALIZ ASOSLARI

GEOMETRIYA

I QISM

O'rta ta'lim muassasalarining 10-sinfi va o'rta maxsus,
kasb-hunar ta'limi muassasalari o'quvchilari uchun darslik

1-nashri

O'zbekiston Respublikasi Xalq ta'limi vazirligi tasdiqlagan

TOSHKENT

2017

UO'K 51(075.3)
KBK 22.1ya721
M 54

Algebra va analiz asoslari bo'limining mualliflari:

M.A. Mirzaahmedov, Sh.N. Ismailov, A.Q. Amanov.

Geometriya bo'limining muallifi:

B.Q. Haydarov

Taqrizchilar:

R.B. Beshimov – Mirzo Ulug‘bek nomidagi O‘zbekiston Milliy Universiteti "Geometriya va topologiya" kafedrasi mudiri, fizika-matematika fanlari doktori.


M.D. Pardayeva – Respublika Ta'lim markazi direktorining o‘rinbosari.


D.E. Davletov – Nizomiy nomidagi TDPU "Matematika o‘qitish metodikasi" kafedrasi mudiri, fizika-matematika fanlari nomzodi.


G‘.M. Rahimov – TIQXMMI qoshidagi akademik litsey o‘qituvchisi, fizika-matematika fanlari nomzodi, dotsent.


A.A. Akmalov – Toshkent shahar XTXQTMOI prorektori, pedagogika fanlari nomzodi, dotsent.


Darslikning "Algebra va analiz asoslari" bo'limida ishlatilgan belgilar va ularning talqini:

 – masalani yechish (isbotlash) boshlandi

 – masalani yechish (isbotlash) tugadi

 – nazorat ishlari va test (sinov) mashqlari

 – savol va topshiriqlar

 – asosiy ma'lumot
– murakkabroq mashqlar

Respublika maqsadli kitob jang'armasi mablag'lari hisobidan chop etildi.

ISBN 978-9943-48-595-2

© Barcha huquqlar himoyalangan

© MCHJ "EXTREMUM PRESS", 2017

I BOB



TO'PLAMLAR. MANTIQ

1-4

TO'PLAM TUSHUNCHASI, TO'PLAMLAR USTIDA AMALLAR. TO'LDIRUVCHI TO'PLAM

To'plam matematikaning boshlang'ich tushunchalaridan bo'lib, uni o'zidan soddaroq tushunchalar orqali ta'riflab bo'lmaydi. Turmushda ma'lum obyektlar majmuasini bir butun narsa deb qarashga to'g'ri keladi. Aytaylik, biolog biror o'lkadagi o'simliklar va hayvonot dunyosini o'rganar ekan, u jonzotlarni turlar bo'yicha, turlarni esa urug'lar bo'yicha sinflarga ajratib chiqadi. Har bir tur yaxlit bir butun deb qaraladigan jonzotlar majmuasidir.

To'plam ixtiyoriy tabiatli obyektlardan tashkil topgan bo'lishi mumkin. Masalan, Osiyo qit'asidagi barcha daryolar yoki lug'atdagi barcha so'zlar to'plam bo'la oladi.

Majmualarning matematik tavsifini berish uchun to'plam tushunchasini taniqli nemis matematigi **G.Kantor** (1845–1918) quyidagicha kiritgan:

«To'plam fikrda bir butun deb qaraluvchi ko'plikdir.»

To'plamni tashkil etgan obyektlar uning *elementlari* deyiladi.

To'plam, odatda, qulaylik uchun, lotin alifbosining bosh harflari, masalan, A, B, C, \dots , uning elementlari esa kichik harflari, masalan, a, b, c, \dots bilan belgilanadi.

Elementlari a, b, c, \dots bo'lgan A to'plam qavslar yordamida $A = \{a, b, c, \dots\}$ kabi yoziladi.

$\{6, 11\}$, $\{11, 6\}$, $\{11, 6, 6, 11\}$ yozuvlar bitta to'plamni anglatadi.

Masalan, $\{0, 1, 2, 3, 4, 5, 6, 7, 8, 9\}$ – o'nlik sanoq sistemasidagi raqamlar to'plami, $V = \{a, e, i, o, u\}$ – ingliz tilidagi unli harflar to'plami. 10-a sinfidagi o'quvchilar to'plamini $\{a_1, a_2, \dots, a_{30}\}$ bilan belgilasak, a_1 – jurnaldagi birinchi nomerli o'quvchini, ..., a_{30} – jurnaldagi o'ttizinchi nomerli o'quvchini bildiradi.

x ning A to'plamning elementi ekani $x \in A$ kabi, elementi emasligi esa $x \notin A$ kabi yoziladi va birinchi holda " x element A ga tegishli", ikkinchi holda " x element A ga tegishli emas" deb o'qiladi.

Masalan, $A = \{1, 2, 3, 4, 5, 6, 7\}$ uchun $4 \in A$, ammo $9 \notin A$.

Agar to'plamni tashkil qilgan elementlar chekli sonda bo'lsa, bunday to'plam **chekli to'plam**, aks holda **cheksiz to'plam** deyiladi.

Masalan, $A = \{2, 3, 5, 8, 13, 21\}$ to'plam chekli, $\mathbb{N} = \{1, 2, \dots, n, \dots\}$ – barcha natural sonlar to'plami esa cheksiz to'plamdir.

$n(A)$ deb chekli A to'plamning barcha elementlari sonini belgilasak, $A = \{2, 3, 5, 8, 13, 21\}$ to'plamning barcha elementlari soni 6 ga teng bo'lgani uchun, $n(A) = 6$ bo'ladi.

Cheksiz to'plamga yana bir misol sifatida 13 dan kichik bo'lmagan barcha natural sonlar to'plamini keltirsa bo'ladi.

Birorta ham elementga ega bo'lmagan to'plam **bo'sh to'plam** deyiladi va \emptyset kabi belgilanadi.

\emptyset to'plam ham chekli hisoblanadi va uning uchun $n(\emptyset) = 0$.

Cheksiz A to'plam uchun $n(A) = \infty$ belgilash qabul qilingan.

Agar A to'plamning hamma elementlari B to'plamga tegishli bo'lsa, A to'plam B to'plamning **qism to'plami** deyiladi va $A \subseteq B$ kabi yoziladi.

Bunday holatda " A to'plam B da yotadi" yoki " A to'plam B ning qismi" ham deb yuritiladi.

$\{a\}$ to'plam \emptyset va $\{a\}$, ya'ni ikkita qism to'plamga ega.

$\{a, b\}$ to'plam esa to'rtta: \emptyset , $\{a\}$, $\{b\}$ va $\{a, b\}$ qism to'plamlarga ega.

Masalan, $\{2, 3, 5\} \subseteq \{1, 2, 3, 4, 5, 6\}$, chunki birinchi to'plamning hamma elementlari ikkinchi to'plamning ham elementlari bo'ladi.

A to'plamning B to'plamga tegishli bo'lmagan elementlari mavjud bo'lsa, A to'plam B ning qism to'plami bo'la olmaydi va bu holat $A \not\subseteq B$ kabi yoziladi.

Masalan, $A = \{1, 2, 3, 4\}$, $B = \{2, 3, 4, 5\}$ bo'lsin. $1 \notin B$ bo'lgani uchun $A \not\subseteq B$. Ravshanki, $\emptyset \subseteq A$, $A \subseteq A$ munosabatlar o'rinli.

$A \subseteq B$ va $B \subseteq A$ bo'lsa, bu to'plamlar aynan bir hil elementlardan iborat bo'lib, ular **teng** (ustma-ust tushuvchi) **to'plamlar** deyiladi hamda bu $A = B$ kabi yoziladi.

Masalan, muntazam uchburchaklar to'plami barcha burchaklari o'zaro teng bo'lgan uchburchaklar to'plami bilan ustma-ust tushadi. Buning sababi ixtiyoriy muntazam uchburchakning barcha burchaklari teng va aksincha, agar uchburchakda barcha burchaklar teng bo'lsa, u muntazam bo'ladi.

Asosiy sonli to'plamlarni eslatib o'tamiz:

$\mathbb{N} = \{1, 2, 3, 4, 5, \dots\}$ – natural sonlar to'plami; $\mathbb{Z} = \{0, \pm 1, \pm 2, \pm 3, \dots\}$ – butun sonlar to'plami; $\mathbb{Q} = \left\{ \frac{m}{n} \mid m \in \mathbb{Z}, n \in \mathbb{N} \right\}$ – ratsional sonlar to'plami; $\mathbb{R} = (-\infty; +\infty)$ – haqiqiy sonlar to'plami.

To'plamlarning birlashmasi va kesishmasi

1) A, B to'plamlarning **birlashmasi** deb bu to'plamlardan kamida bittasining elementi bo'lgan elementlardan tashkil topgan to'plamga aytiladi.

A, B to'plamlarning birlashmasi $A \cup B$ kabi belgilanadi.

Masalan, $P = \{1, 3, 4\}$ va $Q = \{2, 3, 5\}$ uchun $P \cup Q = \{1, 2, 3, 4, 5\}$.

2) A, B to'plamlarning **kesishmasi** deb bu to'plamlarning umumiy elementlaridan tashkil topgan to'plamga aytiladi.

A, B to'plamlarning kesishmasi $A \cap B$ kabi belgilanadi.

Masalan, $P = \{1, 3, 4\}$ va $Q = \{2, 3, 5\}$ uchun $P \cap Q = \{3\}$.

Umumiy elementlarga ega bo'lmagan ikkita to'plam **o'zaro kesishmaydigan** to'plamlar deyiladi.

1-misol. $M = \{2, 3, 5, 7, 8, 9\}$ va $N = \{3, 4, 6, 9, 10\}$ to'plamlar uchun quyidagilarni aniqlang:

- | | | |
|-------------------------------|---------------------|--------------------------------|
| a) rost yoki yolg'on ekanini: | I $4 \in M$; | II $6 \notin M$; |
| b) to'plamlarni toping: | I $M \cap N$; | II $M \cup N$; |
| c) rost yoki yolg'on ekanini: | I $M \subseteq N$; | II $\{9, 6, 3\} \subseteq N$. |

△ a) 4 soni M to'plamning elementi bo'lmagani uchun $4 \in M$ munosabat yolg'on. 6 soni M to'plamning elementi bo'lmagani uchun $6 \notin M$ munosabat rost.

b) $M \cap N = \{3, 9\}$, chunki faqat 3 va 9 sonlarigina ikkala to'plamning ham elementlaridir. $M \cup N$ to'plamni topish uchun yoki M ga, yoki N ga tegishli bo'lgan elementlarni yozamiz: $M \cup N = \{2, 3, 4, 5, 6, 7, 8, 9, 10\}$;

c) $M \subseteq N$ munosabat yolg'on, chunki M to'plamda N ga tegishli bo'lmagan elementlari bor. $\{9, 6, 3\} \subseteq N$ munosabat rost, chunki N da $\{9, 6, 3\}$ to'plam elementlari bor. ▲

Mashqlar

1. \in, \notin, \subseteq belgilardan foydalanib, yozing:

- 5 soni D to'plamning elementi;
- 6 soni D to'plamning elementi emas;
- $\{2, 5\}$ to'plam $\{1, 2, 3, 4, 5, 6\}$ to'plamning qism to'plami;
- $\{3, 8, 6\}$ to'plam $\{1, 2, 3, 4, 5, 6\}$ to'plamning qism to'plami emas;

2. a) $A = \{6, 7, 9, 11, 12\}$, $B = \{5, 8, 10, 13, 9\}$;
 b) $A = \{1, 2, 3, 4\}$, $B = \{5, 6, 7, 8\}$;
 c) $A = \{1, 3, 5, 7\}$, $B = \{1, 2, 3, 4, 5, 6, 7, 8, 9\}$ to'plamlar uchun $A \cup B$ va $A \cap B$ larni toping.
3. To'plamlarning elementlari sonini toping:
 - a) $A = \{6, 7, 9, 11, 12\}$;
 - b) $B = \{1, 2, 3, 4, 5, 6, 7, 8, 9\}$;
 - c) $A \cap B$;
 - d) $A \cup B$.
4. To'plamlarning chekli yoki cheksiz ekanini aniqlang:
 - a) 10 dan katta ammo 20 dan kichik natural sonlar to'plami;
 - b) 5 dan katta bo'lgan natural sonlar to'plami.
5. To'plamlardan qaysilari o'zaro kesishmaydi:
 - a) $A = \{1, 3, 5, 7\}$; $B = \{2, 4, 6, 8\}$;
 - b) $P = \{3, 5, 6, 7, 8, 10\}$; $Q = \{4, 9, 10\}$?

Ayrim hollarda to'plamni berish uchun uning elementlari uchun o'rinli, boshqa elementlar uchun o'rinli bo'lmagan *xarakteristik xossa* ko'rsatiladi. Agar x element P xossaga ega degan fikr qisqacha $P(x)$ deb yozilgan bo'lsa, P xossaga ega bo'lgan barcha elementlar to'plami $\{x|P(x)\}$ ko'rinishda belgilanadi.

Masalan, $A = \{x | -2 \leq x \leq 4, x \in \mathbb{Z}\}$ yozuv quyidagicha o'qiladi: "-2 dan katta yoki teng hamda 4 dan kichik yoki teng bo'lgan barcha butun sonlar to'plami".

Bu to'plam sonlar o'qida quyidagicha tasvirlanadi:



Ko'rinib turibdiki, $A = \{-2, -1, 0, 1, 2, 3, 4\}$ va u chekli, bunda $n(A) = 7$.

Xuddi shunday $B = \{x | -2 \leq x < 4, x \in \mathbb{R}\}$ yozuv quyidagicha o'qiladi: "-2 dan katta yoki teng hamda 4 dan kichik bo'lgan barcha haqiqiy sonlar to'plami".

Bu to'plam sonlar o'qida quyidagicha tasvirlanadi:



Ko'rinib turibdiki, $B = [-2, 4)$ va u cheksiz, bunda $n(B) = \infty$.

2-misol. $A = \{x | 3 < x \leq 10, x \in \mathbb{Z}\}$ bo'lsin.

- a) Bu yozuv qanday o'qiladi?
- b) Bu to'plamning elementlarini nomma-nom yozib chiqing;
- c) $n(A)$ ni toping.

- △ a) "3 dan katta hamda 10 dan kichik yoki teng bo'lgan barcha butun sonlar to'plami";
 b) $A = \{4, 5, 6, 7, 8, 9, 10\}$;
 c) $n(A) = 7$. ▲

Mashqlar

6. To'plamlardan qaysilari chekli, qaysilari cheksiz:
 a) $\{x \mid -2 \leq x < 1, x \in \mathbb{Z}\}$; b) $\{x \mid -2 \leq x < 1, x \in \mathbb{R}\}$;
 c) $\{x \mid x \geq 5, x \in \mathbb{Z}\}$; d) $\{x \mid 0 \leq x < 1, x \in \mathbb{Q}\}$?
7. Yozuvlarni o'qing:
 a) $A = \{x \mid -1 \leq x < 7, x \in \mathbb{Z}\}$; b) $A = \{x \mid -2 < x < 8, x \in \mathbb{N}\}$;
 c) $A = \{x \mid 0 \leq x < 1, x \in \mathbb{R}\}$; d) $A = \{x \mid 5 \leq x < 6, x \in \mathbb{Q}\}$.
 Agar mumkin bo'lsa, shu to'plamlar elementlarini nomma-nom yozib chiqing.
8. Quyidagi to'plamlarni yozing:
 a) "-100 dan katta hamda 100 dan kichik bo'lgan barcha butun sonlar to'plami";
 b) "1000 dan katta bo'lgan barcha haqiqiy sonlar to'plami";
 c) "2 dan katta yoki teng hamda 3 dan kichik yoki teng bo'lgan barcha ratsional sonlar to'plami".
9. Savollarga javob bering:
 a) $\{a, b, c\}$ va $\{a, b, c, d\}$ to'plamlarning barcha qism to'plamlarini yozing. Ular nechta?
 b) Agar B to'plam n ta elementga ega bo'lsa, u holda B to'plam nechta qism to'plamga ega?
10. Qaysi hollarda $A \subseteq B$ bo'ladi?
 a) $A = \emptyset$ va $B = \{2, 5, 7, 9\}$; b) $A = \{2, 5, 8, 9\}$ va $B = \{8, 9\}$;
 c) $A = \{x \mid 2 \leq x < 3, x \in \mathbb{R}\}$ va $B = \{x \mid x \in \mathbb{R}\}$;
 d) $A = \{x \mid 3 \leq x < 9, x \in \mathbb{Q}\}$ va $B = \{x \mid 0 \leq x < 10, x \in \mathbb{R}\}$;
 e) $A = \{x \mid -10 \leq x < 10, x \in \mathbb{Z}\}$ va $B = \{z \mid 0 \leq z < 5, z \in \mathbb{Z}\}$;
 f) $A = \{x \mid 0 \leq x < 1, x \in \mathbb{Q}\}$ va $B = \{y \mid 0 < y < 2, y \in \mathbb{Q}\}$.

Faraz qilaylik, bizni 1 dan katta yoki teng hamda 8 dan kichik yoki teng bo'lgan barcha natural sonlar to'plami qiziqirtsin va biz uning qism to'plamlarini qaramoqchimiz.

Odatda, bu holda $U = \{x \mid 1 \leq x \leq 8, x \in \mathbb{N}\}$ to'plam kiritiladi va u **universal to'plam** deb yuritiladi.

A to'planning A' to'ldiruvchisi deb U universal to'planning A ga tegishli bo'lmagan barcha elementlari to'plamiga aytiladi.

Masalan, $U = \{1, 2, 3, 4, 5, 6, 7, 8\}$ universal to'plam bo'lsa, $A = \{1, 3, 5, 7, 8\}$ to'planning to'ldiruvchisi $A' = \{2, 4, 6\}$ to'plam bo'ladi.

Ravshanki,

- $A \cap A' = \emptyset$
- $A \cup A' = U$
- $n(A) + n(A') = n(U)$,

ya'ni A va A' to'plamlar umumiy elementlarga ega emas hamda ularni tashkil qilgan barcha elementlar U ni hosil qiladi.

3-misol. Universal to'plam $U = \{\text{barcha natural sonlar}\}$ bo'lsa, C' ni toping.

- a) $C = \{\text{barcha juft sonlar}\}$;
 b) $C = \{x \mid x > 2, x \in \mathbb{Z}\}$, $U = \mathbb{Z}$.

- △ a) $C' = \{\text{barcha toq natural sonlar}\}$;
 b) $C' = \{x \mid x \leq 1, x \in \mathbb{Z}\}$. ▲

4-misol. $U = \{x \mid -5 \leq x \leq 5, x \in \mathbb{Z}\}$, $A = \{x \mid 1 \leq x \leq 4, x \in \mathbb{Z}\}$, $B = \{x \mid -3 \leq x < 2, x \in \mathbb{Z}\}$ bo'lsa, quyidagi to'plam elementlarini yozing:

- a) A ; b) B ; c) A' ; d) B' ;
 e) $A \cap B$; f) $A \cup B$; g) $A' \cap B$; h) $A' \cup B'$.

- △ a) $A = \{1, 2, 3, 4\}$; b) $B = \{-3, -2, -1, 0, 1\}$;
 c) $A' = \{-5, -4, -3, -2, -1, 0, 5\}$; d) $B' = \{-5, -4, 2, 3, 4, 5\}$;
 e) $A \cap B = \{1\}$; f) $A \cup B = \{-3, -2, -1, 0, 1, 2, 3, 4\}$;
 g) $A' \cap B = \{-3, -2, -1, 0\}$; h) $A' \cup B' = \{-5, -4, -3, -2, -1, 0, 1, 2, 3, 4, 5\}$. ▲

Mashqlar

11. C' ni toping.

- a) $U = \{\text{ingliz tili harflari}\}$, $C = \{\text{unli harflar}\}$;
 b) $U = \{\text{butun sonlar}\}$, $C = \{\text{manfiy butun sonlar}\}$;
 c) $U = \mathbb{Z}$, $C = \{x \mid x \leq -5, x \in \mathbb{Z}\}$;
 d) $U = \mathbb{Q}$, $C = \{x \mid x \leq 2 \text{ yoki } x > 8, x \in \mathbb{Q}\}$.

12. $U = \{x \mid 0 \leq x < 8, x \in \mathbb{Z}\}$, $A = \{x \mid 2 \leq x \leq 7, x \in \mathbb{Z}\}$, $B = \{x \mid 5 \leq x < 8, x \in \mathbb{Z}\}$ bo'lsa, qo'yidagilarni toping:

- a) A ; b) A' ; c) B ; d) B' ;
 e) $A \cap B$; f) $A \cup B$; g) $A \cap B'$.

13. $n(U) = 15$, $n(P) = 6$, $n(Q) = 4$ bo'lsa, quyidagilarni toping:

- a) $n(P')$; b) $n(Q)$.

14. $U = \{x \mid 0 < x < 12, x \in \mathbb{Z}\}$, $A = \{x \mid 2 < x < 7, x \in \mathbb{Z}\}$,
 $B = \{x \mid 3 < x < 9, x \in \mathbb{Z}\}$, $C = \{x \mid 5 < x < 11, x \in \mathbb{Z}\}$ bo'lsa, quyidagilarni
toping:

- a) B' ; b) C' ; c) A' ; d) $A \cap B$;
e) $(A \cap B)'$; f) $A' \cap C$; g) $B' \cup C$; h) $(A \cup C) \cap B'$.

5-misol. $U = \mathbb{N}$, $P = \{4 \text{ sonining } 50 \text{ dan kichik bo'lgan karralilari}\}$ va
 $Q = \{6 \text{ sonining } 50 \text{ dan kichik bo'lgan karralilari}\}$ bo'lsin.

- a) P, Q to'plamlar elementlarini yozing;
b) $P \cap Q$ ni toping;
c) $P \cup Q$ ni toping;
d) $n(P \cup Q) = n(P) + n(Q) - n(P \cap Q)$ tenglikning bajarilishini tekshiring.

\triangle a) $P = \{4, 8, 12, 16, 20, 24, 28, 32, 36, 40, 44, 48\}$,

$Q = \{6, 12, 18, 24, 30, 36, 42, 48\}$;

b) $P \cap Q = \{12, 24, 36, 48\}$;

c) $P \cup Q = \{4, 6, 8, 12, 16, 18, 20, 24, 28, 30, 32, 36, 40, 42, 44, 48\}$;

d) $n(P \cup Q) = 16$ va $n(P) + n(Q) - n(P \cap Q) = 12 + 8 - 4 = 16$.

Demak, $n(P \cup Q) = n(P) + n(Q) - n(P \cap Q)$ tenglik o'rinli ekan. \blacktriangle

Mashqlar

15. $U = \mathbb{N}$, $P = \{25 \text{ dan kichik bo'lgan tub sonlar}\}$ va
 $Q = \{2, 4, 5, 11, 12, 15\}$ bo'lsin.

- a) P to'plam elementlarini yozing;
b) $P \cap Q$ ni toping;
c) $P \cup Q$ ni toping;
d) $n(P \cup Q) = n(P) + n(Q) - n(P \cap Q)$ tenglikning bajarilishini tekshiring.

16. $U = \mathbb{N}$, $P = \{30 \text{ ning bo'luvchilari}\}$ va
 $Q = \{40 \text{ ning bo'luvchilari}\}$ bo'lsin.

- a) P, Q to'plamlarning elementlarini yozing;
b) $P \cap Q$ ni toping;
c) $P \cup Q$ ni toping;
d) $n(P \cup Q) = n(P) + n(Q) - n(P \cap Q)$ tenglikning bajarilishini tekshiring.

17. $U = \mathbb{N}$, $P = \{4 \text{ sonining } 30 \text{ va } 60 \text{ sonlari orasidagi karralilari}\}$ va
 $Q = \{6 \text{ sonining } 30 \text{ va } 60 \text{ sonlari orasidagi karralilari}\}$ bo'lsin.

- a) P, Q to'plamlarning elementlarini yozing;
b) $P \cap Q$ ni toping;
c) $P \cup Q$ ni toping;
d) $n(P \cup Q) = n(P) + n(Q) - n(P \cap Q)$ tenglikning bajarilishini tekshiring.

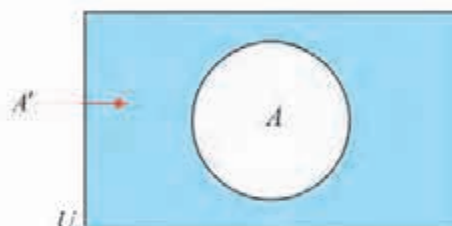
18. $U = \{x \mid 0 < x < 12, x \in \mathbb{Z}\}$, $A = \{x \mid 2 < x < 7, x \in \mathbb{Z}\}$,
 $B = \{x \mid 3 < x < 9, x \in \mathbb{Z}\}$, $C = \{x \mid 5 < x < 11, x \in \mathbb{Z}\}$ bo'lsa, quyidagilarni toping:
- a) B' ; b) C' ; c) A' ;
d) $A \cap B$; e) $(A \cap B)'$; f) $A' \cap C$;
g) $B' \cup C$; h) $(A \cup C) \cap B'$.
19. $U = \mathbb{Z}$, $C = \{y \mid -4 \leq y \leq -1, y \in \mathbb{Z}\}$ va
 $D = \{y \mid -7 \leq y < 0, y \in \mathbb{Z}\}$ bo'lsin.
- a) C, D to'plamlarning elementlarini yozing;
b) $C \cap D$ ni toping;
c) $C \cup D$ ni toping;
d) $n(C \cup D) = n(C) + n(D) - n(C \cap D)$ tenglikning bajarilishini tekshiring.
20. $U = \mathbb{N}$, $P = \{12 \text{ ning bo'luvchilari}\}$, $Q = \{18 \text{ ning bo'luvchilari}\}$ va
 $R = \{27 \text{ ning bo'luvchilari}\}$ bo'lsin.
- a) P, Q, R to'plamlarning elementlarini yozing;
b) **I** $P \cap Q$; **II** $P \cap R$;
III $Q \cap R$; **IV** $P \cup Q$;
V $P \cup R$; **VI** $Q \cup R$;
c) **I** $P \cap Q \cap R$; **II** $P \cup Q \cup R$,
larni toping.
21. $U = \mathbb{N}$, $A = \{4 \text{ sonining } 40 \text{ dan kichik bo'lgan karralilari}\}$,
 $B = \{6 \text{ sonining } 40 \text{ dan kichik bo'lgan karralilari}\}$ va
 $C = \{12 \text{ sonining } 40 \text{ dan kichik bo'lgan karralilari}\}$ bo'lsin.
- a) A, B, C to'plamlarning elementlarini yozing;
b) **I** $A \cap B$; **II** $B \cap C$;
III $A \cap C$; **IV** $A \cap B \cap C$.
c) $A \cup B \cup C$ ni toping;
d) $n(A \cup B \cup C) = n(A) + n(B) + n(C) - n(A \cap B) - n(B \cap C) - n(A \cap C) + n(A \cap B \cap C)$ tenglikning bajarilishini tekshiring.
22. $U = \mathbb{N}$, $A = \{6 \text{ sonining } 31 \text{ dan kichik bo'lgan karralilari}\}$,
 $B = \{30 \text{ ning bo'luvchilari}\}$ va
 $C = \{30 \text{ dan kichik bo'lgan tub sonlar}\}$ bo'lsin.
To'plamlarning elementlarini yozing:
- a) A, B, C ;
b) **I** $A \cap B$; **II** $B \cap C$;
III $A \cap C$; **IV** $A \cap B \cap C$.
c) $A \cup B \cup C$ ni toping;

d) $n(A \cup B \cup C) = n(A) + n(B) + n(C) - n(A \cap B) - n(B \cap C) - n(A \cap C) + n(A \cap B \cap C)$ tenglikning bajarilishini tekshiring.

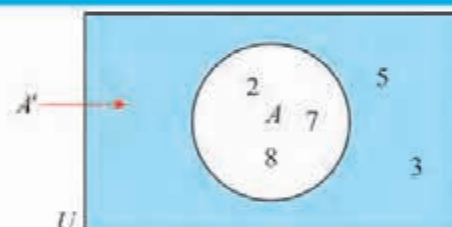
Venn diagrammalari

To'plamlarni *Venn diagrammalari* yordamida tasvirlash maqsadga muvofiq. Venn diagrammasida U universal to'plam – to'g'ri to'rtburchak, to'plam esa shu to'g'ri to'rtburchak ichida yotgan doira kabi tasvirlanadi.

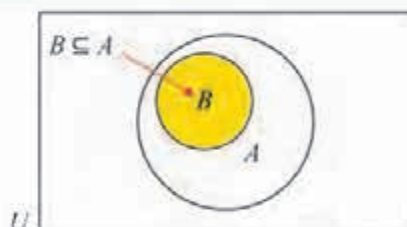
Masalan, rasmda U universal to'plam ichida A to'plam tasvirlangan. Aylana tashqarisidagi bo'yalgan soha A to'plamning A' to'ldiruvchisini bildiradi:



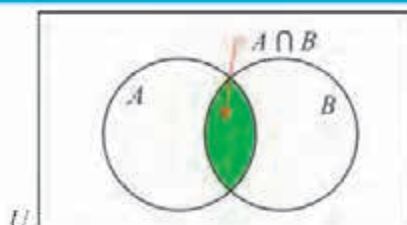
$U = \{2, 3, 5, 7, 8\}$, $A = \{2, 7, 8\}$ va $A' = \{3, 5\}$ bo'lsa, shu to'plamlar Venn diagrammasida quyidagicha tasvirlanadi:



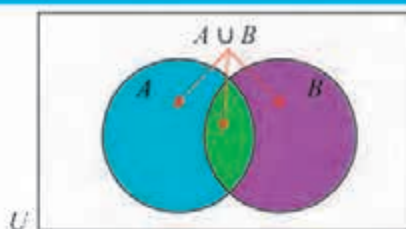
Agar $B \subseteq A$ bo'lsa, u holda B to'plamning ixtiyoriy elementi A to'plamga tegishli. Demak, bunga mos Venn diagrammasida B to'plamni ifodalovchi doira A to'plamni ifodalovchi doira ichida yotadi:



$A \cap B$ kesishma elementlari ham A ga, ham B ga tegishli bo'ladi. Demak, bunga mos Venn diagrammasida $A \cap B$ to'plamni ifodalovchi bo'yalgan soha shunday tasvirlanadi:



$A \cup B$ birlashma elementlari yoki A ga, yoki B ga, yoki ikkalasiga tegishli bo'ladi. Demak, bunga mos Venn diagrammasida $A \cup B$ to'plamni ifodalovchi soha quyidagicha tasvirlanadi:



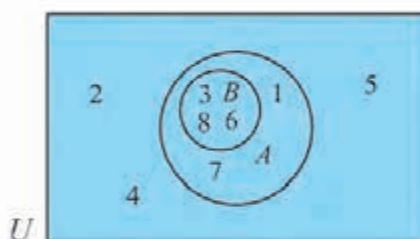
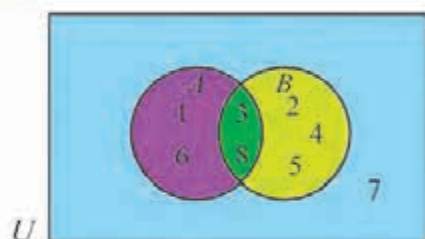
6-misol. $U = \{1, 2, 3, 4, 5, 6, 7, 8\}$ bo'lsa, quyidagi to'plamlarni Venn diagrammasida tasvirlang:

a) $A = \{1, 3, 6, 8\}$ va $B = \{2, 3, 4, 5, 8\}$;

b) $A = \{1, 3, 6, 7, 8\}$ va $B = \{3, 6, 8\}$.

△ a) $A \cap B = \{3, 8\}$

b) $A \cap B = \{3, 6, 8\}, B \subseteq A$



Mashqlar

23. A, B to'plamlarni Venn diagrammasida tasvirlang:

a) $U = \{2, 3, 4, 5, 6, 7\}, A = \{2, 4, 6\}$ va $B = \{5, 7\}$;

b) $U = \{2, 3, 4, 5, 6, 7\}, A = \{2, 4, 6\}$ va $B = \{3, 5, 7\}$;

c) $U = \{1, 2, 3, 4, 5, 6, 7\}, A = \{2, 4, 5, 6\}$ va $B = \{1, 4, 6, 7\}$;

d) $U = \{3, 4, 5, 7\}, A = \{3, 4, 5, 7\}$ va $B = \{3, 5\}$.

24. $U = \{x \mid 1 < x < 10, x \in \mathbb{Z}\}, A = \{10 \text{ dan kichik bo'lgan toq sonlar}\}$ va $B = \{10 \text{ dan kichik bo'lgan tub sonlar}\}$ bo'lsin.

a) A, B to'plamlarning elementlarini yozing;

b) A, B to'plamlarni Venn diagrammasida tasvirlang;

c) $A \cap B$ va $A \cup B$ to'plamlarni toping.

25. $U = \{x \mid 1 < x < 10, x \in \mathbb{Z}\}, A = \{6 \text{ ning karralilari}\}$ va $B = \{9 \text{ ning karralilari}\}$ bo'lsin.

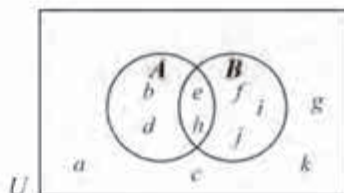
a) A, B to'plamlarning elementlarini yozing;

b) $A \cap B$ va $A \cup B$ to'plamlarni toping;

c) A, B to'plamlarni Venn diagrammasida tasvirlang.

26. A, B to'plamlar Venn diagrammasida tasvirlangan.

Quyidagi to'plamlarning elementlarini yozing:



II A ;

III B ;

IV A' ;

V B' ;

V $A \cap B$;

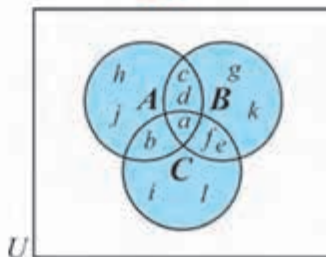
VI $A \cup B$;

VII $(A \cup B)'$;

VIII $A' \cup B'$.

27.

A, B, C to'plamlar Venn diagrammasida tasvirlangan.



a) To'plamlarning elementlarini yozing:

I A ;

II B ;

III C ;

IV $A \cap B$;

V $A \cup B$;

VI $B \cap C$;

VII $A \cap B \cap C$;

VIII $A \cup B \cup C$.

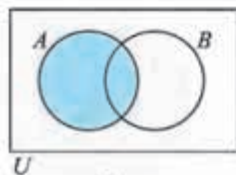
b) Quyidagilarni toping:

I $n(A \cup B \cup C)$;

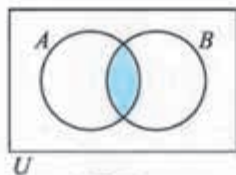
II $n(A) + n(B) + n(C) - n(A \cap B) - n(A \cap C) - n(B \cap C) + n(A \cap B \cap C)$.

Venn diagrammasida to'plamlarni bo'yab tasvirlash mumkin.

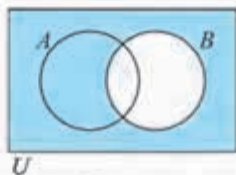
Masalan, rasmda, mos ravishda, $A, A \cap B, B', A \cap B'$ to'plamlar bo'yalgan:



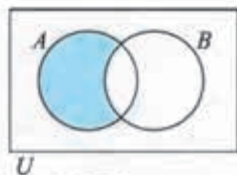
A



$A \cap B$



B'

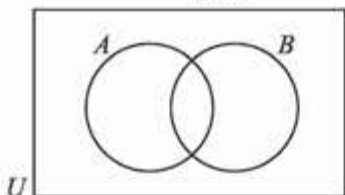


$A \cap B'$

Mashqlar

Diagrammalarni daftaringizga ko'chiring va ko'rsatilgan to'plamlarni bo'yang:

28.



a) $A \cap B$;

b) $A \cap B'$;

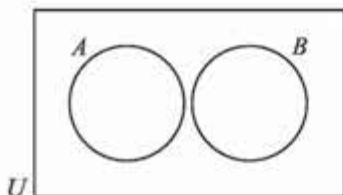
c) $A' \cup B$;

d) $A \cup B'$;

e) $(A \cap B)'$;

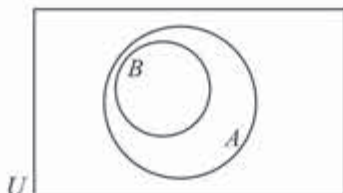
f) $(A \cup B)'$.

29.



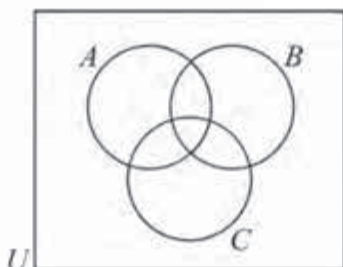
- | | |
|--------------------|------------------|
| a) A ; | b) B ; |
| c) A' ; | d) B' ; |
| e) $A \cap B$; | f) $A \cup B$; |
| g) $A' \cap B$; | h) $A \cup B'$; |
| i) $(A \cap B)'$. | |

30.



- | | |
|--------------------|------------------|
| a) A ; | b) B ; |
| c) A' ; | d) B' ; |
| e) $A \cap B$; | f) $A \cup B$; |
| g) $A' \cap B$; | h) $A \cup B'$; |
| i) $(A \cap B)'$. | |

31.



- | | |
|---------------------------|--------------------------|
| a) A ; | b) B' ; |
| c) $B \cap C$; | d) $A \cup B$; |
| e) $A \cap B \cap C$; | f) $A \cup B \cup C$; |
| g) $(A \cap B \cap C)'$; | h) $(A \cup B) \cup C$; |
| i) $(B \cap C) \cap A$. | |

5-7

MULOHAZALAR. INKOR, KONYUNKSIYA VA DIZYUNKSIYA

Rost yoki yolg'on bo'lgan darak gap *mulohaza* deyiladi.

Savol shaklidagi gaplar, shaxsning munosabatini bildiruvchi darak gaplar, masalan, "Yashil rang yoqimlidir" mulohaza bo'la olmaydi.

Ayrim mulohazalarning rost-yolg'onligi bir qiymatli aniqlanmaydi.

Masalan, "Bu yozuvchi Toshkentda tavallud topgan" mulohaza tayin bir yozuvchiga nisbatan rost, boshqasiga nisbatan yolg'on bo'lishi mumkin.

1-misol. Quyidagilardan qaysi biri mulohaza bo'ladi?

Agar u mulohaza bo'lsa, uning rost-yolg'onligi bir qiymatli aniqlanadimi?

- | | |
|------------------------------------|-----------------------|
| a) $20:4=80$; | b) $25 \cdot 8=200$; |
| c) Mening qalamim qayerda? | |
| d) Sening ko'zlaring moviy rangda. | |

- △ a) Bu mulohaza va u yolg'on, chunki $20:4=5$ bo'ladi;
 b) bu mulohaza va u rost;
 c) bu so'roq gap bo'lgani uchun, u mulohaza bo'lmaydi;

d) bu mulohaza, uning rost-yolg'onligi bir qiymatli aniqlanmaydi, chunki ayrim insonlarga nisbatan u yolg'on, ayrimlariga nisbatan esa rost. ▲

Biz mulohazalarni $p, q, r \dots$ harflar bilan belgilaymiz.

Masalan, p : Seshanba kuni yomg'ir yog'di;

q : $20:4=5$;

r : x – juft son.

Murakkabroq mulohazalarni tuzish uchun \wedge (konyunksiya – "va", "ammo"), \vee (dizyunksiya – "yoki"), \neg (inkor – "... emas", "... noto'g'ri") **mantiqiy bog'lovchilar** deb ataluvchi maxsus belgilardan foydalaniladi.

Ularni qarab chiqaylik.

Inkor

p mulohaza uchun " p emas" yoki " p ekani noto'g'ri" shakldagi mulohaza p ning **inkori** deyiladi va $\neg p$ kabi belgilanadi.

Masalan, p : Seshanba kuni yomg'ir yog'di

mulohazaning inkori

$\neg p$: Seshanba kuni yomg'ir yog'madi;

p : Madinaning ko'zi moviy mulohazaning inkori

$\neg p$: Madinaning ko'zi moviy emas

bo'ladi.

Ravshanki, p rost bo'lsa, $\neg p$ yolg'on, p yolg'on bo'lsa $\neg p$ rost mulohaza bo'ladi. Bu ma'lumot **rostlik jadvali** yordamida sharhlanadi. Bunday jadval p ga qarab yangi $\neg p$ mulohazaning rostlik qiymati rost T^1 yoki yolg'on F^1 ligini aniqlaydi:

| | |
|-----|----------|
| p | $\neg p$ |
| T | F |
| F | T |

Mashqlar

32. Quyidagilardan qaysi biri mulohaza bo'ladi? Agar u mulohaza bo'lsa, uning rost-yolg'onligi bir qiymatli aniqlanadimi?

- a) $11-5=7$; b) 12 – juft son; c) $2 \in Q$; d) $2 \notin Q$.
- e) Parallelogramm 4 ta tomonga ega;
- f) 37 – tub son;
- g) Sening bo'ying necha santimetr?
- h) Barcha kvadratlar to'rtburchak;
- i) Qor yog'moqdami?
- j) To'rtburchak parallelogramm emas;
- k) Sening ukang 13 yoshda;

¹ T va F harflari, mos ravishda, inglizcha "true" (rost), "false" (yolg'on) so'zlarining bosh harflaridir.

- l) Senga tarixiy kitoblar yoqadimi?
m) Madina yaxshi kuylaydi;
n) Sen Samarqandda tug'ilgansan;
o) Qarama-qarshi burchaklar o'zaro teng;
p) Parallel to'g'ri chiziqlar kesishadi.
33. Mulohazalarning inkorini yozing. Bu mulohaza va uning inkori rost-yolg'onligini aniqlang.
- a) p : barcha to'rtburchaklar parallelogramm bo'ladi;
 - b) q : $\sqrt{5}$ – irratsional son; c) r : 7 – ratsional son;
 - d) s : $23-14=12$; e) t : $52:4=13$;
 - f) u : ixtiyoriy ikkita juft sonlar ayirmasi toq bo'ladi;
 - g) p : ketma-ket natural sonlar ko'paytmasi doimo juft bo'ladi;
 - h) q : barcha o'tmas burchaklar o'zaro teng;
 - i) r : barcha trapetsiyalar parallelogrammlardir;
 - j) s : agar uchburchakning ikki burchagi o'zaro teng bo'lsa, u teng yonli bo'ladi;
34. $x, y \in \mathbb{R}$ bo'lsin. Mulohazalarning inkorini yozing:
- a) $x > 5$; b) $x \geq 3$;
 - c) $y < 8$; d) $y \leq 10$.
35. Berilgan r, s mulohazalar uchun s mulohaza r mulohazaning inkori bo'ladimi?
Agar s mulohaza r mulohazaning inkori bo'lmasa, r mulohazaning to'g'ri inkorini toping.
- a) r : Madinaning bo'yi 140 sm dan baland; s : Madinaning bo'yi 140 sm dan past;
 - b) r : Akbar futbol bilan shug'ullanadi; s : Akbar musiqa bilan shug'ullanadi;
 - c) r : Men bugun qora choy ichdim; s : Men bugun ko'k choy ichdim;
 - d) r : Men Samarqandda bo'lganman; s : Men hech qachon Samarqandda bo'lmaganman.

2-misol.

Mulohazaning inkorini tuzing:

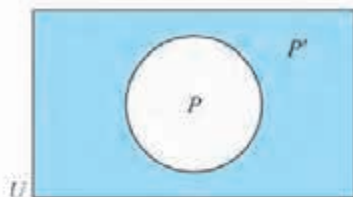
- a) x – qovun, $x \in \{\text{qovunlar}, \text{tarvuzlar}\}$; b) $x \geq 2, x \in \mathbb{N}$; c) $x \geq 2, x \in \mathbb{Z}$;
△ a) x – tarvuz; b) $x = 1$; c) $x < 2$ va $x \in \mathbb{Z}$. ▲

Mashq

36. Mulohazaning inkorini tuzing.

- a) $x \in \{1, 2, 3, 4\}$; b) $x \in \{\text{otlar, qo'ylar}\}$;
c) $x \geq 0, x \in \mathbb{Z}$; d) x – o'quvchi bola, $x \in \{\text{o'quvchilar}\}$;
e) x – o'quvchi qiz, $x \in \{\text{qizlar}\}$.

Mulohazaning inkorini Venn diagrammasidan foydalanib ham tuzish mumkin.

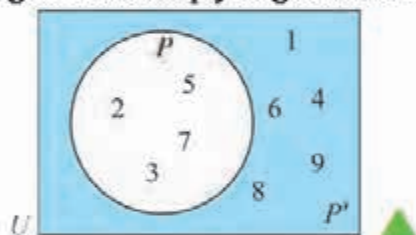


Diagrammada U – barcha sonlar to'plami, P to'plam p mulohazaning **rostlik to'plami**, ya'ni u rost mulohaza bo'ladigan x larning to'plami, P' to'plam deb $\neg p$ inkorning rostlik to'plami tasvirlangan.

3-misol. $U = \{x \mid 0 < x < 10, x \in \mathbb{N}\}$ da $p: x$ – **tub son** mulohazani qaraylik. p va $\neg p$ ning rostlik to'plamlarini toping.

\triangle P to'plam p mulohazaning **rostlik to'plami**, P' to'plam $\neg p$ inkorning rostlik to'plami bo'lsin. U holda $P = \{2, 3, 5, 7\}$, $P' = \{1, 4, 6, 8, 9\}$.

Bu to'plamlar Venn diagrammasida quyidagicha tasvirlanadi:



Mashqlar

37. Mulohazalarning inkorini tuzing, Venn diagrammasida tasvirlang:

- a) $U = \{x \mid 20 < x < 30\}$ da $p: x$ – tub son;
b) $U = \{x \mid 1 < x < 10\}$ da $p: x$ – juft son.

38. $U = \{10\text{-sinf o'quvchilari}\}$, $M = \{\text{musiqa to'garagida shug'ullanadigan o'quvchilar}\}$, $O = \{\text{orkestrda musiqa chaladigan o'quvchilar}\}$ bo'lsa, quyidagi mulohazalarni Venn diagrammasida tasvirlang:

- a) musiqa to'garagida shug'ullanadigan barcha o'quvchilar orkestrda musiqa chaladilar;
b) orkestrda musiqa chaladigan o'quvchilardan hech biri musiqa to'garagida shug'ullanmaydi;

c) orkestrda musiqa chaladigan o'quvchilarning hammasi musiqa to'garagida shug'ullanmaydi.

39. $U = \{x \mid 5 < x < 15, x \in \mathbb{N}\}$ da $p: x < 9$ mulohazani Venn diagrammasida tasvirlang va $\neg p$ inkorning rostlik to'plami elementlarini yozing.

40. $U = \{x \mid x < 10, x \in \mathbb{N}\}$ da $p: x$ - juft son mulohazani Venn diagrammasida tasvirlang va inkorning rostlik to'plami elementlarini yozing.

Konyunksiya

Agar ikki mulohaza "va" so'zi bilan bog'lansa, hosil bo'lgan yangi mulohaza berilgan mulohazalar *konyunksiyasi* deyiladi.

p, q mulohazalarning konyunksiyasi $p \wedge q$ kabi belgilanadi.

Masalan,

p : Eldor tushlikda palov yedi;

q : Eldor tushlikda somsa yedi.

Mulohazalarning konyunksiyasi quyidagicha bo'ladi:

$p \wedge q$: Eldor tushlikda palov va somsa yedi.

Ko'rinib turibdiki, $p \wedge q$ mulohaza Eldor tushlikda ham palov, ham somsa yeganda, ya'ni p, q mulohazalarning ikkalasi ham rost bo'lgandagina rost bo'ladi. Agar p, q mulohazalarning birortasi yolg'on bo'lsa, u holda $p \wedge q$ mulohaza rost bo'lmaydi.

p, q mulohazalarning konyunksiyasi quyidagi rostlik jadvaliga ega:

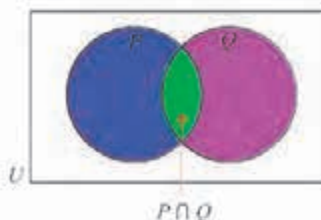
| p | q | $p \wedge q$ |
|-----|-----|--------------|
| T | T | T |
| T | F | F |
| F | T | F |
| F | F | F |

p, q mulohazalarning ikkalasi ham rost bo'lganda $p \wedge q$ rost bo'ladi.

p, q mulohazalarning birortasi yolg'on bo'lganda $p \wedge q$ mulohaza yolg'on bo'ladi.

Birinchi va ikkinchi ustunlar p, q mulohazalarning mumkin bo'lgan rostlik qiymatlaridan tashkil topgan.

Diagrammada P to'plam p mulohazaning, Q to'plam esa q mulohazaning rostlik to'plamlari bo'lsa, $p \wedge q$ mulohazaning rostlik to'plami ikkala mulohaza rost bo'lgan $P \cap Q$ to'plam bo'ladi:



Mashqlar

41. Quyidagi mulohazalarning konyunksiyasini yozing:
- a) p : Madina – terapevt; q : Munisa – stomatolog;
 b) p : x son 15 dan katta; q : x son 30 dan kichik;
 c) p : havo bulutli; q : yomg'ir yog'moqda;
 d) p : Olimning sochlari qora; q : Olimning ko'zlari moviy.
42. $p \wedge q$ mulohazaning rost-yolg'on ekanligini aniqlang:
- a) p : 5 – toq son; q : 5 – tub son;
 b) p : kvadrat to'rtta tomonga ega; q : uchburchak beshta tomonga ega;
 c) p : $39 < 27$; q : $16 > 23$;
 d) p : 12 soni 3 ga bo'linadi; q : 12 soni 4 ga bo'linadi;
 e) p : $5+8 = 12$; q : $6+9 = 15$.
43. $U = \{x \mid 1 \leq x \leq 12, x \in \mathbb{Z}\}$ uchun p : x –juft son, q : x soni 7 dan kichik mulohazalar berilgan.
- a) Venn diagrammasida p , q mulohazalarning rostlik to'plamlarini;
 b) $p \wedge q$ mulohazaning rostlik to'plamini tasvirlang.

Dizyunksiya

Agar ikki mulohaza "yoki" so'zi bilan bog'lansa, hosil bo'lgan yangi mulohaza berilgan mulohazalar *dizyunksiyasi* deyiladi.

p , q mulohazalarning dizyunksiyasi $p \vee q$ kabi belgilanadi.

Masalan,

p : Eldor bugun kutubxonaga bordi; q : Eldor bugun teatrga bordi.

Mulohazalarning dizyunksiyasi quyidagicha ifodalanadi:

$p \vee q$: Eldor bugun yoki kutubxonaga yoki teatrga bordi.

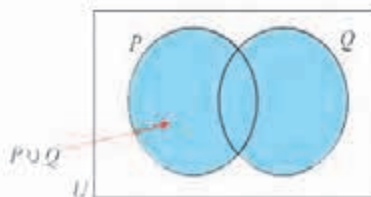
Ko'rinib turibdiki, $p \vee q$ mulohaza Eldor bugun kutubxona yoki teatrdan biriga yoki ikkalasiga borganda rost bo'ladi.

Agar p , q mulohazalarning ikkalasi yolg'on bo'lsa, u holda $p \vee q$ mulohaza rost bo'lmaydi.

p , q mulohazalarning dizyunksiyasi quyidagi rostlik jadvaliga ega:

| p | q | $p \vee q$ | |
|-----|-----|------------|---|
| T | T | T | p , q mulohazalarning birortasi rost bo'lganda $p \vee q$ rost bo'ladi. |
| T | F | T | |
| F | T | T | |
| F | F | F | p , q mulohazalarning ikkalasi yolg'on bo'lganda $p \vee q$ mulohaza yolg'on bo'ladi. |

Diagrammada P to'plam p mulohazaning, Q to'plam esa q mulohazaning rostlik to'plamlari bo'lsa, $p \vee q$ mulohazaning rostlik to'plami ular-dan kamida biri rost bo'lgan $P \cup Q$ to'plam bo'ladi:



Mashqlar

44. $p \vee q$ mulohazaning rost-yolg'on ekanligini aniqlang:
 a) p : 24 soni 4 ga bo'linadi, q : 24 soni 6 ga bo'linadi;
 b) p : $-8 > -5$, q : $5 < 0$.
45. $p \vee q$ mulohazaning rost-yolg'on ekanligini aniqlang:
 a) p : 5 va 9 sonlarining o'rta arifmetigi 7 ga teng, q : 8 va 14 sonlarining o'rta arifmetigi 10 ga teng;
 b) p : $5+8 = 12$, q : $6+9 = 15$.
46. $U = \{x \mid 1 < x < 20, x \in \mathbb{Z}\}$ uchun:
 p : x son 3 ga karrali, q : x - tub son mulohazalarni qaraylik.
 a) Venn diagrammasida p , q mulohazalarning rostlik to'plamlarini tasvirlang;
 b) I $\neg p$; II $p \vee q$; III $p \wedge q$ mulohazaning rostlik to'plamlarini tasvirlang.
47. $U = \{x \mid 1 < x < 12, x \in \mathbb{Z}\}$ uchun:
 p : x - tub son, q : x son 12 ning bo'luvchisi mulohazalarni qaraylik.
 a) Berilgan Venn diagrammasida p , q mulohazalarning rostlik to'plamlarini tasvirlang;
 b) I $\neg p$; II $p \vee q$; III $p \wedge q$ mulohazaning rostlik to'plamlarini tasvirlang.
48. x : Sardor ertaga suzishga boradi;
 y : Sardor ertaga futbolga boradi.
 Quyidagilarni x , y va \neg , \vee , \wedge mantiqiy bog'lovchilar yordamida ifodalang:
 a) Sardor ertaga suzishga bormaydi;
 b) Sardor ertaga suzishga va futbolga boradi;
 c) Sardor ertaga yoki suzishga, yoki futbolga boradi;
 d) Sardor ertaga na suzishga, na futbolga boradi;
 e) Sardor ertaga suzishga boradi, ammo futbolga bormaydi.
49. Gaplarni \neg , \vee , \wedge mantiqiy bog'lovchilar yordamida ifodalang:
 a) Sardorga muzqaymoq va salqin ichimliklar yoqadi;
 b) Sardorga muzqaymoq yoqadi, ammo salqin ichimliklar yoqmaydi;

- c) x soni 10 dan katta bo'lgan tub sonidir;
 d) kompyuter ishlamaydi.

50. Mulohazalar Sardorning taxminiy kun tartibini belgilaydi:

- p : Sardor erta turdi;
 q : Sardor nonushtaga qaymoq yedi;
 r : Sardor tushlikka sho'rva ichdi;
 s : Sardor kechki ovqatga palov yedi;
 u : Sardor sport bilan shug'ullandi;
 v : Sardor kitob o'qidi.

Quyidagilarni tabiiy tilda ifodalang (ayting):

- a) q ; b) s ; c) $q \wedge u$; d) $r \wedge s$; e) $r \vee s$; f) $u \vee v$

8-9 MANTIQUIY TENKUCHLILIK. MANTIQUIY QONUNLAR

Ma'nosiga qarab tabiiy tildagi sodda mulohazalarni harflar bilan erkin belgilab inkor, konyunksiya va dizyunksiya kabi mantiqiy bog'lovchilar yordamida murakkabroq mulohazalarning rost-yolg'onligiga e'tibor bermasdan simvolik (ramziy) ko'rinishlarini tuzaylik.

| Tabiiy tildagi mulohaza | Simvolik shakli |
|---|-----------------|
| Inkor: | |
| 1. Salim uyda emas . | $\neg S$ |
| 2. Mablag' osonlikcha topilmaydi. | $\neg M$ |
| 3. Rashidning kitob o'qiyotganligi noto'g'ri . | $\neg R$ |
| 4. Maryam Buxorodan ekanligi yo'lg'on . | $\neg B$ |
| Konyunksiya: | |
| 5. Akmal va Sunnat ikkalasi o'qituvchi. | $A \wedge S$ |
| 6. Bobir hamda A'lo sport bilan shug'ullanadi. | $B \wedge A$ |
| 7. Bobir kuchli, ammo A'lo undan kuchliroq. | $B \wedge A$ |
| 8. Barcha media (axborot) vositalari qarshi bo'lsa ham , "Barselona" futbol klubi eng yaxshi klub deb topildi. | $M \wedge B$ |
| Dizyunksiya: | |
| 10. Ra'no yoki metroda yoki avtobusda keladi. | $M \vee A$ |
| 11. Bobir yoki A'lo sportning bu turini tanladi. | $B \vee A$ |

Inkor, konyunksiya va dizyunksiya uchun rostlik jadvallarini umumlashtirib, murakkabroq mulohazalar uchun rostlik jadvallarini tuzish mumkin:

| p | q | $\neg p$ | $p \wedge q$ | $p \vee q$ |
|-----|-----|----------|--------------|------------|
| T | T | T | T | T |
| T | F | F | F | T |
| F | T | T | F | T |
| F | F | T | F | F |

1-misol. $p \vee \neg q$ mulohazaning rostlik jadvalini tuzing.

1-qadam

Birinchi va ikkinchi ustunlar p va q larning mumkin bo'lgan rostlik qiymatlaridan tashkil topgan jadvalni yozamiz:

| p | q | $\neg q$ | $p \vee \neg q$ |
|-----|-----|----------|-----------------|
| T | T | | |
| T | F | | |
| F | T | | |
| F | F | | |

2-qadam

Uchinchi ustundagi q ning rostlik qiymatlariga qarab $\neg q$ ning rostlik qiymatlarini yozamiz:

| p | q | $\neg q$ | $p \vee \neg q$ |
|-----|-----|----------|-----------------|
| T | T | F | |
| T | F | T | |
| F | T | F | |
| F | F | T | |

3-qadam

To'rtinchi ustundagi p va $\neg q$ ning rostlik qiymatlariga qarab $p \vee \neg q$ ning rostlik qiymatlarini yozamiz: ▲

| p | q | $\neg q$ | $p \vee \neg q$ |
|-----|-----|----------|-----------------|
| T | T | F | T |
| T | F | T | T |
| F | T | F | F |
| F | F | T | T |

Har doim rost bo'lgan mulohaza **mantiqiy qonun yoki tautologiya** deyiladi. Mulohaza mantiqiy qonun ekanligini rostlik jadvali yordamida isbotlash mumkin.

2-misol. $p \vee \neg p$ mulohaza tautologiya ekanligini isbotlang.

▲ Rostlik jadvalini tuzamiz:

$p \vee \neg p$ mulohaza doimo rost qiymatlarni (uchinchi ustunga qarang) qabul qilgani bois u tautologiya bo'ladi. ▲

| p | $\neg p$ | $p \vee \neg p$ |
|-----|----------|-----------------|
| T | F | T |
| F | T | T |

Ikkita mulohazaning rostlik jadvalidagi mos ustunlar bir hil bo'lsa, bu mulohazalar mantiqiy **tengkuchli** deyiladi.

3-misol. $\neg(p \wedge q)$ va $\neg p \vee \neg q$ mulohazalar mantiqiy tengkuchli ekanligini isbotlang.

△ $\neg(p \wedge q)$ va $\neg p \vee \neg q$ mulohazalar uchun rostlik jadvallarni tuzamiz:

| p | q | $p \wedge q$ | $\neg(p \wedge q)$ | p | q | $\neg p$ | $\neg q$ | $\neg p \vee \neg q$ |
|-----|-----|--------------|--------------------|-----|-----|----------|----------|----------------------|
| T | T | T | F | T | T | F | F | F |
| T | F | F | T | T | F | F | T | T |
| F | T | F | T | F | T | T | F | T |
| F | F | F | T | F | F | T | T | T |

$\neg(p \wedge q)$ va $\neg p \vee \neg q$ mulohazalarning rostlik jadvallaridagi mos ustunlar bir xil, demak, bu mulohazalar mantiqiy tengkuchli.

Bu munosabatni $\neg(p \wedge q) = \neg p \vee \neg q$ kabi yozamiz. ▲

Mashqlar

51. Mulohazalar uchun rostlik jadvallarini tuzing:
 a) $\neg p \wedge q$; b) $\neg(p \vee q)$; c) $\neg p \vee \neg q$; d) $p \vee p$.
52. Mulohazalar tautologiya bo'ladimi:
 a) $\neg p \wedge \neg q$; b) $(p \vee q) \vee \neg p$; c) $p \wedge \neg q$?
53. Mantiqiy tengkuchliliklarni isbotlang:
 a) $\neg(\neg p) = p$; b) $p \wedge q = p$; c) $p \vee (\neg p \wedge q) = p \vee q$;
 d) $\neg(q \wedge \neg p) = \neg q \wedge (p \vee q)$.
54. Mulohazalar berilgan bo'lsin:
 p : Sardor olmani yaxshi ko'radi;
 q : Sardor uzumni yaxshi ko'radi.
 Quyidagi mulohazalarni tabiiy tilda ifodalang:
 a) $p \vee q$; b) $\neg(p \vee q)$; c) $\neg p$; d) $\neg p \wedge \neg q$.
55. Rostlik jadvalini tuzib, $\neg(p \vee q)$ va $\neg p \wedge \neg q$ mulohazalar mantiqiy tengkuchli ekanligini isbotlang.

10-11

IMPLIKATSIYA, KONVERSIYA, INVERSIYA VA KONTRAPOZITSIYA

Implikasiya

Ikki mulohaza "agar ... bo'lsa, u holda ..." ibora bilan bog'lansa, u holda mulohazalar *implikasiyasiga* ega bo'lamiz.

"Agar p bo'lsa, u holda q " implikativ mulohaza $p \Rightarrow q$ kabi belgilanadi va " p dan q kelib chiqadi", " p mulohaza q uchun yetarli", " q mulohaza p uchun zarur" ma'nolarni ham anglatadi.

Bunda p mulohaza q uchun *yetarli shart*, q mulohaza p uchun *zaruriy shart* deb yuritiladi.

Masalan, p : *Sardorning televizori bor*; q : *Sardor kinoni ko'radi*
mulohazalar uchun

$p \Rightarrow q$: *Sardorning televizori bo'lsa, u kinoni ko'radi*
mulohazani anglatadi.

Huddi shunday $p \Rightarrow q$: *Sardor kinoni ko'rishi uchun unda televizor bo'lishi yetarli*
mulohazani hosil qilamiz.

$p \Rightarrow q$ mulohaza faqatgina p rost bo'lib, q yolg'on bo'lsa, p mulohaza rost bo'lgani uchun quyidagi rostlik jadvalini hosil qilamiz:

| p | q | $p \Rightarrow q$ |
|-----|-----|-------------------|
| T | T | T |
| T | F | F |
| F | T | T |
| F | F | T |

Sodda mulohazalar hamda mantiqiy bog'lovchilar yordamida rost-yolg'onlikka e'tibor bermasdan murakkabroq mulohazalarni tuzish mumkin.

1-misol. p : "Anora kinofilmlarni ko'p ko'radi"; q : "Barno kinofilmlarni ko'p ko'radi"; r : "Barno imtihondan o'ta olmaydi"; s : "mo'jiza ro'y beradi"
mulohazalar berilgan bo'lsin.

△ U holda quyidagilarga ega bo'lamiz:

- $p \wedge \neg q$: "Anora kinofilmlarni ko'p ko'radi, Barno esa yo'q".
- $p \Rightarrow \neg q$: "Anora kinofilmlarni ko'p ko'rsa, Barno kinofilmlarni ko'p ko'rmaydi".
- $p \Rightarrow (r \vee s)$: "Barno kinofilmlarni ko'p ko'rsa, u yoki imtihondan o'ta olmaydi yoki mo'jiza ro'y beradi".
- $(p \wedge \neg s) \Rightarrow r$: "Barno kinofilmlarni ko'p ko'rsa va mo'jiza ro'y bermasa, u holda Barno imtihondan o'ta olmaydi".
- $(q \wedge s) \vee r$: "Yoki Barno kinofilmlarni ko'p ko'radi va mo'jiza ro'y beradi, yoki Barno imtihondan o'ta olmaydi". ▲

Ekvivalensiya

$(p \Rightarrow q) \wedge (q \Rightarrow p)$ ko'rinishdagi mulohaza p va q mulohazalarning ekvivalensiyasi deyiladi va $p \Leftrightarrow q$ kabi belgilanadi.

$p \Leftrightarrow q$ yozuv " p mulohaza q uchun zarur va yetarli" yoki " p mulohaza q bo'lgandagina o'rinli bo'ladi", deb o'qiladi.

2-misol. p : x – juft son, q : x sonning oxirgi raqami juft mulohazalar uchun $p \Leftrightarrow q$ mulohaza qanday o'qiladi?

△ $p \Rightarrow q$: x juft son bo'lsa, uning oxirgi raqami juft bo'ladi;

$q \Rightarrow p$: x sonning oxirgi raqami juft bo'lsa, u juft bo'ladi.

mulohazalarni qarajak, $p \Leftrightarrow q$ yozuv " x son bo'lishi uchun uning oxirgi raqami juft bo'lishi zarur va yetarli" yoki " x son uning oxirgi raqami juft bo'lgandagina juft bo'ladi" deb o'qiladi. ▲

Endi ixtiyoriy p va q mulohazalar berilgan bo'lsa
 $(p \Rightarrow q) \wedge (q \Rightarrow p)$ mulohaza uchun rostlik jadvalini tuzamiz:

| p | q | $p \Rightarrow q$ | $q \Rightarrow p$ | $(p \Rightarrow q) \wedge (q \Rightarrow p)$ |
|-----|-----|-------------------|-------------------|--|
| T | T | T | T | T |
| T | F | F | T | F |
| F | T | T | F | F |
| F | F | T | T | T |

Demak, $p \Leftrightarrow q$ mulohazaning rostlik jadvali quyidagicha bo'ladi. Ko'rinib turibdiki, $p \Leftrightarrow q$ mulohaza p va q mulohazalarning rostlik qiymatlari bir xil (ya'ni yoki ikkalasi ham rost, yoki ikkalasi ham yolg'on) bo'lgandagina rost bo'ladi.

| p | q | $p \Leftrightarrow q$ |
|-----|-----|-----------------------|
| T | T | T |
| T | F | F |
| F | T | F |
| F | F | T |

Mashqlar

56. Quyidagi implikativ mulohazalarda zaruriy va yetarli shartlarni aniqlang va bu mulohazalarni "zarur", "yetarli" so'zlarini ishlatib boshqacha ifodalang:
 a) agar men ertalabki avtobusga ulgurmasam, maktabga kech qolaman;
 b) agar temperatura yetarlicha pasaysa, ariqdagi suv muzlab qoladi;
 c) agar $x > 20$ bo'lsa, $x > 10$ bo'ladi;
 d) agar men gol ursam, bizning jamoamiz g'alaba qozonishi mumkin.
57. $p \Rightarrow q$ mulohazani tabiiy tilda ifodalang:
 a) p : quyosh yaraqlaydi, q : men cho'milishga boraman;
 b) p : x son 6 ga bo'linadi, q : x – juft son;
 c) p : muzlatgichda tuxumlar bor, q : Madina tort pishiradi.
58. a) $p \Rightarrow \neg q$; b) $\neg q \Rightarrow \neg p$;
 c) $(p \vee q) \Rightarrow p$; d) $q \wedge (p \Rightarrow q)$;
 e) $p \Leftrightarrow \neg q$; f) $(p \Leftrightarrow q) \wedge \neg p$;
 g) $p \Rightarrow (p \wedge \neg q)$; h) $(p \Rightarrow q) \Rightarrow \neg p$
 mulohazalarning rostlik jadvallarini tuzing.
59. Mulohazalarni simvolik shaklda ifodalang:
 p : yomg'ir yog'di, q : ko'lmaklar paydo bo'ldi;
 a) yomg'ir yog'sa, ko'lmaklar paydo bo'ladi;
 b) ko'lmaklar paydo bo'ldi, demak, yomg'ir yog'di;
 c) ko'lmaklar yo'q;
 d) yomg'ir yog'madi;
 e) agar yomg'ir yog'masa, ko'lmaklar paydo bo'lmaydi;
 f) agar ko'lmaklar paydo bo'lmasa, yomg'ir yog'magan;

- g) agar ko'lmaklar paydo bo'lmasa, yomg'ir yog'adi;
 h) ko'lmaklar paydo bo'lishi uchun yomg'ir yog'ishi zarur va yetarli.

60. Rostlik jadvallarini tuzib,

$$\neg p \Rightarrow q = p \vee q;$$

$$p \Leftrightarrow q = (p \wedge q) \vee (\neg p \wedge \neg q) \text{ ekanligini isbotlang.}$$

61. $q \Rightarrow p$ mulohazaga mantiqiy tengkuchli mulohazani toping:

- a) $p \Rightarrow q$; b) $\neg q \Rightarrow p$;
 c) $q \Rightarrow \neg p$; d) $\neg(\neg p \Rightarrow \neg q)$.

62. Mulohazalardan qaysilari doimo rost, doimo yolg'on bo'ladi?

- a) $p \Rightarrow (\neg p \wedge q)$; b) $p \wedge q \Rightarrow p \vee q$;
 c) $(p \Rightarrow \neg q) \vee (\neg p \Rightarrow q)$.

Konversiya

$p \Rightarrow q$ mulohazaning *konversiyasi* deb $q \Rightarrow p$ mulohazaga aytiladi.

Konversiya quyidagi rostlik jadvaliga ega:

| p | q | $q \Rightarrow p$ |
|-----|-----|-------------------|
| T | T | T |
| T | F | T |
| F | T | F |
| F | F | T |

3-misol.

p : uchburchak teng yonli,

q : uchburchakning ikkita burchagi teng mulohazalarni qaraylik.

$p \Rightarrow q$ mulohazani va uning konversiyasini tabiiy tilda ifodalang.

$\triangle p \Rightarrow q$: Agar uchburchak teng yonli bo'lsa, u holda uning ikkita burchagi teng.

$q \Rightarrow p$: Agar uchburchakning ikkita burchagi teng bo'lsa, u holda bunday uchburchak teng yonli bo'ladi. \triangle

Inversiya

$p \Rightarrow q$ mulohazaning *inversiyasi* deb $\neg p \Rightarrow \neg q$ mulohazaga aytiladi.

Inversiya quyidagi rostlik jadvaliga ega:

Bu jadval $q \Rightarrow p$ mulohazaning rostlik jadvali bilan ustma-ust tushadi, demak, konversiya va inversiya mantiqiy teng kuchli ekan.

| p | q | $\neg p$ | $\neg q$ | $\neg p \Rightarrow \neg q$ |
|-----|-----|----------|----------|-----------------------------|
| T | T | F | F | T |
| T | F | F | T | T |
| F | T | T | F | F |
| F | F | T | T | T |

Kontrapozitsiya

$p \Rightarrow q$ mulohazaning kontrapozitsiyasi deb $\neg q \Rightarrow \neg p$ mulohazaga aytiladi.

Kontrapozitsiya quyidagi rostlik jadvaliga ega:
Bu jadval $p \Rightarrow q$ mulohazaning rostlik jadvali bilan ustma-ust tushadi, demak, implikasiya va kontrapozitsiya mantiqiy teng kuchli ekan.

| p | q | $\neg q$ | $\neg p$ | $\neg q \Rightarrow \neg p$ |
|-----|-----|----------|----------|-----------------------------|
| T | T | F | F | T |
| T | F | T | F | F |
| F | T | F | T | T |
| F | F | T | T | T |

4-misol. "Hamma o'qituvchilar maktab yaqinida yashaydi" mulohazaning kontrapozitsiyasini tuzing.

△ Mazkur mulohaza quyidagicha ifodalanishi mumkin: "Agar bu kishi o'qituvchi bo'lsa, u maktab yaqinida yashaydi".

Bu darak gap $p \Rightarrow q$ shaklga ega, bu yerda:

p : Bu kishi – o'qituvchi, q : Bu kishi maktab yaqinida yashaydi.

$\neg q \Rightarrow \neg p$ kontrapozitsiya quyidagicha ifodalanadi:

"Agar bu kishi maktab yaqinida yashamasa, u holda u o'qituvchi emas". ▲

5-misol. p : Samandar kutubxonada,

q : Samandar kitob o'qiyapti

mulohazalarni qaraylik. Uning uchun implikasiya, konversiya, inversiya va kontrapozitsiyani tuzing.

△ **Implikasiya**

Samandar kutubxonada bo'lsa, u kitob o'qiydi.

$p \Rightarrow q$

Konversiya

Samandar kitob o'qisa, u kutubxonada bo'ladi.

$q \Rightarrow p$

Inversiya

Samandar kutubxonada bo'lmasa, u kitob o'qimaydi.

$\neg p \Rightarrow \neg q$

Kontrapozitsiya

Samandar kitob o'qimayotgan bo'lsa, u kutubxonada bo'lmaydi.

$\neg q \Rightarrow \neg p$

Aytish joizki, implikasiya va konversiya mantiqiy teng kuchli bo'lmaydi, chunki, masalan, Samandar kitobni sinfda o'qishi ham mumkin. ▲

Mashqlar

63. Konversiya va inversiyani tuzing:

a) agar Diyora nimcha kiysa, u isinadi;

b) agar ikki uchburchak o'xshash bo'lsa, ularning mos burchaklari teng bo'ladi;

- c) agar $2x^2 = 12$ bo'lsa, u holda $x = \pm\sqrt{6}$ bo'ladi;
- d) agar Olim o'yin o'ynasa, u xursand bo'ladi;
- e) agar uchburchak muntazam bo'lsa, u holda uning tomonlari teng bo'ladi.

64. Quyidagi mulohazalarning kontrapozitsiyalarini tuzing:

- a) barcha atirgullar tikonli;
- b) barcha sudyalari (hakamlar) doimo to'g'ri qaror chiqaradilar;
- c) hamma yaxshi futbolchilar to'pni aniq nishonga tepadilar;
- d) suyuqlik idishga quyilganda idishning shaklini qabul qiladi;
- e) agar inson halol va o'qimishli bo'lsa, u muvaffaqiyat qozonadi.

65. a) "barcha 10-sinf o'quvchilari matematikani o'rganadilar" mulohazaning kontrapozitsiyasini tuzing;

b) "barcha 10-sinf o'quvchilari matematikani o'rganadilar" mulohaza rost bo'lsa, quyidagilar haqida qanday hukmga kelasiz:

"Shavkat – 10-sinf o'quvchisi";

"Mirislom matematikani o'rganmaydi";

"Doniyor ham matematikani, ham ingliz tilini o'rganmoqda"?

66. Mulohazalarning kontrapozitsiyalarini tuzing:

- a) x son 3 ga bo'linadi $\Rightarrow x^2$ soni 9 ga bo'linadi;
- b) x sonning oxirgi raqami 2 bo'lsa: $\Rightarrow x$ – juft son;
- c) $ABCD$ – to'g'ri turtburchak $\Rightarrow AB \parallel CD$ va $AD \parallel BC$;
- d) ABC – muntazam uchburchak $\Rightarrow \angle ABC = 60^\circ$.

67. p : Uy eng ko'pi bilan 3 ta derazali bo'ladi,

q : Uy tashqariga tutun chiqaradigan mo'riga ega mulohazalarni qaraylik.

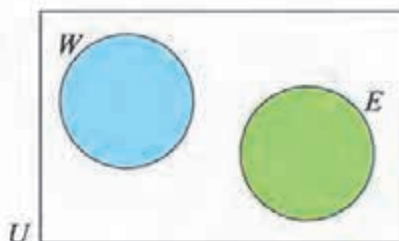
U holda $p \Rightarrow q$: Agar uy eng ko'pi bilan 3 ta derazali bo'lsa, u tashqariga tutun chiqaradigan mo'riga ega;

- a) konversiya, inversiya va kontrapozitsiyani tuzing;
- b) quyidagi hollarda implikasiya, konversiya, inversiya va kontrapozitsiya uchun rost-yolg'onlikni aniqlang:



68. Diagrammada W – sust o'zlashtiradigan o'quvchilar, E esa 10-sinf o'quvchilari to'plamini tasvirlaydi.

Quyidagi mulohazalarni to'ldiring:



- gan sust o'zlashtiruvchi o'quvchilar mavjud emas;
- gan 10-sinf o'quvchilari mavjud emas;
- agar $x \in W$ bo'lsa, u holda
- agar $x \in E$ bo'lsa, u holda
- c va d munosabatlar orasida qanday bog'lanish bor?

12-13 PREDIKATLAR VA KVANTORLAR

Predikatlar va kvantorlar

Ayrim mulohazalarda o'zgaruvchilar qatnashib, shu o'zgaruvchilar o'rniga aniq qiymatlarni qo'ysak, rost-yolg'onligi aniq bo'lgan mulohaza hosil bo'ladi. Bunday mulohaza **predikat** deyiladi.

1-misol. $P(x)$: " $x^2 > x$ " predikat bo'lsa,

$P(2)$, $P(\frac{1}{2})$, $P(-\frac{1}{2})$ mulohazalarning rost-yolg'onligini aniqlang.

$\triangle P(2)$: $2^2 > 2$ – rost. $P(\frac{1}{2})$: $(\frac{1}{2})^2 > \frac{1}{2}$ – yolg'on. $P(-\frac{1}{2})$: $(-\frac{1}{2})^2 > -\frac{1}{2}$ – rost. \blacktriangle

Ayrim predikatlarda o'zgaruvchini uning ma'nosiga qarab aniqlash mumkin.

Masalan, "Bu yozuvchi Toshkentda tug'ilgan" va "U Toshkentda tug'ilgan" darak gaplarda o'zgaruvchi "Bu yozuvchi" so'z birikmasi yoki "u" olmoshidir. Ularning o'rniga "Abdulla Qodiriy" qiymatini qo'ysak, "Abdulla Qodiriy Toshkentda tug'ilgan" rost mulohazani, "Shekspir" qiymatni qo'ysak, "Shekspir Toshkentda tug'ilgan" yolg'on mulohazani hosil qilamiz.

x orqali o'zgaruvchini belgilasak, yuqoridagi darak gaplarni " x Toshkentda tug'ilgan" shaklida yozish mumkin.

Predikatda bir yoki bir nechta o'zgaruvchi qatnashishi mumkin, qatnashgan o'zgaruvchilarga qarab predikat $P(x)$, $P(x,y)$, $P(x,y,z)$, ... kabi belgilanadi.

Predikatlar bilan birga \forall (umumiylik kvantori, "barcha ... lar uchun") va \exists (mavjudlik kvantori, "shunday ... mavjudki") maxsus belgilardan foydalanib, yangi

mulohazalar hosil qilinadi. Masalan, $\forall xP(x)$ ko'rinishdagi yangi mulohaza x ning barcha qiymatlari uchun $P(x)$ ekanligini, $\exists xP(x)$ ko'rinishdagi yangi mulohaza esa x ning $P(x)$ bo'ladigan qiymati mavjudligini bildiradi.

Masalan, $P(x)$: "x Samarqandda tug'ilgan" predikatni qaraymiz. U holda $\forall xP(x)$ ko'rinishdagi yangi mulohaza "hamma Samarqandda tug'ilgan" kabi, $\exists xP(x)$ ko'rinishdagi yangi mulohaza esa "shunday kishilar mavjudki, ular Samarqandda tug'ilgan" kabi o'qiladi.

$\forall xP(x)$, $\exists xP(x)$ ko'rinishdagi mulohazalarning rost-yolg'onligini aniqlash uchun misollar keltiramiz.

2-misol.

$D = \{1, 2, 3, 4, 5\}$ bo'lsa, $\forall x \in D, x^2 \geq x$ mulohaza rost ekanligini isbotlang.

△ Ravshanki,

$$1^2 \geq 1, \quad 2^2 \geq 2, \quad 3^2 \geq 3, \quad 4^2 \geq 4, \quad 5^2 \geq 5.$$

Demak, $\forall x \in D, x^2 \geq x$ mulohaza rost ekan. ▲

Aytish joizki, $\forall x \in \mathbb{R}, x^2 \geq x$ mulohaza yolg'on bo'lishini isbotlash uchun x ning u yolg'on bo'ladigan bitta qiymatini topish yetarli.

Chindan ham, $x = \frac{1}{2}$ bo'lganda $(\frac{1}{2})^2 = \frac{1}{4} \geq \frac{1}{2}$ bo'ladi.

x ning $\forall xP(x)$ mulohazaning yolg'onligini ko'rsatuvchi biror qiymati **kontrmisol** deyiladi.

3-misol. $\exists m \in \mathbb{Z}, m^2 \geq m$ mulohaza rost ekanligini isbotlang.

△ $1^2 = 1$ bo'lgani uchun, $\exists m \in \mathbb{Z}, m^2 \geq m$ mulohaza rost ekan.

Agar $E = \{5, 6, 7, 8\}$ bo'lsa, $\exists m \in E, m^2 \geq m$ mulohaza yolg'on, chunki $5^2 = 25 \neq 5$; $6^2 = 36 \neq 6$; $7^2 = 49 \neq 7$; $8^2 = 64 \neq 8$. ▲

Inkor amali bilan bog'liq ikkita muhim mantiqiy qonunni keltiramiz:

$$\neg(\exists xP(x)) = \forall x(\neg P(x)), \quad \neg(\forall xP(x)) = \exists x(\neg P(x)).$$

Shu qonunlarning ma'nosini tushunish uchun misol keltiraylik.

$P(x)$: "x sinfdoshim a'lochi" predikatni qaraylik.

$\neg(\exists xP(x))$ yozuv "sinfdoshlarim ichida a'lochilar mavjud emas" mulohazani, $\forall x(\neg P(x))$ yozuv esa unga teng kuchli mulohaza bo'lgan "Hamma sinfdoshlarim a'lochi emas" mulohazani bildiradi.

Huddi shunday, $\neg(\forall xP(x))$ formula "Hamma sinfdoshlarim a'lochi ekanligi noto'g'ri" mulohazani, $\exists x(\neg P(x))$ formula esa unga teng kuchli mulohaza bo'lgan "Ayrim sinfdoshlarim a'lochi emas" mulohazani bildiradi.

Ravshanki, $P(x,y)$ predikatdan kvantorlar yordamida

$$\forall xP(x,y), \quad \forall yP(x,y), \quad \exists xP(x,y), \quad \exists yP(x,y)$$

ko'rinishdagi bir o'zgaruvchili predikatlarni, ulardan esa, o'z navbatida,

$$\forall x\exists yP(x,y), \quad \exists y\forall xP(x,y), \quad \exists x\forall yP(x,y), \quad \forall y\exists xP(x,y),$$

$$\forall x\forall yP(x,y), \quad \forall y\forall xP(x,y), \quad \exists x\exists yP(x,y), \quad \exists y\exists xP(x,y)$$

ko'rinishdagi mulohazalarni qurish mumkin.

Garchi $\forall x\forall yP(x,y)$, $\forall y\forall xP(x,y)$ hamda $\exists x\exists yP(x,y)$, $\exists y\exists xP(x,y)$ mulohazalar-ning ma'no'lari bir hil bo'lsa-da, $\forall x\exists yP(x,y)$, $\exists y\forall xP(x,y)$ mulohazalar tengkuchli emas ekan.

Masalan, $P(x,y)$: y inson x sinfdoshimning otasi predikatni qaraymiz.

Bu holda $\forall x\exists yP(x,y)$ = "ixtiyoriy sinfdoshimning otasi bor"; $\exists y\forall xP(x,y)$ "shunday inson borki, u barcha sinfdoshlarimning otasi bo'ladi" mulohazalarni bildiradi.

Xuddi shunday, $\exists x\forall yP(x,y)$, $\forall y\exists xP(x,y)$ mulohazalar tengkuchli emasligini ko'rsatish mumkin (mustaqil ravishda misollar tuzing).

Predikatlar va kvantorlar yordamida mantiqiy qonunlarni hosil qilish mumkin.

Masalan, "Agar barcha qarg'alar qora bo'lsa, qora bo'lmagan qushlarning hech biri qarg'a emas" mulohaza

$$\forall x(A(x) \Rightarrow B(x)) \Rightarrow \forall x (\neg B(x) \Rightarrow \neg A(x))$$

mantiqiy qonunga misol bo'la oladi.

Mashqlar

69. Mulohazalarni predikatlar va kvantorlar yordamida ifodalang:

- ayrim qushlar ucha olmaydi;
- ayrim yozuvchilar shoir emas;
- ayrim pashshalar chaqmaydi;
- hamma sayyoralar shar shaklida;
- barcha askarlar kuchli insonlar;
- barcha jarrohlar – shifokorlar;
- hamma ayiqlar asalni iste'mol qiladilar;
- har qanday doira – yassi shakl;
- ayrim quyonlar karamni yaxshi ko'radilar;
- ayrim kitoblar qiziqarli;
- hamma onalar bolalarini erkalaydilar.

Shu mulohazalarning inkorini tuzing-chi?

70. Mulohazalarni, mumkin bo'lsa, davom ettiring:
- hech qanday sut emizuvchi jabralardan nafas ola olmaydi. Sazan jabralardan nafas oladi. Demak,
 - barcha insonlarning kamchiliklari bor. Barcha qirollar – insonlar. Demak,
 - qizil rangdagi gullarning hidi yo'q. Bu gulning hidi yo'q. Demak....;
 - bo'rilar qo'zilarni eydi. Bu hayvon qo'zini eydi. Demak....;
 - barcha sayyoralar – osmon jismlari. Oy – sayyora emas. Demak....;
 - barcha metallar elektr tokini yaxshi o'tkazadi. Oltin – metall. Demak.... ;
 - barcha qushlar tuxum qo'yadi. Barcha qushlar umurtqali. Demak....;
 - agar insonning temperaturasi baland bo'lsa, u kasallangan bo'ladi. Bu insonning temperaturasi baland. Demak....;
 - agar insonning temperaturasi baland bo'lsa, u kasallangan bo'ladi. Bu inson kasal emas. Demak....
71. $P(x,y)$: y inson x ning farzandi, predikatlar berilgan bo'lsin. Mulohazalarni tabiiy tilda ifodalang:
- $\exists z P(x,z) \wedge P(z,y)$;
 - $\forall x \exists y P(x,y)$;
 - $\forall x \exists y P(y,x)$.
72. $F(x,y)$: x inson y ni o'z do'sti deb hisoblaydi predikat berilgan bo'lsin. Mulohazalarni tabiiy tilda ifodalang:
- $\forall x \forall y F(x,y) \Rightarrow F(x,y)$;
 - $\forall x \exists y F(x,y)$;
 - $\exists y \forall x F(x,y)$;
 - $\forall x \exists y F(y,x)$;
 - $\exists y \forall x F(y,x)$;
 - $\forall y \exists x F(x,y)$;
 - $\exists x \forall x F(y,x)$.
73. $D(m,n)$: n butun son m butun songa qoldiqsiz bo'linadi predikat berilgan bo'lsin. Mulohazalardan qaysi biri rost:
- $\forall m \forall n D(m,n)$;
 - $\forall n \exists m D(m,n)$;
 - $\exists m \forall n D(n,m)$;
 - $\exists n \forall m D(n,m)$;
 - $\forall n \exists m D(n,m)$;
 - $\exists m \forall n D(n,m)$,
74. Mulohazalardan qaysilari to'g'ri? Tegishli misollar keltiring.
- $\forall x \in \mathbb{R}, \exists y \in \mathbb{R}, x < y$;
 - barcha boshqa sonlardan kichik bo'lgan son mavjud;
 - agar $\forall x \exists y P(x,y)$ bo'lsa, u holda $\exists y \forall x P(x,y)$ bo'ladi.

Fikrni to'g'ri bayon qilishga tafakkur qonunlari talablariga rioya qilgandagina erishish mumkin. *Tafakkur qonuni* muhokama yuritish jarayonida fikrlar (fikrlash elementlari) o'rtasidagi mavjud zaruriy aloqalardan iborat. Tafakkur qonunlari mazmunidan kelib chiqadigan, muhokamani to'g'ri qurish uchun zarur bo'lgan talablar fikrning aniq, izchil, yetarli darajada asoslangan bo'lishidan iborat.

Hukmlarda predmet bilan uning xossasi, predmetlar o'rtasidagi munosabatlar, predmetning mavjud bo'lish yoki bo'lmasligi haqidagi fikrlar tasdiq yoki inkor shaklda ifoda etiladi. Masalan, "Temir–metall" degan hukmda predmet (temir) bilan uning xossasi (metall ekanligi) o'rtasidagi munosabat qayd etilgan. "Axloq huquqdan ilgari paydo bo'lgan" degan hukmda esa ikkita predmet (axloq va huquq) o'rtasidagi munosabat qayd etilgan. Mazmun jihatdan turli xil bo'lgan bu hukmlar tuzilishiga ko'ra bir xildir: ularda predmet haqidagi tushunchalar majmuasi (S) bilan predmet belgisi haqidagi tushuncha (R) o'rtasidagi munosabat qayd etilgan, ya'ni R ning S ga xosligi tasdiqlangan.

Umumiy holda hukm $S \Rightarrow R$ mantiqiy shaklida ifoda etiladi.

Biz S mulohazalar majmuasini **asos**, R mulohazani esa **xulosa** deb ataymiz. Hukmda asos va xulosa "demak" bog'lovchi so'z bilan bog'lanadi.

Odatda $S \Rightarrow R$ hukmda asos va xulosa gorizontaal chiziq bilan bunday

ajratiladi: $\frac{S}{R}$. Soddagina misolni keltiraylik.

Agar Sobir sport bilan shug'ullansa, u sog'lom bo'ladi.

Sobir sport bilan shug'ullanmoqda.

Demak, Sobir sog'lom bo'ladi.

Bu hukmning mantiqiy shaklini topaylik.

p : Sobir sport bilan shug'ullanmoqda.

q : Sobir sog'lom

mulohazalarni qarasaq, hukm quyidagi ko'rinishga ega bo'ladi:

$$\frac{\left. \begin{array}{l} p \Rightarrow q \\ p \end{array} \right\} \text{asos}}{q \left. \right\} \text{xulosa}}$$

$p \Rightarrow q$ va p mulohazalardan q mulohaza kelib chiqqani uchun, hukm

$(p \Rightarrow q) \wedge p \Rightarrow q$ mantiqiy shaklga ega.

Hukmning rostlik jadvalni tuzamiz:

| p | q | $p \Rightarrow q$ | $(p \Rightarrow q) \wedge p$ | $(p \Rightarrow q) \wedge p \Rightarrow q$ |
|-----|-----|-------------------|------------------------------|--|
| T | T | T | T | T |
| T | F | F | F | T |
| F | T | T | F | T |
| F | F | T | F | T |

Natijada tautologiyani hosil qildik. Bu holat hukmning **to'g'riligini** ko'rsatmoqda, ya'ni berilgan asoslardan to'g'ri xulosa chiqarilganligini bildirmoqda.

1-misol. Quyidagi hukmning noto'g'riligini isbotlang:

Agar uchburchak uchta tomonga ega bo'lsa, u holda $2+4=7$.

Demak, uchburchak uchta tomonga ega.

△ Bu hukmning mantiqiy shaklini topaylik.

p : uchburchak uchta tomonga ega.

q : $2+4=7$

mulohazalarni qarasaq, hukm quyidagi ko'rinishga ega bo'ladi:

$$\frac{\left. \begin{array}{l} p \Rightarrow q \\ p \end{array} \right\} \text{asos}}{q} \left. \right\} \text{xulosa}$$

$p \Rightarrow q$ va q mulohazalardan p mulohaza kelib chiqqani uchun, hukm $(p \Rightarrow q) \wedge q \Rightarrow p$ mantiqiy shaklga ega.

Rostlik jadvalini tuzamiz:

| p | q | $p \Rightarrow q$ | $(p \Rightarrow q) \wedge q$ | $(p \Rightarrow q) \wedge q \Rightarrow p$ |
|-----|-----|-------------------|------------------------------|--|
| T | T | T | T | T |
| T | F | F | F | T |
| F | T | T | T | F |
| F | F | T | F | T |

Natijada tautologiya hosil bo'lmadi. Bu holat hukmning **noto'g'riligini** ko'rsatmoqda, ya'ni berilgan asoslardan to'g'ri xulosa chiqarilmaganligini bildirmoqda.

Quyida biz to'g'ri hukmlarni (**argumentatsiya** qonunlarini) keltiramiz:

| T.r | Hukm | Ma'nosi | Misol |
|-----|------------------------------------|---|---|
| 1°. | $\frac{p \Rightarrow q}{p}$ q | p to'g'ri bo'lganda q to'g'ri bo'lsin. Bunda p to'g'ri. Demak, q ham to'g'ri. | Agar darslikni o'qisam, a'lo baho olaman. Darslikni o'qidim. Demak, a'lo baho olaman. |

| | | | |
|-----|---|---|---|
| 2°. | $\frac{p \Rightarrow q}{\neg p}$ $\neg q$ | p to'g'ri bo'lganda, q to'g'ri bo'lsin. Ammo q noto'g'ri. Demak, p ham noto'g'ri. | Agar kitob o'qisam, a'lo baho olaman. A'lo baho olmadim. Demak, kitob o'qimadim. |
| 3°. | $\frac{p \vee q}{\neg p}$ q | p yoki q to'g'ri va p noto'g'ri bo'lsin. Demak, q noto'g'ri. | Men yoki kitob o'qiyman, yoki kino ko'raman. Men kitob o'qimadim. Demak, men kino ko'rdim. |
| 4°. | $\frac{p \Rightarrow q}{q \Rightarrow r}$ $p \Rightarrow r$ | p dan q hamda q dan r kelib chiqsin. U holda p dan r kelib chiqadi. | Agar havo ochiq bo'lsa, men sport maydonchaga boraman. Agar men sport maydonchaga borsam, futbol o'ynayman. Demak, havo ochiq bo'lsa, men futbol o'ynayman. |

Biz hukmlarning to'g'riligini isbotlashni mashq sifatida o'quvchiga tavsiya etamiz.

Mashqlar

75. Quyidagi hukmni qaraylik:

Alijon shamollagandagina, uning tana temperaturasi baland bo'ladi.
 Alijon tanasining temperaturasi baland emas.

Demak, Alijon shamollamagan.

- a) hukmning mantiqiy shaklini yozing;
 b) hukmning to'g'ri ekanligini isbotlang.

76. Hukmlarning mantiqiy shaklini yozing:

a)

I
$$\frac{p \Rightarrow q}{\neg q}$$

$$\neg p$$

II
$$\frac{p \vee q}{\neg p}$$

$$q$$

III
$$\frac{p \vee q}{p}$$

IV
$$\frac{p \Rightarrow q}{\neg p}$$

$$\neg q$$

V
$$\frac{p \Rightarrow q}{q \Rightarrow p}$$

$$p$$

b) har bir hukm uchun rostlik jadvalini yozib, ulardan qaysilari to'g'ri ekanligini toping.

c) tabiiy tilda ifodalanishiga misollar keltiring.

77. Mulohazalarni hukm shaklida yozing:

a) $(p \wedge q) \Rightarrow p$;

c) $(p \Rightarrow q) \wedge (q \Rightarrow p) \Rightarrow (p \Leftrightarrow q)$;

b) $(p \Rightarrow q) \wedge \neg q \Rightarrow p$;

d) $(p \wedge \neg q) \Rightarrow (\neg p \vee p)$.

Hosil bo'lgan hukmlardan qaysilari to'g'ri?

78. p : x – tub son va q : x – toq son mulohazalarni qaraylik:

Quyidagi hukmlardan qaysilari to'g'ri?

- a) Agar x – tub son bo'lsa, u toq bo'ladi. x – toq yoki tub son. Demak, x – toq son;

b) x – toq yoki tub, ammo bir vaqtda emas. x – toq son. Demak, x – tub son.

79. **Hukm berilgan:** Davron musobaqada qatnashishi uchun u yoki Singapurga, yoki Gongkongga boradi. Davron Singapurga borishi ma'lum. Demak, Davron Gongkongga bormaydi.

a) rostlik jadvali yordamida bu hukm noto'g'ri ekanligini isbotlang;

b) nega bu hukm noto'g'ri ekanligini tushuntiring.

80. **Quyidagi hukmlardan qaysilari to'g'ri, qaysilari noto'g'ri:**

a) Tolib soat 10.00 da yoki kinoga, yoki teatrga boradi. Tolib soat 10.00 da kinoga bormadi. Demak, Tolib soat 10.00 da teatrdagi bordi;

b) x soni 4 ga karrali bo'lsa, u juft son bo'ladi. x – juft son, demak, u 4 ga karrali;

c) x soni yoki 30 ning yoki 50 ning bo'luvchisi. Demak, x soni 50 ning bo'luvchisi;

d) agar ketma-ketlik arifmetik progressiya bo'lmasa, u geometrik progressiya bo'ladi. Demak, ketma-ketlik yoki arifmetik yoki geometrik progressiya bo'ladi;

e) barcha sinfdoshlarim yaxshi o'qiydi. Mahsuma yaxshi o'qiydi. Demak, Mahsuma mening sinfdoshim.

81. **Mulohazalarni davom ettirib, to'g'ri hukmlarni hosil qiling:**

a) Ikkalamizdan birimiz hozir stomatolog qabuliga kirishimiz kerak.

Men kirmayman. Demak

b) Men yoki maktabga boraman, yoki onam meni qattiq urushadi. Bugun men maktabga aniq bormayman. Demak

c) Agar men masalani to'g'ri yechsam, uning javobi kitobdagi javob bilan bir xil bo'ladi. Mening natijam kitobdagi javobdan farqli. Demak

d) Agar Genri uylangan bo'lsa, uning mulkiga turmush o'rtog'i ega bo'ladi. Agar uylanmagan bo'lsa, uning mulkiga akasi ega bo'ladi. Demak, uning mulkiga

e) Yoki poyezd kech qolmoqda, yoki uni bekor qilishgan. Agar uni bekor qilishgan bo'lsa, men bugun hech qayerga ketmayman. Agar u kech qolayotgan bo'lsa, men ishga vaqtida bora olmayman. Demak men.....;

f) Agar 2 – tub son bo'lsa, u eng kichik tub son bo'ladi. 2 – tub son. Demak

Sofizmlar va paradokslar

Sofizm² – ataylab chiqariladigan noto'g'ri xulosa, biror tasdiqning noto'g'ri isboti. Bunda isbotdagi xato ancha ustalik bilan, bilintirmay yashiriladi.

2 Qad. yun. σοφισμα – hiyla.

Sofizmga oid masalalarni dastlab, miloddan avvalgi V asrda Qadimgi Yunonistonda yashagan matematik Zenon tuzgan.

Zenon, mashhur chopqir Axillesning oldinda sudralib ketayotgan toshbaqaga hech qachon quvib yeta olmasligini matematik mulohazalar yordamida quyidagicha "isbot" qilgan. Axilles toshbaqaga qaraganda 10 marta tezroq chopa oladi. Dastlab, toshbaqa 100 metr oldinda bo'lsin. Axilles bu 100 metrni chopib o'tguncha, toshbaqa 10 metr ilgarilaydi. Axilles bu 10 metrni chopib o'tguncha toshbaqa yana 1 metr siljiydi va h.k. Ular orasidagi masofa doim qisqarib boradi, lekin hech qachon nolga aylanmaydi.

Zenon masalalari cheksizlik, harakat, koinot tushunchalari bilan bog'liq bo'lib, ular matematika va fizika fanlarining rivojida katta ahamiyatga ega bo'ldi.

Ayrim sofizmlar ulug' ajdodlarimiz Farobiy asarlarida, Beruniy bilan Ibn Sinoning yozishmalarida muhokama qilingan.

Biz quyida eng sodda sofizmlarga misollar keltirib, ularni tushuntirishga harakat qilamiz.

2-misol. *1000 so'm qayerga ketdi?* 3 ta do'st oshxonada ovqatlanib bo'lish-gach xizmatchi ularga 25000 so'mlik hisobni berdi. 3 nafar do'stning har biri 10000 so'mdan pul berib, 30000 so'mni xizmatchiga berishdi. Xizmatchi ularga 5000 so'm qaytim berdi. Do'stlar 1000 so'mdan bo'lishib olishdi va 2000 so'mni taksi uchun berishdi. Qaytishayotganda do'stlardan biri hisoblay boshladi, "Har birimiz 9000 so'mdan xarajat qildik, bu 27000 so'm bo'ladi, 2000 so'm taksiga berdik, buni qo'shsak 29000 so'm bo'ladi. 1000 so'm qayerga ketdi?"

△ Bu yerdagi asosiy xatolik hisoblashning noto'g'ri qilinayotganida. 3 nafar do'st 9000 so'mdan 27000 so'm pul to'lashdi. Bundan 25000 so'mini ovqatga to'lab, 2000 so'mini taksi uchun do'stiga berishdi, demak, umumiy hisob 27000 so'm bo'ladi. Yuqoridagi hisoblashda 2000 so'm 27000 so'mning ichida yotibdi. ▲

3-misol. *"2·2=5" sofizmi:* $20-16-4=25-20-5$ to'g'ri tenglikni soddalashtiramiz:
 $2(10-8-2)=25-20-5$
 $2·2·(5-4-1)=5·(5-4-1)$

Oxirgi tenglikning o'ng va chap qisimlarini umumiy $(5-4-1)$ ko'paytuvchiga qisqartirib, $2·2=5$ tenglikni hosil qilamiz.

△ Bu yerdagi qilinayotgan asosiy "xatolik" $2·2·(5-4-1)=5·(5-4-1)$ tenglikning ikki qismini nolga teng bo'lgan $(5-4-1)$ ko'paytuvchiga qisqartirishda. ▲

Paradoks³ – ko'pchilik tomonidan qabul etilgan an'anaviy fikrga o'z mazmuni yoki shakli bilan keskin zid bo'lgan, kutilmagan mulohaza. Har qanday paradoks "shubhasiz to'g'ri" (asoslimi, asossizmi – bundan qat'iy nazar) hisoblangan u yoki bu fikrni inkor etishdek ko'rinadi. "Paradoks" terminining o'zi ham dastlab antik falsafada har qanday g'alati, original fikrni ifodalash uchun ishlatilgan.

Paradokslar, odatda, mantiqiy asoslari to'la aniqlanmagan nazariyalarda uchraydi.

4-misol

Yolg'onchi paradoksi. "Men tasdiqlayotgan barcha narsa yolg'on" mulohazani qaraylik.

△ Agar bu mulohaza rost bo'lsa, bu mulohazaning ma'nosiga asosan aytilgan mulohazaning yolg'on ekanligi haqiqat. Agar bu mulohaza yolg'on bo'lsa, mulohazadagi ta'kid – yolg'on. Demak, bu mulohaza yolg'on degan mulohaza yolg'on, shunday ekan, bu mulohaza haqiqat. Ziddiyat. ▲

5-misol

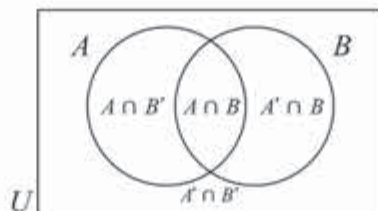
Refleksivlik paradoksi. O'zbek tilidagi so'zning ma'nosi o'zida ifodalansa, uni refleksiv deb ataylik.

Masalan, "o'zbekcha" so'zi refleksiv, "inglizcha" so'zi esa refleksiv emas. Huddi shunday, "o'nta harfli" so'zi undagi harflar soni chindan ham, 10 ga teng bo'lgani uchun refleksiv, "oltita harfli" so'zi esa refleksiv emas. Barcha refleksiv so'zlar to'plamini qaraylik. "Norefleksiv" so'zining o'zi refleksivmi?

△ Agar bu so'z refleksiv bo'lsa, u holda ma'nosiga ko'ra, u norefleksiv. Agar bu so'z norefleksiv bo'lsa, u holda uning ma'nosi o'zida ifodalangani uchun, u refleksiv bo'ladi. Ziddiyat. ▲

16-18 MASALALAR YECHISH

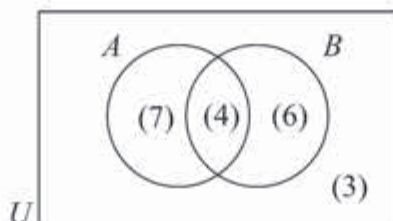
1-masala. Kesishadigan ikkita A , B to'plamlar universal to'plamni to'rt qismga ajratadi:



3 Qad. yun. παράδοξος – kutilmagan, g'alati.

△ Demak, universal to'plam elementlari soni shu qismlar elementlari soni yig'indisi ekan.

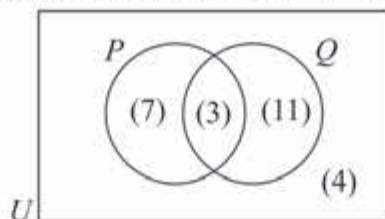
Quyidagi diagrammada universal to'plam mos qismlarining elementlari soni qavsga olinib yozilgan:



Bu yerda, masalan, A , B to'plamlarning ikkalasiga 4 ta element tegishli, 3 ta element esa birortasiga ham tegishli emas.

U to'plamning ixtiyoriy elementi 4 ta qismlardan aqalli bittasiga tegishli bo'lgani bois U to'plam elementlarining soni $7+4+6+3=20$ ga teng. ▲

2-masala. Rasmga qarab, quyidagi to'plamlarning elementlari sonini toping:



- a) P ; b) Q ; c) $P \cup Q$;
 d) P ga tegishli, ammo Q ga tegishli bo'lmagan elementlar to'plami;
 e) Q ga tegishli, ammo P ga tegishli bo'lmagan elementlar to'plami;
 f) na P ga, na Q ga tegishli bo'lmagan elementlar to'plami.

- △ a) $n(P)=7+3=10$; b) $n(Q)=7+4=11$;
 c) $n(P \cup Q)=7+3+4=21$; d) $n(P, \text{ ammo } Q \text{ emas})=7$;
 e) $n(Q, \text{ ammo } P \text{ emas})=11$. ▲

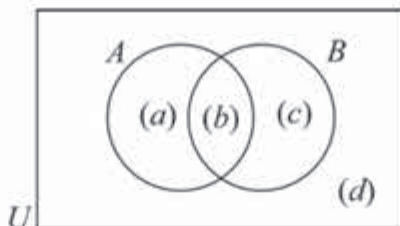
3-masala. Agar $n(U)=30$, $n(A)=14$, $n(B)=17$ va $n(A \cap B)$ bo'lsa,

- a) $n(A \cup B)$ ni toping.
 b) A ga tegishli, ammo B ga tegishli bo'lmagan elementlar to'plami nechta elementdan tashkil topgan?

△ Venn diagrammasini tuzamiz:

$n(A \cap B)$ dan $b=6$; $n(A)$ dan $a+b=14$; $n(B)$ dan $b+c=17$; $n(U)$ dan $a+b+c+d=30$ tenglik kelib chiqadi.

Demak, $b=6$, $a=8$, $c=11$, $d=5$.



Diagrammadan quyidagilarga ega bo'lamiz:

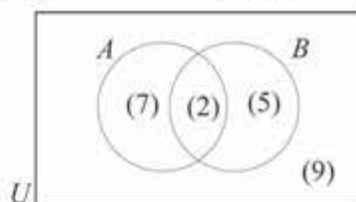
a) $n(A \cup B) = a + b + c = 25$;

b) A ga tegishli, ammo B ga tegishli bo'lmagan elementlar soni $a = 8$ ga teng. ▲

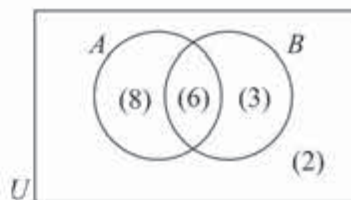
Mashqlar

Diagrammadan foydalanib, quyidagi to'plamlar elementlari sonini toping:

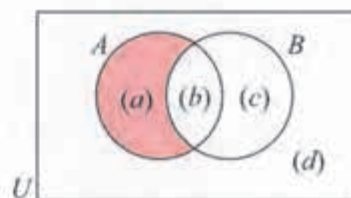
82. a) B ; b) A' ; c) $A \cup B$;
 d) A ga tegishli, ammo B ga tegishli bo'lmagan elementlar to'plami;
 e) B ga tegishli, ammo A ga tegishli bo'lmagan elementlar to'plami;
 f) na A ga, na B ga tegishli bo'lmagan elementlar to'plami.



83. a) X' ; b) $x \cap Y$; c) $x \cup Y$;
 d) x ga tegishli, ammo Y ga tegishli bo'lmagan elementlar to'plami;
 e) Y ga tegishli, ammo x ga tegishli bo'lmagan elementlar to'plami;
 f) na x ga, na Y ga tegishli bo'lmagan elementlar to'plami.



84. a) $n(B)$; b) $n(A')$;
 c) $n(A \cap B)$; d) $n(A \cup B)$;
 e) $n((A \cap B)')$; f) $n((A \cup B)')$.



85. $n(U) = 26$, $n(A) = 11$, $n(B) = 12$ va $n(A \cap B) = 8$ bo'lsa:

a) $n(A \cup B)$ ni toping;

b) B ga tegishli, ammo A ga tegishli bo'lmagan elementlar to'plami nechta elementdan tashkil topgan?

86. $n(U) = 32$, $n(M) = 13$, $n(M \cup N) = 26$ va $n(M \cap N) = 5$ bo'lsa:

a) $n(N)$; b) $n((M \cup N)')$ ni toping.

87. $n(U)=50$, $n(S)=30$, $n(R)=25$ va $n(R \cup S)=48$ bo'lsa:

a) $n(R \cap S)$;

b) S ga tegishli, ammo R ga tegishli bo'lmagan elementlar to'plami nechta elementdan tashkil topgan?

4-masala. Sport to'garagida qatnashgan 27 nafar o'quvchidan 19 nafari qora sochli, 14 nafari qora ko'zli va 11 nafari ham qora sochli, ham qora ko'zli.

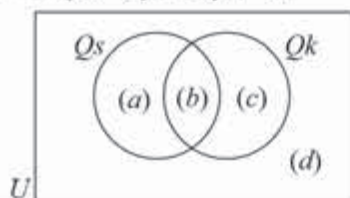
a) Bu ma'lumotni Venn diagrammasida tasvirlang va tushuntiring.

b) **I** Yo qora sochli, yo qora ko'zli; **II** qora sochli, ammo qora ko'zli emas o'quvchilar nechta?

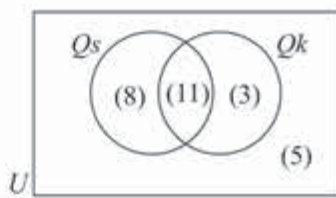
△ a) Q_s – qora sochli, Q_k esa qora ko'zli o'quvchilar to'plami bo'lsin. Quyidagi diagrammaga ega bo'lamiz:

Bunda

$$a+b+c+d=27; \quad a+b=19; \quad b+c=14; \\ b=11; \quad a=8; \quad c=3; \quad d=5.$$



Ya'ni



b) Diagrammaga qarab, quyidagilarni aniqlaymiz:

I Yo qora sochli, yo qora ko'zli o'quvchilar soni

$$n(Q_s \cap Q_k) = 8 + 11 + 3 = 22 \text{ ta};$$

II qora sochli, ammo qora ko'zli emas o'quvchilar soni

$$n(Q_s \cap Q_k') = 8 \text{ ta.} \blacktriangle$$

Mashqlar

88. Badminton klubida 41 nafar qatnashchidan 31 nafari yakka tartibda va 16 nafari juftliklarda o'ynadilar. Nechta qatnashchi ham yakka tartibda, ham juftliklarda o'ynaganlar?

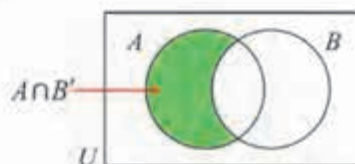
89. Korxonada 56 nafar ishchi ishlamoqda. 1 hafta ichida shulardan 47 nafari kunduzgi va 29 nafari kechki smenalarda ishladilar. Nechta ishchi ham kunduzgi, ham kechki smenada ishladilar?

90. Quyidagi Venn diagrammasiga qarab

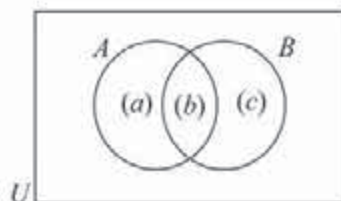
$$n(A \cap B') = n(A) - n(A \cap B),$$

$$n(A' \cap B) = n(B) - n(A \cap B)$$

tengliklar o'rinli ekanligi ko'rsating.



91. Venn diagrammasidan foydalanib,
 $n(A \cup B) = n(A) + n(B) - n(A \cap B)$
 formulani keltirib chiqaring.



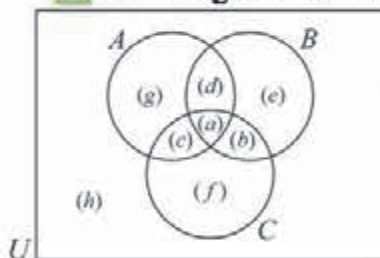
92. 50 ta talabadan 40 tasi ingliz tilini, 25 tasi esa nemis tilini o'rganmoqda. Ikkala tilni ham o'rganayotgan talaba nechta?

4-masala. Futbol musobaqasida shahardan 3 ta A , B va C jamoa qatnashmoqda. Shahar aholisining 20 foizi A jamoaga, 24 foizi B jamoaga va 28 foizi C jamoaga muxlislik qiladilar. Shahar aholisining 4 foizi ham A , ham B jamoaga, 5 foizi ham A , ham C jamoaga, 6 foizi esa ham B , ham C jamoaga muxlislik qiladi. Bundan tashqari, shahar aholisining 1 foizi barcha jamoalarga muxlislik qilganligi ma'lum.

Shahar aholisining necha foizi:

- faqat A jamoaga muxlislik qiladi;
- ham A , ham B jamoaga muxlislik qilib, C jamoaga muxlislik qilmaydi;
- hech qanday jamoaga muxlislik qilmaydi?

△ Venn diagrammasini ma'lumotlar bilan to'ldiramiz.



$a=1$, chunki shahar aholisining 1 foizi barcha jamoalarga muxlislik qiladi.

$a+d=4$, chunki shahar aholisining 4 foizi ham A , ham B jamoaga muxlislik qiladi.

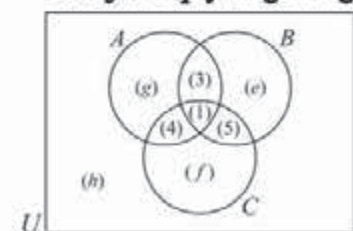
$a+b=6$, chunki shahar aholisining 6 foizi ham B , ham C jamoaga muxlislik qiladi.

$a+c=5$, chunki shahar aholisining 5 foizi ham

B , ham C jamoaga muxlislik qiladi.

Demak, $d=3$, $b=5$, $c=4$.

Natijada quyidagi diagramma hosil bo'ladi:



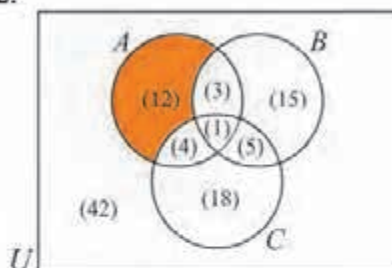
Bundan tashqari, shahar aholisining 20 foizi A jamoaga muxlislik qilgani uchun $g+1+4+3=20$, ya'ni $g=12$.

Xuddi shunday, shahar aholisining 24 foizi B jamoaga muxlislik qilgani uchun $e+1+5+3=24$, ya'ni $e=15$.

Nihoyat, shahar aholisining 28 foizi C jamoaga muxlislik qilgani uchun $f+1+5+4=28$, ya'ni $f=18$.

Shahar aholisi 100 foiz bo'lgani uchun, hech qaysi jamoaga muxlislik qilmaganlar foizi $h=42$ ga teng.

a) faqat A jamoaga muxlislik qiladiganlarning foizini mos bo'lakni bo'yab topamiz: $g=20-4-3-1=12$.



b) ham A , ham B jamoaga muxlislik qilib, C jamoaga muxlislik qilmaydiganlar foizi $12+3+15=30$ ga teng.

c) hech qanday jamoaga muxlislik qilmaydiganlar soni $h=42$ ga teng. ▲

Mashqlar

93. Xalqaro anjumanda 58 nafar ishtirokchilar turli tillarda, jumladan 28 nafari arab, 27 nafari xitoy, 39 nafari esa ingliz tilida muloqot qila oladilar.
- faqat xitoy tilida muloqot qila oladiganlar;
 - shu tillardan birortasida ham muloqot qila olmaydiganlar;
 - na arab, na xitoy tilda muloqot qila olmaydiganlar nechta?

94. Quyidagi mulohazalarning inkorini tuzing:
- quyosh charaqlamoqda va havo issiq;
 - agar osmon bulutsiz bo'lsa, men daryoga boraman;
 - yomg'ir yog'mayapti;
 - men yo nazorat ishiga tayyorlanaman, yo nazorat ishini yaxshi yoza olmayman;
 - ayrim o'quvchilar iqtidorli;
 - barcha o'quvchilar iqtidorli;
 - iqtidorli o'quvchilar yo'q;
 - ayrim o'quvchilarning ko'zlari moviy.

Mulohazalarni mantiqiy bog'lovchilar yordamida ifodalang (95–104):

95. Agar talaba matematikani o'zlashtirsa, uning tafakkuri kengayadi.
96. Agar men matematikani va chet tilini o'zlashtirsam, men dam olishga yoki uyga, yoki toqqa ketaman.
97. Ta'til boshlangani yolg'on.

98. Agar inson yoshligidan o'zini boshqara olsa, u holda uning atrofidagilar undan ranjimaydilar va uni hurmat qiladilar.
99. Agar metalldan elektr toki o'tsa, uning temperaturasi oshadi.
100. U uyga yo taksida, yo poezdda ketadi.
101. Bu mahsulot uchun qora yoki rangli metall ishlatilgan.
102. Ta'til boshlanishi uchun chorak tugashi yetarli.
103. Ta'til boshlanishi uchun chorak tugashi zarur.
104. Ta'til boshlanishi uchun chorak tugashi zarur va yetarli.
- Mulohazalarni mantiqiy bog'lovchilar yordamida ifodalang va rost-yolg'onligini aniqlang (105–117):
105. Agar inson ruhiy kasal bo'lsa, u yaqinlarini tanimaydi. Bu inson ruhiy kasal. Demak, u yaqinlarini tanimaydi.
106. Agar men senga ishonsam, sen meni aldaysan. Demak, men senga ishonmasam, sen meni alday olmayсан.
107. Ertaga biz teatrغا yoki muzeyga boramiz. Agar teatrغا borsak, uyga kech qaytamiz. Agar muzeyga borsak, uyga vaqtliroq yetib kelamiz. Ammo biz uyga kech qaytmaymiz. Demak, biz teatrغا emas, muzeyga boramiz.
108. Agar u Alisherning otasi bo'lsa, u Murodning otasi bo'la olmaydi. U Alisherning va Jamshidning otasi ekanligi noto'g'ri ekan. U yo Jamshidning yo Murodning otasi ekanligi aniqlandi. Demak, u Alisherning otasi emas.
109. Agar hozir qish bo'lsa, harorat past bo'ladi. Hozir kuz bo'lmasa, qish bo'ladi. Hozir kuz. Demak, harorat past emas.
110. Agar Po'lat qiziquvchan bo'lmasa, u jurnalist bo'lmaydi. Agar Po'lat jurnalist bo'lsa, u o'qituvchi bo'lmaydi. Po'lat juda qiziquvchan, ammo u o'qituvchi emas. Demak, Po'lat – jurnalist.
111. Agar yomg'ir yog'sa, osmon bulutli bo'ladi. Agar osmon bulutli bo'lmasa, quyosh bo'ladi. Yomgir yog'ayapti, ammo quyosh bor. Demak, quyosh bo'lsa, osmon bulutli bo'lmaydi.
112. Agar Murod yana tezlikni oshirsa, uning hujjatlari olib qo'yiladi. Agar Murod mast holda rulga o'tirsa, u tezlikni oshirmaydi. Bugun Murod mast bo'lmaydi va tezlikni oshirmaydi. Demak, uning hujjatlari bugun olib qo'yilmaydi.
113. Ko'paytirish jadvalini bilmaganlar savodsiz hisoblanadi. Alifboni bilmaganlar ham savodsiz hisoblanadi. U yo ko'paytirish jadvalini, yo alifboni bilmaydi. Demak, u savodsiz.
114. Agar u haq bo'lsa, men undan uzr so'rashim kerak. Agar men haq bo'lsam, u mendan uzr so'rashi kerak. Ikkalamizdan bittamiz albatta uzr so'rashi kerak. Xulosa: birimiz haq.

115. Men yo maktabga boraman, yo meni onam urishadi. Men maktabga bormayman. Demak, meni onam albatta urishadi.

116. Agar men masalani bexato yechsam, olingan natija darslikdagi javob bilan bir xil bo'ladi. Mening natijam bilan darslikdagi javob farqlanmoqda. Demak, men masalani yechishda xatoga yo'l qo'rganman.

117. Fan murakkab emas yoki u yaxshi o'qitilmoqda. Agar fan murakkab bo'lmasa, uni o'zlashtiraman. Agar fan yaxshi o'qitilsa, uni o'zlashtiraman. Demak, barcha hollarda fanni o'zlashtiraman.

118. Rostlik jadvallari yordamida quyidagi mulohazalarning turini aniqlang va tabiiy tildagi mos darak gapga misol keltiring.

a) $p \vee q \Rightarrow p \vee q$;

d) $p \vee q \Rightarrow \neg q \wedge p$;

b) $p \Rightarrow \neg q \vee (p \Rightarrow q)$;

e) $p \Rightarrow (q \Rightarrow p) \wedge (p \vee q)$;

c) $\neg(q \Rightarrow \neg p) \wedge \neg q$;

f) $\neg(p \wedge q) \wedge (q \Rightarrow p) \wedge (p \Rightarrow q) \wedge (p \wedge q)$.

Quyidagi mulohazalarni mantiqiy bog'lovchilar yordamida ifodalang va rost-yolg'onligini aniqlang:

119. Barcha delfinlar – sut emizuvchilar. Birorta ham baliq sut emizuvchi emas. Demak, birorta ham baliq delfin emas.

120. Barcha sigirlar – sut emizuvchilar. Barcha sigirlar pichanni iste'mol qiladilar. Demak, ayrim sut emizuvchilar pichanni iste'mol qiladilar.

121. Ayrim talabalar ishlaydi va ayrim talabalar yaxshi o'qiydilar. Demak, ayrim yaxshi o'qiydigan talabalar ichida ishlaydiganlari bor.

122. Barcha metallar qattiq shaklda. Simob – metall. Demak, simob qattiq shaklda.

123. Hech qanday metall gaz emas. Ayrim moddalar metallar. Demak, ayrim moddalar gaz emas.

124. Barcha metallar issiqlikni yaxshi o'tkazadilar. Barcha metallar elektr tokini o'tkazadilar. Demak, ayrim elektr o'tkazuvchilar issiqlikni yaxshi o'tkazadilar.

125. Ayrim erkaklar matematiklardir. Ayrim matematiklar – faylasuflardir. Demak, ayrim faylasuflar erkaklardir.

126. Barcha alpinistlar dovyurak. Ayrim alpinistlar erkaklar. Demak, ayrim erkaklar dovyurak bo'ladi.

127. Barcha olimlar aqlli. Ayrim aqlli insonlarning tili o'tkir. Demak, ayrim tili o'tkirlar olimlardir.

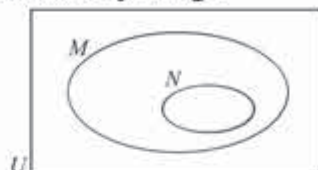
128. Barcha chet tili o'qituvchilari chet tilini yaxshi biladilar. Chet tilini yaxshi biladiganlarning ayrimlari matematikani yaxshi ko'rmaydilar. Demak, matematikani yaxshi ko'radiganlarning ayrimlari chet tili o'qituvchilari emas.

129. Barcha kromanyonlar – agressiv (tajovuskor). Birorta neandertal kromanyon emas. Demak, hech qanday neandertal agressiv emas.
130. Ayrim sut emizuvchilar – kitlar. Barcha kitlar – yirik hayvonlar. Demak, ayrim yirik hayvonlar sut emizuvchilardir.
Matnlarni o‘qing va holatni muhokama qiling (131–138):
131. Krit faylasufi Epimenid barcha kritiklar yolg‘onchi ekanligini tasdiqladi. Epimenid rost gapirdimi?
132. Aflotun: Hozir Suqrot aytgan barcha narsa yolg‘on.
Suqrot: Hozir Aflotun aytgan gap yolg‘on.
Kim rost gapirdi?
133. Qog‘ozning bir tomoniga: "Qog‘ozning boshqa tomoniga yozilgan gap yolg‘on", shu qog‘ozning ikkinchi tomoniga: "Qog‘ozning boshqa tomoniga yozilgan gap yolg‘on" deb yozilgan. Qog‘ozning qaysi tomoniga rost gap yozilgan?
134. Mashhur faylasuf Protagor Evatlni tekinga huquqqa o‘rgatish uchun shogirdlikka oldi. Bunda agar Evatl o‘zining birinchi sud majlisida g‘olib bo‘lsa, menga bir muncha pul to‘laydi ma‘nodagi shartnoma tuzildi. O‘qishdan so‘ng Evatl ishga hech chiqmadi. Natijada uning birinchi sud majlisida qatnashish-qatnashmasligi mavhum bo‘lib qoldi. Protagor o‘zining shogirdi ustidan sudga shikoyat qildi. Sud jarayonidan lavha:
Protagor. Har qanday holatda bu yigit menga to‘lashi kerak. Haqiqatdan ham, agar u bu sudda g‘olib bo‘lsa, shartnomaga ko‘ra u menga to‘laydi. Agar yutmasa, sud qaroriga ko‘ra menga to‘laydi.
Evatl. Men Protagorga hech narsa bermayman! Agar men sudda g‘olib bo‘lsam, g‘olib bo‘lgan odam sifatida hech narsa bermayman. Ammo men yutqazishga ham tayyorman. Bu holda shartnomaga ko‘ra men hech narsa to‘lamayman.
135. Bu qiziqarli gapda so‘zlar soni yettiga teng.
136. Bu gapni o‘qish ma‘n etiladi.
137. Bir inson to‘tiqushni sotayotganda to‘tiqush ixtiyoriy tilda eshitgan har bir so‘zni takrorlaydi, deb ishontirdi. Ammo sotib olingan to‘tiqush hech narsa gapirmadi. Agar sotuvchi aldamaganligi ma‘lum bo‘lsa, holatni tushuntiring.
138. Doniyordagi kitoblar soni 1000 tadan ko‘p.
Yo‘q, undagi kitoblar 1000 tadan kam.
Unda kamida bitta kitob bor.
Shu uchta mulohazadan aqalli bittasi rost. Doniyorda nechta kitob bor?

Nazorat topshiriqlari I variant

1. $U = \{x \mid 0 < x < 10, x \in \mathbb{Z}\}$,
 $A = \{0 \text{ va } 9 \text{ orasidagi barcha juft sonlar}\}$, $B = \{18 \text{ sonining natural bo'luvchilari}\}$ bo'lsa, $A \cap B$ to'plam elementlarini yozing .

2. Diagrammani daftaringizga ko'chiring va $M \cap N$ to'plamni belgilang.



3. p : x – juft son, q : x son 3 ga bo'linadi mulohazalarni qaraylik. Mulohazalarni so'zlar yordamida ifodalang.

Ular qaysi x larda rost? Yolg'on?

a) $\neg p$; b) $p \Rightarrow q$ c) $p \Rightarrow \neg q$.

4. Quyidagilardan qaysilari mantiqiy tengkuchli?

a) $p \Rightarrow q$ va $p \Leftrightarrow \neg p$; b) $p \Leftrightarrow q$ va $(p \wedge q) \wedge \neg p$.

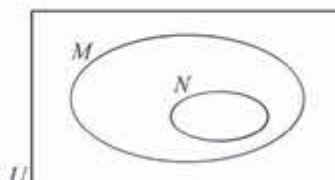
5. Hukmlarning mantiqiy shakllarini yozing. Bu hukmlarning to'g'ri- noto'g'riligini tekshiring.

Agar osmon bulutli bo'lsa, men telpagimni kiyaman. Osmon bulutli. Demak, men telpagimni kiyaman.

II variant

1. $U = \{x \mid 0 < x < 10, x \in \mathbb{Z}\}$, $A = \{0 \text{ va } 9 \text{ orasidagi barcha juft sonlar}\}$,
 $B = \{18 \text{ sonining natural bo'luvchilari}\}$ bo'lsa, $(A \cap B)'$ to'plam elementlarini yozing .

2. Diagrammani daftaringizga ko'chiring va $M \cap N$ to'plamni belgilang.



3. p : x – juft son, q : x son 3 ga bo'linadi mulohazalarni qaraylik. Mulohazalarni so'zlar yordamida ifodalang. Ular qaysi x larda rost? Yolg'on?

a) $p \vee q$; b) $\neg p \wedge q$ c) $\neg p \Rightarrow \neg q$.

4. Quyidagilardan qaysilari mantiqiy tengkuchli?

a) $\neg(p \wedge q)$ va $\neg p \vee \neg q$; b) $\neg p \Rightarrow \neg q$ va $q \Rightarrow p$.

5. Hukmlarning mantiqiy shakllarini yozing. Bu hukmlarning to'g'ri- noto'g'riligini tekshiring. Barcha o'qituvchilar ilmga chanqoq. Muazzam Olimova o'qituvchi emas. Demak, Muazzam Olimova ilmga chanqoq emas.

II BOB



MOLIYAVIY MATEMATIKA ELEMENTLARI

19-21 SODDA FOIZLAR, MURAKKAB FOIZLAR

Ma'lum miqdordagi pul qarzga berilganda qarz oluvchi belgilangan muddatda qarz beruvchiga (*kreditorga*) olingan summani (qarzni) qaytarishi haqida kelishiladi.

Bundan tashqari, har bir qarz oluvchi kreditorga qo'shimcha mablag' to'lashni o'z zimmasiga oladi.

Ravshanki, qarzdor tomonidan to'lanadigan pul qarz miqdoriga, to'lash muddatiga va kreditor tomonidan daromad olish maqsadida belgilangan foiz stavkasiga bog'liq.

Kreditorning qarzdorga ma'lum miqdordagi pulni belgilangan muddatda qarzga berganligi oqibatida oladigan daromadini hisoblash uchun odatda ikki usul: **oddiy (sodda) foizlar va murakkab foizlar** usullari qo'llaniladi.

Oddiy foizlar

Oddiy foizlar – kreditorning qarzdorga ma'lum miqdordagi pulni belgilangan muddatda qarzga berganligi natijasida oladigan daromadini hisoblash usulidir.

Masalan, 2 000 000 so'm 3 yilga qarzga olinmoqda. Bunda kreditor tomonidan har yil 17 foiz stavkasi belgilandi.

Bu holda 1 yildan so'ng $\frac{17}{100} \cdot 2\,000\,000$ so'm, 3 yildan so'ng esa qo'shimcha mablag' $\frac{17}{100} \cdot 2\,000\,000 \cdot 3 = 1\,020\,000$ so'm to'lanishi lozim.

Bu misoldan quyidagi **oddiy foizlar formulasi** deb ataluvchi munosabat kelib chiqadi:

$$I = \frac{Crn}{100},$$

bu yerda C – dastlab olingan qarz miqdori, I – C miqdordagi pulni ishlatgani uchun qarzdorning kreditorga to‘laydigan foiz to‘lovi. Ushbu parametr **foiz** to‘lovi yoki, soddaroq, foiz deb ham ataladi, r – har yilga belgilangan foiz stavkasi, n – yillar soni.

1-misol. 8 000 000 so‘m yiliga 7 foiz stavkasida 18 oyga olingan bo‘lsa, foiz to‘lovni hisoblang.

$$\triangle C = 8000000, \quad r = 7\%, \quad n = \frac{18}{12} = 1,5 \text{ yil.}$$

$$\text{Demak, } I = \frac{Crn}{100} = \frac{8000000 \cdot 7 \cdot 1,5}{100} = 840\,000 \text{ so‘m. } \blacktriangle$$

2-misol. Kreditor tomonidan foiz stavkasi har yilga 8% deb belgilangan. Tadbirkor 4 yil ichida olingan qarzni va foiz to‘loviga qo‘shimcha 1600 AQSh dollarni to‘ladi va qarzdan qutildi. Tadbirkor qancha miqdorda qarz olgan edi?

\triangle Oddiy foizlar formulasiga ko‘ra

$$I = \frac{Crn}{100}, \text{ bu yerda } I = 1600; \quad r = 8; \quad n = 4.$$

$$\text{Demak, } 1600 = \frac{C \times 8 \times 4}{100}.$$

Bundan, $C = 5000$ (AQSh dollari). \blacktriangle

3-misol. Bank dastlab 4000 AQSh dollari miqdorida qarz berib, 18 oyda 900 AQSh dollari daromad oldi. Agar to‘lov yilma-yil amalga oshirilgan bo‘lsa, yillik foiz stavkasi nechaga teng?

\triangle Oddiy foizlar formulasiga ko‘ra

$$I = \frac{Crn}{100}, \text{ bu yerda } I = 900; \quad n = 18 \text{ oy} = 1,5 \text{ yil, } C = 4000.$$

$$\text{Demak, } 900 = \frac{4000 \times r \times 1,5}{100}.$$

Bundan, $r = 15\%$. \blacktriangle

4-misol. Kreditor dastlab 2000 AQSh dollari miqdorida qarz berib, bir necha yil mobaynida yilma-yil to‘langandan so‘ng jami bo‘lib 3000 AQSh dollarni oldi. Agar foiz stavkasi har yilga 12,5% deb belgilangan bo‘lsa, to‘lovlar necha yilda amalga oshirilgan?

△ Kreditor $3000 - 2000 = 1000$ (AQSh dollari) miqdorida daromad olgan. Oddiy foizlar formulasiga ko'ra

$$I = \frac{Crn}{100}, \text{ bu yerda } I=1000; C=2000; r=12,5\%.$$

$$\text{Demak, } 1000 = \frac{2000 \times 12,5 \times n}{100}$$

Javob: 4 yil. ▲

Murakkab foizlar

Murakkab foiz usulining mohiyatini tushunish uchun quyidagi masalaga e'tibor beramiz.

5-misol.

Agar 6000 AQSh dollari miqdorida qarz yillik murakkab foiz stavkasi 8% bilan 3 yilda to'lash sharti bilan olingan bo'lsa, kreditor tomonidan olinadigan daromad qancha bo'ladi?

△ Yillik murakkab foiz stavkasini inobatga olib, har yilgi foiz to'lov miqdorini hisoblaymiz:

| Yil | Qarz (1) | Foiz to'lovi = $\frac{Crn}{100}$ (2) | Balans (1) + (2) |
|-----|-----------|--|------------------|
| 1 | \$6000,00 | $\$6000,00 \times \frac{8}{100} \times 1 = \$480,00$ | \$6480,00 |
| 2 | \$6480,00 | $\$6480,00 \times \frac{8}{100} \times 1 = \$518,40$ | \$6998,00 |
| 3 | \$6998,00 | $\$6998,00 \times \frac{8}{100} \times 1 = \$559,87$ | \$7558,27 |

Demak, 6000 AQSh dollari miqdordagi qarzdagi qutulish uchun 3 yil mobaynida 7558,27 AQSh dollari miqdordagi to'lovlarni amalga oshirish zarur.

Bunda kreditor $\$7558,27 - \$6000 = \$1558,27$ miqdorda daromad oladi. Bu daromad umumiy **murakkab foiz to'lovi (ustama foiz)** deb yuritiladi. ▲

Ko'rinib turibdiki, kreditor daromadi oxirgi yilda hosil bo'lgan balans va dastlabki qarz miqdori ayirmasiga teng ekan.

Murakkab foizlar usuli yilni yarim yilliklarga, choraklarga, oylarga, kunlarga bo'lib qo'llanilishi ham mumkin.

6-misol.

Agar 10000 AQSh dollari miqdorida qarz yillik murakkab foiz stavkasi 6% bilan 1 yilda choraklarga bo'lib to'lash sharti bilan olingan bo'lsa, kreditor tomonidan olinadigan daromad qancha bo'ladi?



| Chorak | Qarz (1) | Foiz to'lovi = $\frac{Crn}{100}$ (2) | Balans (1) + (2) |
|--------|------------|---|------------------|
| 1 | \$10000,00 | $\$10000,00 \times \frac{6}{100} \times \frac{1}{4} = \$150,00$ | \$10150,00 |
| 2 | \$10150,00 | $\$10000,00 \times \frac{6}{100} \times \frac{1}{4} = \$152,25$ | \$10302,25 |
| 3 | \$10302,25 | $\$10302,25 \times \frac{6}{100} \times \frac{1}{4} = \$154,53$ | \$10456,78 |
| 4 | \$10456,78 | $\$10456,78 \times \frac{6}{100} \times \frac{1}{4} = \$156,85$ | \$10613,63 |

Demak, 10000 AQSh dollari miqdordagi qarzdin qutilish uchun 1 yil mobaynida 10613,63 AQSh dollari miqdordagi to'lovlarni amalga oshirish zarur.

Bunda kreditor 613,63 AQSh dollari miqdorda daromad oladi. ▲

Agar qarz bir necha yilga berilgan bo'lsa, yakuniy balans quyidagicha hisoblanadi:

$$A = C\left(1 + \frac{r}{100}\right)^n,$$

bu yerda A – yakuniy balans, C – dastlab olingan qarz miqdori, r – har yilga belgilangan foiz stavkasi, n – yillar soni.

Agar qarz n yilga berilgan bo'lsa, to'lovlar esa har yilni k ta qismga (yarim yilliklar, choraklar, oylar va h.k.) bo'lib amalga oshirilsa, to'lanadigan umumiy miqdor $A = C\left(1 + \frac{r}{100k}\right)^{kn}$ formula bo'yicha hisoblanadi.

Ikkala usulda ham umumiy murakkab foiz to'lovi (ustama foiz)

$I = A - C$ formula bo'yicha hisoblanadi.

6-misolni shu formulalarga tayanib yechamiz.

$$C=10000, r=6, n=1, k=4.$$

$$A = C \times \left(1 + \frac{r}{100k}\right)^{kn}; \quad A = 10000 \times \left(1 + \frac{6}{100}\right)^4; \quad A = 10613,64.$$

Demak, 10000 AQSh dollari miqdordagi qarzdand qutilish uchun 1 yil mobaynida 10613,64 AQSh dollari miqdordagi to'lovlarni amalga oshirish zarur.

Bunda kreditor 613,64 AQSh dollari miqdorda daromad oladi.

Agar bankga oddiy foiz bo'yicha qo'yilgan dastlabki mablag' C so'm bo'lsa, n yildan so'ng bank mijozga $a_n = C(1 + \frac{nr}{100})$ so'm miqdorda pul to'laydi, bunda r bankning yillik foiz stavkasi.

Agar, shu mablag' murakkab foiz bo'yicha bankka qo'yilsa, n yildan so'ng bank mijozga $b_n = C(1 + \frac{r}{100})^n$ so'm miqdorda pul to'laydi.

a_n – ketma-ketlikning arifmetik progressiya,

b_n – ketma-ketlikning esa geometrik progressiya tashkil qilishi ravshan.

Mashqlar

- 3 000 funt sterling yillik foiz stavkasi 7% bo'yicha 3 yilga qarzga olinsa;
 - 6100 AQSh dollari yillik foiz stavkasi 5,9% bo'yicha 15 oyga qarzga olinsa;
 - 800 000 Yaponiya yenasi yillik foiz stavkasi 6,5% bo'yicha 4 yil-u 7 oyga qarzga olinsa;
 - 250 000 yevro yillik foiz stavkasi 4,8% bo'yicha 134 kunga qarzga olinsa;

kreditorga to'lanadigan foiz to'lovini toping.
- 130000 AQSh dollari qarzga berilgan bo'lsa, kreditor qaysi hollarda ko'proq daromad oladi:
yillik foiz stavkasi 7% bo'yicha 5 yilga,
yoki yillik foiz stavkasi 7,7% bo'yicha 5,5 yilga belgilangandami?
- Kreditor tomonidan foiz stavkasi har yilga 7% deb belgilangan. Tadbirkor 5 yil ichida olingan qarzini va foiz to'loviga qo'shimcha 910 AQSh dollarini to'ladi va qarzdand qutildi. Tadbirkor qancha miqdorda qarz olgan?
- Yillik foiz stavkasi 8% deb belgilangan. 3 yil ichida foiz to'loviga qo'shimcha 3456 funt sterling to'langan bo'lsa, qancha miqdorda qarz olingan?
- Investor 21 oyda 2300 yevro daromad olmoqchi. Har yilgi foiz stavkasi 6,5% deb belgilangan bo'lsa, investor qancha miqdorda investitsiya kiritishi lozim?
- Kreditor 4500 AQSh dollari miqdorida qarz berib, 3 yilda 900 AQSh dollariga teng daromad oldi. Yillik foiz stavkasi nechaga teng?
 - Kreditor 170000 Yaponiya yenasi miqdorida qarz berib, 2 yilda 170000 Yaponiya yenasiga teng daromad oldi. Yillik foiz stavkasi nechaga teng?

7. 8 oy mobaynida 9000 AQSh dollari miqdorida qarz olinib, qarzdan tashqari qo'shimcha 700 AQSh dollari to'landi. Yillik foiz stavkasi nechaga teng?
8. Fuqaro 26 million so'm bankka qo'yib, uning hisobida 18 oyda 32 million so'm bo'lganini aniqladi. Yillik foiz stavkasi nechaga teng?
9. a) Kreditor 20000 AQSh dollari qarz berib, 5000 AQSh dollariga teng daromad oldi. Yillik foiz stavkasi 7% bo'lsa, qarz necha yilga olingan?
b) Kreditor 1200 yevro miqdorida qarz berib 487 yevro daromad oldi. Yillik foiz stavkasi 6,75% bo'lsa, qarz necha yilga olingan?
10. Mijoz bankka 9400 funt sterlingni yillik foiz stavkasi 6,75% bilan qo'ydi. 1800 funt sterling daromad olish uchun qancha vaqt kerak?
11. Agar:
 - a) 4500 yevro qarz yillik murakkab foiz stavkasi 7% bilan 3 yilda to'lash sharti ostida;
 - b) 6000 AQSh dollari qarz yillik murakkab foiz stavkasi 5% bilan 4 yilda to'lash sharti ostida;
 - c) 7400 funt sterling miqdorida qarz yillik murakkab foiz stavkasi 6,5% bilan 3 yilda to'lash sharti ostida olingan bo'lsa, yakuniy balansni hisoblang.

22-24 MASALALAR YECHISH

1-masala. Faraz qilaylik, tadbirkor 23000 AQSh dollari miqdorida qarzdan qutulish uchun to'lovlarni yilma-yil emas, masalan, oyma-oy teng qismlarda amalga oshirishga qaror qildi. Agar to'lov davri 6 yil, yillik foiz stavkasi 8% bo'lsa, u har oyda qanday miqdordagi to'lovlarni amalga oshirishi kerak?

△ 1-qadam

Foiz to'lov miqdorini hisoblaymiz.

$C=23\ 000$, $r=8\%$, $n=6$ bo'lgani uchun

$$I = \frac{Crn}{100} = \frac{23000 \times 8 \times 6}{100} = \$11040.$$

2-qadam

Oshgan kapital mablag' miqdorini, ya'ni umumiy to'lanadigan summani hisoblaymiz:

$$C+I = \$23000 + \$11040 = \$34040.$$

3-qadam

Necha oy davomida to'lanishi kerakligini hisoblaymiz:

$$6 \times 12 = 72 \text{ oy.}$$

4-qadam

Demak, har oyida to'lanadigan mablag'

$$\frac{\$34040}{72} \approx \$472,78 \text{ ga teng. } \blacktriangle$$

2-masala.

Agar 8800 yevro qarz yillik murakkab foiz stavkasi 4,5% bilan har yili to'lash sharti ostida olingan bo'lsa, kreditor tomonidan 3,5 yilda olingan daromad qancha bo'ladi?

$$\triangle C=8800, r=4,5\%, n=3,5, k=12 \times 3 \frac{1}{2} = 42$$

$$\text{Demak, } A = C \times \left(1 + \frac{r}{100k}\right)^{kn}; \quad A = 8800 \times \left(1 + \frac{4,5}{1200}\right)^{42},$$

$$A = 10298,08, \quad \text{ya'ni } I = A - C = 10298,08 - 8800 = 1498,08$$

3,5 yilda olingan daromad €1498,08 ga teng. \blacktriangle

3-masala.

Agar bankdan 50000 AQSh dollari miqdorida olingan kredit yillik murakkab foiz stavkasi 5,2% bilan har chorakda to'lash sharti ostida olingan bo'lsa, bankka 3 yilda qancha AQSh dollari to'lanadi?

$$\triangle A=50000, r=5,2\%, n=3, kn=4 \times 3=12$$

$$\text{Demak, } A = C \times \left(1 + \frac{r}{100k}\right)^{kn} \quad 50000 = C \times \left(1 + \frac{5,2}{1200}\right)^{12}$$

$$C = 42820,99. \text{ Bankka 3 yilda } \$42821 \text{ to'lanadi. } \blacktriangle$$

Binolar, inshootlar va imoratlar, texnik vositalar, asbob-uskuna, inventar va jihozlar, kompyuterlar va h.k. lar foydali xizmat muddati davomida eskiradi. Eskirish ulardan foydalanish vaqtida shu vositalarning texnik ishlab chiqarish xossalari asta-sekin yo'qotish jarayonini aks ettiradi.

Amortizatsiya iste'mol qilingan vositalar qiymatini ularning eskirishiga muvofiq ravishda mahsulot tannarxiga, davr xarajatlariga o'tkazish, iste'mol qilingan vositalarning o'rnini qoplash maqsadida pul fondini jamg'arish jarayonini aks ettiradi.

Amortizatsiya qiymatini hisoblash uchun quyidagi formuladan foydalaniladi:

$$A = C \times \left(1 - \frac{r}{100}\right)^n,$$

bu yerda A – n ta davr qismidan keyin bo‘lgan amortizatsiya qiymati, C – dastlabki narx, r – har yilga belgilangan amortizatsiya normasi, n – davr qismlari soni (masalan, yillar).

4- masala.

Qurilish uskunasi 2400 funt sterling narxda sotib olingan. Agar amortizatsiya normasi 15% deb belgilangan bo‘lsa, uning 6 yildan keyingi qiymatini toping.

$$\triangle A = C \times \left(1 - \frac{r}{100}\right)^n, \text{ by yerda } C=2400, r=15, n=6.$$

Demak,

$$A = 2400 \times (1 - 0,15)^6,$$

$$A = 2400 \times (0,85)^6.$$

Amortizatsiya qiymati taqriban 905,16 funt sterling ekanligini topamiz.

Demak, uskunaning 6 yildan keyingi qiymati £2400 – £905,16 = £1494,84 ga teng. ▲

Iste‘mol (masalan mebel, elektron-maishiy texnika, kompyuter, avtomashina va h.k.) tovarlarni yoki uy-joyini (ipoteka) xarid qilish uchun turli kreditlarni rasmiylashtiradilar. Odatda, bunday kreditlar qisqa muddatlarga beriladi va doimiy yoki o‘zgaruvchan ustama foiz belgilanadi.

Quyida biz formulalardan foydalanmasdan tezkor hisob-kitoblar uchun kredit to‘lo‘vi jadvalini keltiramiz (1000 pul birligiga muvofiq):

| Oylar | Yillik ustama foiz | | | | | | |
|-------|--------------------|---------|---------|---------|---------|---------|---------|
| | 6% | 7% | 8% | 9% | 10% | 11% | 12% |
| 12 | 86,0664 | 86,5267 | 86,9884 | 87,4515 | 87,9159 | 88,3817 | 88,8488 |
| 18 | 58,2317 | 58,6850 | 59,1403 | 59,5977 | 60,0571 | 60,5185 | 60,9820 |
| 24 | 44,3206 | 44,7726 | 45,2273 | 45,6847 | 46,1449 | 46,6078 | 47,0735 |
| 30 | 35,9789 | 36,4319 | 36,8883 | 37,3482 | 37,8114 | 38,2781 | 38,7481 |
| 36 | 30,4219 | 30,8771 | 31,3364 | 31,7997 | 32,2672 | 32,7387 | 33,2143 |
| 42 | 26,4562 | 26,9142 | 27,3770 | 27,8445 | 28,3168 | 28,7939 | 29,2756 |
| 48 | 23,4850 | 23,9462 | 24,4129 | 24,8850 | 25,3626 | 25,8455 | 26,3338 |
| 54 | 21,1769 | 21,6416 | 22,1124 | 22,5894 | 23,0724 | 23,5615 | 24,0566 |
| 60 | 19,3328 | 19,8012 | 20,2764 | 20,7584 | 20,2470 | 21,7424 | 22,2444 |

5-misol.

Fuqaro 9200 yevro kredit oldi. Unga 12% yillik foiz to'lovi va 3,5 yillik to'lov muddati belgilangan. Bir oyga qancha to'lanishi kerak? Jami bo'lib qancha to'lanishi kerak?

△ To'lov muddati 42 oy bo'lgani uchun jadvaldan har bir 1000 yevroga €29,2756 yevro to'lanishi kerakligini aniqlaymiz.

Demak, 9200 yevro uchun har oyda $€9200 = €29,2756 \times 9,2$

$$= €269,33552$$

$$\approx €269,340 \text{ to'lanishi kerak.}$$

Jami bo'lib

$$= €269,40 \times 42$$

$$= €11314,80 \text{ to'lanishi kerak.} \quad \blacktriangle$$

Mashqlar

12. 10000 AQSh dollari miqdorida qarz 10 yilga yillik foiz stavkasi 5,75% bo'yicha olindi. Qarz to'lovlarini teng qismlarda har yarim yilda qanday miqdorda amalga oshirishi kerak?
13. 15000 yevro miqdoridagi qarz 36 oyga yillik foiz stavkasi 4,5% bo'yicha olindi. Qarz to'lovlarini teng qismlarda har chorakda qanday miqdorda berish kerak?
14. Bir kishi bankdan 8000 funt sterlingni 3,5 yilga har oyda 230 funt sterling to'lash sharti bilan kreditga oldi. Unga qanday yillik foiz stavkasi belgilangan edi?
15. 6800 AQSh dollari miqdoridagi qarz 2,5 yilga yillik foiz stavkasi 8% bo'yicha olindi. Qarz to'lovlarini teng qismlarda oyma-oy to'lash uchun har oyda qanday miqdorda berish kerak?
16. Agar
 - a) 950 yevro miqdoridagi qarz yillik murakkab foiz stavkasi 5,7% bilan 2 - yilning oxirida;
 - b) 4180 funt sterling miqdoridagi qarz yillik murakkab foiz stavkasi 5,75% bilan 3 - yilning oxirida;
 - c) 237000 Yaponiya yenasi miqdoridagi qarz yillik murakkab foiz stavkasi 7,3% bilan 4 - yilning oxiridahisoblansa, umumiy murakkab foiz to'lovini toping.
17. Maks 8500 AQSh dollari miqdoridagi bank depozitiga pul qo'ydi. Yillik murakkab foiz stavkasini 6% belgilab, bank Maks har chorakda hisobiga pul o'tkazmoqda. 1 yildan so'ng Maksning hisobida qancha pul bo'ladi?
18. Mariya 24000 funt sterlingni yillik murakkab foiz stavkasi 5% bo'yicha bankka qo'ydi. Har oyda bank uning hisobiga pul o'tkazmoqda. 3 oydan so'ng Mariyaning hisobida qancha pul bo'ladi?
19. Kreditor 45000 AQSh dollari miqdorida yillik murakkab foiz stavkasi 8,5% bo'yicha qarz berdi. Agar to'lovlar

- a) oddiy foizlar;
- b) har yarim yilga murakkab foizlar;
- c) har chorakda murakkab foizlar

bo'yicha amalga oshirilsa, 3 yildan so'ng olingan daromadlarni solishtiring.

20. Ofis uchun mebel 2500 yevroga xarid qilindi. Bunday vositalarning amortizatsiya normasi 15% ga teng ekanligi ma'lum. Quydagi jadvalni daftaringizga ko'chiring va to'ldiring.

| Yillar | Amortizatsiya | Narxi |
|--------|---------------------------|-------|
| 0 | | €2500 |
| 1 | $15\% \cdot €2500 = €375$ | |
| 2 | | |
| 3 | | |

21. Fuqaro mebel sotib olish uchun 1200 AQSh dollari miqdorida kredit oldi. Yillik foiz stavkasi 8%, to'lov muddati 5 yil bo'lsa, u har oyda qancha to'lashi kerak? Jami bo'lib qancha mablag' to'lanadi? Kredit to'lovi jadvalidan foydalaning.
22. Fuqaro uy-joyni ta'mirlash uchun 14000 AQSh dollari miqdorida kredit oldi. Yillik foiz stavkasi 11%, to'lov muddati 4 yil bo'lsa, u har oyda qancha to'lashi kerak? Jami bo'lib qancha mablag' to'lanadi? Kredit to'lovi jadvalidan foydalaning.

Nazorat topshiriqlari

1. Bank tomonidan har yilga foiz stavkasi 14% deb belgilangan. Tadbirkor bankdan olgan qarzini va foiz to'loviga qo'shimcha 16000000 so'mni 5 yil ichida to'ladi va qarzdan qutuldi. Tadbirkor qancha miqdorda qarz olgan?
2. Fuqaro dastlab bankka 20000000 so'm omonatga qo'yib, 15 oyda 900000 so'm daromad oldi. Agar to'lov yilma-yil amalga oshirilgan bo'lsa, yillik foiz stavkasi nechaga teng?
3. Agar 20000000 so'm qarz yillik murakkab foiz stavkasi 6% bilan 1 yilda choraklarga bo'lib to'lash sharti bilan olingan bo'lsa, kreditor oladigan daromadi qancha bo'ladi?
4. Djon uy-joy sotib olish uchun 5 yilga 25000 AQSh dollari miqdorida kredit olgan. Yillik murakkab foiz stavkasi 8% bo'lsa va to'lovlar har oyda amalga oshiriladigan bo'lsa u har oyda qancha pul to'lashi kerak? Kreditor qancha daromad oladi?
5. Uskuna 45000 AQSh dollariga sotib olindi va 2 yil 3 oydan so'ng eskirish natijasida uning narxi 28500 AQSh dollariga teng. Uskunaning yillik amortizatsiya normasini toping.

III BOB



ELEMENTAR FUNKSIYALAR VA TENGLAMALAR

25-28

SODDA RATSIONAL TENGLAMALAR VA ULARNING SISTEMALARI

Agar bir tenglamaning barcha yechimlari ikkinchi tenglamaning ham yechimlari bo'lsa, u holda ikkinchi tenglama birinchisining *natijasi* deyiladi.

Ikkita tenglamaning yechimlari to'plamlari ustma-ust tushsa, bunday tenglamalar *tengkuchli* deyiladi.

1-misol. Tenglamalar tengkuchlimi?

$$1) x + 2 = 3 \text{ va } x + 5 = 6; \quad 2) \frac{x^2 + x}{x-1} = 0 \text{ va } \frac{x+1}{x-1} = 0.$$

△ 1) Ikkala tenglama bir hil ildizga ega: $x=1$. Boshqa ildizlar yo'q bo'lgani uchun bu tenglamalar tengkuchli.

2) Birinchi tenglama 0 ildiziga ega, ikkinchisi esa bunday ildizga ega emas. Demak, berilgan tenglamalar tengkuchli emas. ▲

x o'zgaruvchili ikkita $P(x)$ va $Q(x)$ ko'phad berilgan bo'lsin.

$\frac{P(x)}{Q(x)}$ ko'rinishdagi ifoda *ratsional ifoda* deyiladi.

Agar $A(x)$ va $B(x)$ – ratsional ifodalar bo'lsa,

$$A(x)=B(x)$$

ko'rinishdagi tenglama *ratsional tenglama* deyiladi.

Dastlab eng sodda ko'rinishdagi

$$\frac{P(x)}{Q(x)} = 0$$

(1)

ratsional tenglamani qaraylik.

Ma'lumki, $\frac{m}{n}$ kasr nolga teng bo'lishi uchun uning surati nolga teng bo'lishi, maxraji esa nolga teng bo'lmasligi (0 ga bo'lish mumkin emas!) zarur va yetarli.

Demak, (1) tenglamani yechish uchun $Q(x) \neq 0$ va $P(x)=0$ shartlarni bir vaqtda qanoatlantiradigan x noma'lumning barcha qiymatlarini topish zarur va yetarli.

Bu holat qisqa ko'rinishda quydagicha yoziladi:

$$\frac{P(x)}{Q(x)} = 0 \Leftrightarrow \begin{cases} P(x) = 0, \\ Q(x) \neq 0. \end{cases}$$

2-misol. Tenglamani yeching:

- 1) $\frac{x^2 - 2x + 1}{x - 7} = 0;$ 2) $\frac{x^2 - 2x + 3}{x - 7} = 0;$
 3) $\frac{2x^2 - 5x + 3}{9x - 13,5} = 0;$ 4) $\frac{(x-1)^2(x+2)}{x-1} = 0.$

△ 1) $x^2 - 2x + 1 = 0$ tenglama yagona $x=1$ ildizga ega. $x=1$ bo'lganda maxraj noldan farqli. Demak, berilgan tenglama yagona $x=1$ yechimga ega.

2) $x^2 - 2x + 3 = 0$ kvadrat tenglama yechimga ega emas, chunki $D = 1 - 3 = -2 < 0$. Demak, berilgan tenglama ham ildizlarga ega emas.

3) $2x^2 - 5x + 3 = 0$ tenglama kvadrat tenglamadir.

$D = b^2 - 4ac = (-5)^2 - 4 \cdot 2 \cdot 3 = 25 - 24 = 1 > 0$, demak, bu tenglama ikkita ildizga ega:

$$x_{1,2} = \frac{5 \pm 1}{4}; \quad x_1 = \frac{5-1}{4} = 1; \quad x_2 = \frac{5+1}{4} = 1,5.$$

Ammo 1,5 soni $\frac{2x^2 - 5x + 3}{9x - 13,5}$ ifodaning maxrajini nolga aylantiradi, 1 soni esa – yo'q. Demak, berilgan tenglama yagona $x=1$ ildizga ega.

4) $(x-1)^2(x+2) = 0$ tenglama 1 va -2 ikkita ildizlarga ega. Ammo 1 soni $(x-1)$ maxrajni nolga aylantiradi, -2 soni esa – yo'q. Demak, berilgan tenglama yagona $x=-2$ ildizga ega. ▲

Agar $A(x)$ yoki $B(x)$ ifodalarning kamida bittasi bir nechta ratsional ifodalar yig'indisi ko'rinishida bo'lsa, $A(x)=B(x)$ ratsional tenglamani yechish qoidasi shunday bo'lishi mumkin:

1-qadam. Tenglamaga kirgan kasrlarning umumiy maxraji topiladi;

2-qadam. Tenglamani ikkala qismini umumiy maxrajga ko'paytiriladi;

3-qadam. Hosil bo'lgan tenglama ildizlari topiladi;

4-qadam. Topilgan ildizlardan umumiy maxrajni nolga aylantiradiganlari olib tashlanadi.

3-misol. $\frac{2}{2-x} + \frac{1}{2} = \frac{4}{x(2-x)}$ tenglamani yeching.

△ Tenglamaning ikkala qismini $2x(2-x)$ umumiy maxrajga ko'paytiramiz.

Hosil bo'lgan $4x+x(2-x) = 8$ tenglamada soddalashtirishlarni bajarib, ushbu kvadrat tenglamaga kelamiz: $x^2 - 6x + 8 = 0$;

$$D = 9 - 8 = 1 > 0,$$

Demak, bu tenglama ikkita ildizga ega: $x_1 = 2$; $x_2 = 4$.

Tekshirish.

Agar $x=2$ bo'lsa, maxraj $x(2-x) = 2(2-2) = 0$. Ya'ni $x=2$ berilgan tenglamaning ildizi emas.

Agar $x=4$ bo'lsa, maxraj $x(2-x) = 4(2-4) \neq 0$. Ya'ni $x=4$ berilgan tenglamaning ildizi. *Javob:* 4 ▲

Agar $A(x) = \frac{f(x)}{g(x)}$; $B(x) = \frac{p(x)}{q(x)}$ ko'rinishda bo'lsa, $\frac{f(x)}{g(x)} = \frac{p(x)}{q(x)}$ ko'rinishdagi ratsional tenglamani yechish uchun $\frac{a}{b} = \frac{c}{d}$ proporsiyaning asosiy hossasidan foydalanish maqsadga muvofiq:

$$\frac{a}{b} = \frac{c}{d} \Leftrightarrow ad = bc.$$

Bunda quyidagi algoritm bo'yicha ish tutiladi:

1-qadam. $f(x)q(x) = p(x)g(x)$ tenglama ildizlari topiladi;

2-qadam. Topilgan ildizlardan $q(x), g(x)$ maxrajlarini nolga aylantiradiganlari olib tashlanadi.

4-misol. $\frac{x-2}{x+2} = \frac{x+3}{x-4}$ tenglamani yeching.

△ $(x-2)(x-4) = (x+2)(x+3)$; $x^2 - 4x - 2x + 8 = x^2 + 3x + 2x + 6$;

$$-6x + 8 - 5x - 6 = 0;$$

$$-11x = -2;$$

$$x = \frac{2}{11}.$$

Agar $x = \frac{2}{11}$ bo'lsa, $x+2 = \frac{2}{11} + 2 \neq 0$; $x-4 = \frac{2}{11} - 4 \neq 0$.

Javob: $\frac{2}{11}$. ▲

Ayrim hollarda berilgan tenglamada qulay almashtirish bajarib, soddaroq tenglamaga kelish mumkin.

5-misol. Tenglamani yeching:

$$1) \left(\frac{2x}{x+1}\right)^4 + 5\left(\frac{2x}{x+1}\right)^2 - 36 = 0; \quad 2) \frac{x^2+3x+2}{x^2-x+2} + \frac{x}{x^2-2x+2} = 1.$$

△ 1) $\left(\frac{2x}{x+1}\right)^2 = t$ almashtirish bajaramiz. Bu holda $t > 0$ va tenglama $t^2 + 5t - 36 = 0$

ko'rinishni oladi. Oxirgi tenglama $t = -9$ va $t = 4$ ildizlarga ega, shulardan ikkinchisi musbat.

$$\text{Demak, } \left(\frac{2x}{x+1}\right)^2 = 4, \text{ ya'ni } \frac{2x}{x+1} = 2 \text{ yoki } \frac{2x}{x+1} = -2.$$

$\frac{2x}{x+1} = 2$ tenglama yechimga ega emas, $\frac{2x}{x+1} = -2$ tenglama esa yagona $x = -0,5$ yechimga ega.

Javob: $x = -0,5$. ▲

2) Ravshanki, $x = 0$ soni tenglamani qanoatlantiradi. $x \neq 0$ bo'lsin. Tenglamaning surat va maxrajini x ga bo'lsak:

$$\frac{x+3+\frac{2}{x}}{x-1+\frac{2}{x}} + \frac{1}{x-2+\frac{2}{x}} = 1 \text{ tenglamani hosil qilamiz.}$$

$z = x + \frac{2}{x} - 2$ almashtirishni bajarsak, berilgan tenglama

$$\frac{z+5}{z+1} + \frac{1}{z} = 1 \text{ ko'rinishni oladi.}$$

Oxirgi tenglamani yechamiz:

$$\frac{z+5}{z+1} + \frac{1}{z} = 1 \Leftrightarrow \frac{(z+5)z}{(z+1)z} + \frac{z+1}{z(z+1)} - \frac{z(z+1)}{z(z+1)} = 0 \Leftrightarrow$$

$$\Leftrightarrow \frac{z^2+5z+z+1-z^2-z}{z(z+1)} = 0 \Leftrightarrow \frac{5z+1}{z(z+1)} = 0 \Leftrightarrow z = -\frac{1}{5}$$

Endi x ni topamiz.

$$x + \frac{2}{x} - 2 = -\frac{1}{5} \Leftrightarrow x + \frac{2}{x} - \frac{9}{5} = 0 \Leftrightarrow 5x^2 - 9x + 10 = 0.$$

$5x^2 - 9x + 10 = 0$ kvadrat tenglamaning diskriminanti manfiy bo'lgani bois, u haqiqiy yechimga ega emas.

Javob: $x = 0$. ▲

Ratsional tenglamalar sistemalari

Ratsional tenglamalardan tashkil topgan sistemalarni yechish bizga ma'lum bo'lgan qo'shish, o'rniga qo'yish va h.k. usullariga tayanadi. Bunda ishtirok etgan ratsional ifodalarning maxrajleri nolga teng bo'lmasligini qayd qilamiz.

6-misol. Sistemani yeching:

$$1) \begin{cases} \frac{x}{y} - \frac{y}{x} = \frac{5}{6}, \\ x^2 - y^2 = 5; \end{cases} \quad 2) \begin{cases} 2xy - 2\frac{x}{y} = 15, \\ xy + \frac{x}{y} = 15. \end{cases}$$

△ 1) Birinchi tenglamada $\frac{x}{y} = t$ almashtirishni bajarsak, $\frac{y}{x} = \frac{1}{t}$ ($t \neq 0$) bo'ladi.

$$t - \frac{1}{t} = \frac{5}{6} \Leftrightarrow 6t^2 - 5t - 6 = 0 \Leftrightarrow \begin{cases} t = \frac{3}{2}, \\ t = -\frac{2}{3}, \end{cases} \text{ ya'ni } \begin{cases} \frac{x}{y} = \frac{3}{2}, \\ \frac{x}{y} = -\frac{2}{3}. \end{cases}$$

Bundan yoki $\begin{cases} x = \frac{3}{2}y, \\ x^2 - y^2 = 5 \end{cases}$ yoki $\begin{cases} x = -\frac{2}{3}y, \\ x^2 - y^2 = -5 \end{cases}$ sistemalarni hosil qilamiz.

Bu sistemalarni yechamiz:

$$\begin{cases} x = \frac{3}{2}y, \\ \frac{9}{4}y^2 - y^2 = 5 \end{cases} \text{ yoki } \begin{cases} x = -\frac{2}{3}y, \\ \frac{4}{9}y^2 - y^2 = 5. \end{cases}$$

Birinchi sistema (3, 2), (-3, -2) yechimlarga ega, ikkinchi sistema esa yechimga ega emas.

Javob: (3; 2), (-3; -2).

2) $a=xy$, $b = \frac{x}{y}$ belgilash kiritaylik.

$$\begin{cases} 2a - 3b = 15, \\ a + b = 15 \end{cases} \Leftrightarrow \begin{cases} a = 12, \\ b = 3. \end{cases}$$

$$\begin{cases} xy = 12, \\ \frac{x}{y} = 3 \end{cases} \Leftrightarrow \begin{cases} x = 3y, \\ y \cdot 3y = 12 \end{cases} \Leftrightarrow \begin{cases} x = 3y, \\ y^2 = 4. \end{cases}$$

Javob: (6; 2), (-6; -2). ▲



Savol va topshiriqlar

1. Ratsional tenglamaga ta'rif bering.
2. Tengkuchli tenglamalarga ta'rif bering.
3. Tengkuchli tenglamalar sistemasiga misol keltiring.

Mashqlar

1. Tenglamalarni yeching (1–2):

$$\begin{array}{lll} \text{a)} \frac{x+1}{2(x-1)} = \frac{9}{2(x+4)} + \frac{1}{x-1}; & \text{b)} \frac{2y-5}{y+5} = \frac{3y+21}{2y-1}; & \text{c)} \frac{5x-7}{x-3} = \frac{4x-3}{x}; \\ \text{d)} \frac{2x}{x-1} - \frac{1}{x+1} = \frac{4x}{x^2-1}; & \text{e)} \frac{x^2-2x}{x-2} = x^2-2; & \text{f)} \frac{1}{x} - \frac{2x}{x+1} = 0; \\ \text{g)} \frac{7}{2x+9} - 6 = 5x; & \text{h)} \frac{4}{x-2} + \frac{4}{x+2} = \frac{3}{2}; & \text{i)} \frac{15}{x-2} = \frac{14}{x} + 1. \end{array}$$

$$\begin{array}{ll} \text{2. a)} \frac{1}{x^2-12x+36} + \frac{12}{36-x^2} = \frac{1}{x+6}; & \text{b)} \frac{8c-3}{4c^2-2c+1} + \frac{6}{8c^3+1} = \frac{2}{2c+1}; \\ \text{c)} \frac{3x-2}{x-1} + \frac{x-4}{x+3} = \frac{3x^2+1}{(x-1)(x+3)}; & \text{d)} \frac{2-3x}{x+1} - \frac{4}{3} \cdot \frac{x+1}{2-3x} = \frac{4}{3}; \\ \text{e)} \frac{x-49}{x+6} + \frac{2x+50}{x+5} = 2; & \text{f)} \frac{(x+2)^2-9}{x-1} \cdot (x-5) = -24. \end{array}$$

3. Tengkuchli tenglamalarni ko'rsating:

$$\begin{array}{lll} \text{a)} \frac{(5x-4)}{x+1} = 0; & \text{b)} 5x-4=0; & \text{c)} (5x-4)(x+1)=0; \\ \text{d)} 10x=8; & \text{e)} \left(x-\frac{4}{5}\right)(x+1)=0; & \text{f)} 6x-4=x; \\ \text{g)} x^2+2x+18=0; & \text{h)} 2x^2+2x+11=0. \end{array}$$

4. Tenglamalar sistemasini yeching (4–7):

$$\begin{array}{lll} \text{a)} \begin{cases} \frac{x}{2y+3} = 3, \\ \frac{y}{2y+3} = -\frac{1}{9}; \end{cases} & \text{b)} \begin{cases} \frac{3}{x} + \frac{5}{y} = 2, \\ \frac{5}{x} + \frac{3}{y} = 2; \end{cases} & \text{c)} \begin{cases} \frac{12}{x} + \frac{25}{y} = 7, \\ \frac{6}{x} + \frac{5}{y} = 2. \end{cases} \end{array}$$

$$\begin{array}{lll} \text{5. a)} \begin{cases} \frac{5x}{8y} = \frac{8y}{5x}, \\ 5x-8y = 20; \end{cases} & \text{b)} \begin{cases} 2x + \frac{7}{y} = 11, \\ 7x + \frac{2}{y} = 16; \end{cases} & \text{c)} \begin{cases} \frac{(x-9)(x-6)}{y+8} = 0, \\ \frac{(y+8)(y-8)}{x-6} = 0. \end{cases} \end{array}$$

$$6. \quad \begin{cases} a) \begin{cases} 4x = \frac{25}{y} + 15, \\ 4y = \frac{25}{x} + 15; \end{cases} & b) \begin{cases} \frac{x}{4x-7} = -\frac{y}{4x-7}, \\ 4x^2 - 11y + 7 = 0; \end{cases} & c) \begin{cases} \frac{x}{5x-4y} = \frac{y}{5y-4x}, \\ xy = -16. \end{cases} \end{cases}$$

$$7. \quad \begin{cases} a) \begin{cases} (x+1)(x-8) = 0, \\ \frac{y-3}{x+y-2} = 5; \end{cases} & b) \begin{cases} \frac{1}{x^2} = \frac{4}{y^2}, \\ xy = -8; \end{cases} & c) \begin{cases} \frac{x^2}{y^5} = 5 \frac{x^2}{y^4}, \\ x - 5y = 15. \end{cases} \end{cases}$$

8. Klubning zalida 320ta o‘rin bo‘lib, qatorlar bo‘yicha bir xil taqsimlangan. Har bir qatordagi o‘rinlar sonini 4 taga orttirib, yana bir qator qo‘yilgandan so‘ng zalda 420ta o‘rin bo‘ldi. Zalidagi qatorlar soni nechta bo‘ldi?

9. 108 imtihon topshiruvchi insho yozishdi. Ularga 480 varaq qog‘oz tarqatildi, shu bilan birga har bir qiz har bir o‘g‘il o‘smirga qaraganda bir varaq ortiq qog‘oz oldi. Hamma qizlar esa o‘smirlar nechta varaq qog‘oz olgan bo‘lsalar, shuncha varaq qog‘oz olishdi. Nechta qizlar va nechta o‘smirlar bo‘lgan?

29-32 SODDA IRRATSIONAL TENGLAMALAR VA ULARNING SISTEMALARI

O‘zgaruvchisi ildiz ostida qatnashgan tenglama *irrational tenglama* deyiladi. Irratsional tenglamalarning ba‘zi turlarini yechish usullarini keltiraylik.

$$I \quad \sqrt{f(x)} = g(x) \quad (1)$$

ko‘rinishdagi sodda irratsional tenglamani qaraylik.

$f(x)$, $g(x)$ ifodalar nomanfiy bo‘lganida bu tenglamaning ikkala qismini kvadratga ko‘tarsak, tengkuchli tenglamaga kelamiz.

$f(x) = g^2(x) \geq 0$ bo‘lgani uchun $f(x)$ ifoda nomanfiy bo‘ladi.

Demak, (1) tenglamani yechish

$$\sqrt{f(x)} = g(x) \Leftrightarrow \begin{cases} g(x) \geq 0, \\ f(x) = g^2(x) \end{cases}$$

qoida bo‘yicha amalga oshiriladi.

Xuddi shunday $\sqrt[n]{f(x)} = h(x)$ ko‘rinishdagi tenglama $\begin{cases} f(x) = h^{2n}(x), \\ h(x) \geq 0 \end{cases}$ sistemaga teng kuchli.

1-misol. $\sqrt{4+2x-x^2} = x-2$ tenglamani yeching.

△ Tenglamani har ikki qismini kvadratga ko‘taramiz va natijada $2x-x^2=x^2-4x$ yoki $2x(x-3)=0$ tenglamaga ega bo‘lamiz. Bundan $x_1=0$, $x_2=3$ ildizlarni hosil

qilamiz. $x > 2$ bo'lgani uchun $x = 3$ berilgan tenglamaning yechimi. ▲

II $f(x) \cdot \sqrt{g(x)} = 0$ ko'rinishdagi tenglama.

Ikki ifodaning ko'paytmasi nolga teng bo'lishi uchun, ulardan kamida bittasi nolga teng bo'lishi kerak.

Demak, $f(x) \cdot \sqrt{g(x)} = 0$ bo'lishi uchun yoki $g(x) = 0$ tenglik yoki $\begin{cases} f(x) = 0, \\ g(x) \geq 0 \end{cases}$ sistema o'rinli bo'lishi kerak.

Bu holat qisqacha $\begin{cases} g(x) = 0, \\ f(x) = 0, \\ g(x) \geq 0 \end{cases}$ kabi yoziladi.

2-misol. $(x^2 + 3x - 10)\sqrt{x + 4} = 0$ tenglamani yeching.

$$\triangle (x^2 + 3x - 10)\sqrt{x + 4} = 0 \Leftrightarrow \begin{cases} x^2 + 3x - 10 = 0, \\ x + 4 \geq 0, \\ x + 4 = 0 \end{cases} \Leftrightarrow \begin{cases} \begin{cases} x = -5, \\ x = 2, \end{cases} \\ x + 4 \geq 0, \\ x = -4 \end{cases} \Leftrightarrow \begin{cases} x = 2, \\ x = -4. \end{cases}$$

Javob: -4 va 2 . ▲

3-misol. $(x - 3)\sqrt{x^2 - 5x + 4} = 2x - 6$ tenglamani yeching.

△ Berilgan tenglama $(x - 3)(\sqrt{x^2 - 5x + 4} - 2) = 0$ shaklga keltiriladi.

$\begin{cases} x = 3, \\ x^2 - 5x + 4 \geq 0 \end{cases}$ sistema yechimga ega bo'lmaganligi uchun $\sqrt{x^2 - 5x + 4} = 2$ tenglamani qarash yetarli. Bu tenglamaning ikkala qismini kvadratga ko'tarsak, unga teng kuchli bo'lgan $x^2 - 5x + 4 = 4$ tenglamani hosil qilamiz.

Javob: 0 va 5 . ▲

III $\sqrt[n]{f(x)} = \sqrt[n]{g(x)}$ ko'rinishdagi tenglama.

Bunday tenglamalarni yechishda ildiz darajasi n sonining juft-toqligiga qaraladi va berilgan tenglamani tengkuchli tenglamaga olib kelinadi.

Agar n - toq bo'lsa: $\sqrt[n]{f(x)} = \sqrt[n]{g(x)} \Leftrightarrow f(x) = g(x)$.

Masalan, $\sqrt[3]{f(x)} = \sqrt[3]{g(x)}$ tenglama $f(x) = g(x)$ tenglamaga tengkuchli.

4-misol. $\sqrt[3]{x^2 + 8x - 8} = \sqrt[3]{2x - 1}$ tenglamani yeching.

$$\triangle \sqrt[3]{x^2 + 8x - 8} = \sqrt[3]{2x - 1} \Leftrightarrow x^2 + 8x - 8 = 2x - 1 \Leftrightarrow \begin{cases} x = 1, \\ x = -7. \end{cases}$$

Javob: 1 va -7 . ▲

Agar n juft, ya'ni $n=2k$ bo'lsa, berilgan tenglama ushbu sistemalarning har biriga tengkuchlidir:

$${}^{2k}\sqrt{f(x)} = {}^{2k}\sqrt{g(x)} \Leftrightarrow \begin{cases} f(x) = g(x), \\ f(x) \geq 0 \end{cases} \quad \text{yoki} \quad {}^{2k}\sqrt{f(x)} = {}^{2k}\sqrt{g(x)} \Leftrightarrow \begin{cases} f(x) = g(x), \\ g(x) \geq 0. \end{cases}$$

Amalda shulardan osonroq bo'lganlari tanlanadi.

5-misol. $\sqrt[6]{x^2-2} = \sqrt[6]{x}$ tenglamani yeching.

$$\triangle \sqrt[6]{x^2-2} = \sqrt[6]{x} \Leftrightarrow \begin{cases} x^2-2=x, \\ x \geq 0 \end{cases} \Leftrightarrow \begin{cases} x=-1, \\ x=2, \\ x \geq 0 \end{cases} \Leftrightarrow x=2.$$

Javob: $x=2$. ▲

IV O'zgaruvchilarni almashtirish.

6-misol. $\sqrt{\frac{3-x}{x-1}} + 3\sqrt{\frac{x-1}{3-x}} = 4$ tenglamani yeching.

$$\triangle u = \sqrt{\frac{3-x}{x-1}} \text{ almashtirish kiritamiz. U holda}$$

$$\begin{cases} u + \frac{3}{u} = 4, \\ u > 0 \end{cases} \Leftrightarrow \begin{cases} u=1, \\ u=3, \\ u > 0. \end{cases}$$

Endi berilgan tenglamaning ildizlarini topamiz:

$$\begin{cases} \sqrt{\frac{3-x}{x-1}} = 1, \\ \sqrt{\frac{3-x}{x-1}} = 3 \end{cases} \Leftrightarrow \begin{cases} x=2, \\ x=1,2. \end{cases}$$

Javob: $x=2$ va $x=1,2$. ▲

7-misol. $x^2 + 3x + \sqrt{x^2 + 3x} = 6$ tenglamani yeching.

$\triangle z = \sqrt{x^2 + 3x}$ almashtirish kiritamiz:

$$\begin{cases} z^2 + z = 6, \\ z \geq 0 \end{cases} \Leftrightarrow \begin{cases} z=-3, \\ z=2, \\ z \geq 0 \end{cases} \Leftrightarrow z=2.$$

Endi berilgan tenglamaning ildizlarini topamiz.

$$\sqrt{x^2+3x}=2 \Leftrightarrow x^2+3x=4 \Leftrightarrow \begin{cases} x=-4, \\ x=1. \end{cases}$$

Javob: $x=-4$ va $x=1$. ▲

Irratsional tenglamalar sistemasi

Irratsional tenglamalardan tashkil topgan sistemalarni yechish bizga ma'lum bo'lgan qo'shish, o'rniga qo'yish va h.k. usullariga tayanadi. Albatta bunda ishtirok etgan irratsional ifodalarning mavjudlik sohaslarini inobatga olish kerakligini qayd qilamiz.

8-misol. $\begin{cases} \sqrt{x} + \sqrt{y} = 5, \\ \sqrt{xy} = 6 \end{cases}$ tenglamalar sistemasini yeching.

$$\begin{aligned} \triangle \quad & \begin{cases} \sqrt{x} + \sqrt{y} = 5, \\ \sqrt{xy} = 6 \end{cases} \Leftrightarrow \begin{cases} x + y + 2\sqrt{xy} = 25, \\ xy = 36 \end{cases} \Leftrightarrow \begin{cases} x + y = 13, \\ xy = 36 \end{cases} \Leftrightarrow \\ & \Leftrightarrow \begin{cases} y = 13 - x, \\ x(13 - x) = 36 \end{cases} \Leftrightarrow \begin{cases} y = 13 - x, \\ x^2 - 13x + 36 = 0. \end{cases} \end{aligned}$$

Bu sistemadan (4; 9) va (9; 4) yechimlarni topamiz. ▲

9-misol. $\begin{cases} \sqrt[3]{x} + \sqrt[3]{y} = 3, \\ x + y = 9 \end{cases}$ tenglamalar sistemasini yeching.

△ $\sqrt[3]{x} = u$, $\sqrt[3]{y} = v$ deb belgilaymiz, hamda qisqa ko'paytirish formulasidan foydalansak:

$$\begin{aligned} \begin{cases} \sqrt[3]{x} + \sqrt[3]{y} = 3, \\ x + y = 9 \end{cases} & \Leftrightarrow \begin{cases} u + v = 3, \\ u^3 + v^3 = 9 \end{cases} \Leftrightarrow \begin{cases} u + v = 3, \\ (u + v)(u^2 - uv + v^2) = 9 \end{cases} \Leftrightarrow \begin{cases} u + v = 3, \\ u^2 - uv + v^2 = 3 \end{cases} \Leftrightarrow \\ & \Leftrightarrow \begin{cases} u + v = 3, \\ (u + v)^2 - 3uv = 3 \end{cases} \Leftrightarrow \begin{cases} u + v = 3, \\ uv = 2. \end{cases} \end{aligned}$$

sistemaga ega bo'lamiz. Bu sistemaning yechimi $u_1=1, v_1=2, u_2=2, v_2=1$ boladi. Bundan (1; 8) va (8; 1) yechimlarini topamiz. ▲

10-masala.

Tekislikda $A(3; 4)$ va $B(-2; 5)$ nuqtalardan teng uzoqlikda joylashgan $C(x; 0)$ nuqtani toping.

△ $AC=BC$ ekanidan ikki nuqta orasidagi masofa formulasiga ko'ra

$$\sqrt{(x-3)^2 + (0-4)^2} = \sqrt{(x+2)^2 + (0-5)^2} \text{ irratsional tenglamani hosil qilamiz.}$$

Bu tenglamani tengkuchli tenglama xossalaridan va qisqa ko'paytirish formulalaridan foydalanib yechsak, $(x-3)^2+16=(x+2)^2+25$ yoki $-10x=4$ tenglamani hosil qilamiz. Oxirgi tenglamaning ildizi $x=-0,4$ bo'ladi. Demak, izlangan nuqta $C(-0,4; 0)$ ekan. ▲

11-masala

Tekislikda $A(-1; 2)$ va $B(3; -4)$ nuqtalardan teng uzoqlikda joylashgan va $y=3x$ to'g'ri chiziqda yotuvchi nuqtani toping.

▲ Shartga ko'ra izlangan nuqtaning ordinatasi $y=3x$ bo'ladi. Demak, izlanayotgan nuqta $C(x; 3x)$ koordinatali nuqta ekan. $AC=BC$ ekanidan ikki nuqta orasidagi masofa formulasiga ko'ra, $\sqrt{(x+1)^2 + (3x-2)^2} = \sqrt{(x-3)^2 + (3x+4)^2}$ irratsional tenglamani hosil qilamiz. Bu tenglamani yechsak, $(x+1)^2+(3x-2)^2=(x-3)^2+(3x+4)^2$, yoki $-28x=20$ tenglamaga kelamiz. Oxirgi tenglamaning ildizi $x=-\frac{5}{7}$ bo'ladi. Demak, izlangan nuqta $C(-5/7; -15/7)$ ekan.

Javob: $C(-5/7; -15/7)$. ▲

Savol va topshiriqlar



1. Irratsional tenglamaga ta'rif bering va misol keltiring.
2. Tengkuchli irratsional tenglamaga ta'rif bering.
3. $\begin{cases} \sqrt{x} + \sqrt{y} = a, \\ \sqrt{xy} = b \end{cases}$ ko'rinishdagi tenglamalar sistemasi qanday yechiladi?
4. $\begin{cases} \sqrt[3]{x} + \sqrt[3]{y} = a, \\ x + y = b \end{cases}$ ko'rinishdagi tenglamalar sistemasi qanday yechiladi?

Mashqlar

Tenglamani yeching (10–19):

10. a) $\sqrt{3x+5} = -8$; b) $\sqrt{4x-6} = 9$; c) $\sqrt{5x+9} = 17$; d) $\sqrt{13x+5} = -17$.
11. a) $\sqrt{12x-11} = 15$; b) $\sqrt{23x+5} = -7$; c) $\sqrt{23x-7} = 27$; d) $\sqrt{6x+13} = -2$.
12. a) $\sqrt{x^2-3x+1} = x+2$; b) $\sqrt{x^2+5x+2} = x+4$.
13. a) $\sqrt{x^2+7x+1} = x-1$; b) $\sqrt{x^2-6x+2} = x+5$.
14. a) $\sqrt{x^2+3x-2} = \sqrt{-2x-1}$; b) $\sqrt{-2x^2-3x-2} = \sqrt{x+1}$.
15. a) $\sqrt{x^2+8x-7} = \sqrt{-x-1}$; b) $\sqrt{-x^2+3x+5} = \sqrt{x+10}$.

16. a) $x^2 + 3x - 1 + \sqrt{x^2 + 3x - 9} = 0$; b) $x^2 - x - 7 + \sqrt{x^2 - x - 9} = 0$.
17. a) $x^2 + 2x - 11 + \sqrt{x^2 + 2x - 1} = 0$; b) $x^2 - 8x + 3 + \sqrt{x^2 - 8x - 7} = 0$.
18. a) $\sqrt{x-1} + \sqrt{x+2} = 3$; b) $\sqrt{x+5} + \sqrt{x} = 5$.
19. a) $\sqrt{x-4} + \sqrt{x+11} = 5$; b) $\sqrt{x} + \sqrt{x+4} = 3$.

Tenglamalar sistemasini yeching (20–23):

20. a) $\begin{cases} 2\sqrt{x} = 3y, \\ y^2 + 2\sqrt{x} = 4; \end{cases}$ b) $\begin{cases} 5\sqrt{x} = 4y, \\ y^2 + 5\sqrt{x} = 5. \end{cases}$
21. a) $\begin{cases} x - 4\sqrt{y} = 1, \\ x + 2y = 17; \end{cases}$ b) $\begin{cases} x + 2\sqrt{y} = -2, \\ x + 2y = 2. \end{cases}$
22. a) $\begin{cases} (\sqrt{x} - 5)(\sqrt{y} - 3) = 0, \\ 3x + 5y = 60; \end{cases}$ b) $\begin{cases} (\sqrt{x} - 2)(\sqrt{y} - 3) = 0, \\ 3x + 2y = 15. \end{cases}$
23. a) $\begin{cases} 5x - 3\sqrt{y} = -34, \\ 5x + 3\sqrt{y} = -16; \end{cases}$ b) $\begin{cases} 6x - 5\sqrt{y} = -37, \\ 6x + 5\sqrt{y} = 13. \end{cases}$

24. Tekislikda $A(5; 7)$ va $B(-3; 4)$ nuqtalardan teng uzoqlikda joylashgan $C(x; 0)$ nuqtani toping.
25. Tekislikda $A(5; 9)$ va $B(-6; 7)$ nuqtalardan teng uzoqlikda joylashgan $C(x; 0)$ nuqtani toping.

33-36

SODDA KO'RSATKICHLI TENGLAMALAR VA ULARNING SISTEMALARI

Ko'rsatkichli tenglamalar

O'zgaruvchisi darajada qatnashgan tenglama *ko'rsatkichli tenglama* deyiladi.

Ko'rsatkichli tenglamalarni yechishda quyidagi ayniyatlardan foydalaniladi: ($a > 0$, $a \neq 1$, $b > 0$)

1. $a^x = a^y \Leftrightarrow x = y$;
2. $a^x a^y = a^{x+y}$;
3. $\frac{a^x}{a^y} = a^{x-y}$;
4. $a^x b^x = (ab)^x$;
5. $(a^x)^y = a^{xy}$;
6. $a^0 = 1$.

Ko'rsatkichli tenglamalarning ba'zi turlarini yechish usullarini keltiraylik.

I Bir hil asosga keltirish

Bu usulda tenglama $a^{f(x)} = a^{g(x)}$ ko'rinishdagi tenglamaga olib kelinadi. Bundan $f(x) = g(x)$ bo'ladi.

1-misol. $\left(\frac{3}{7}\right)^{3x-7} = \left(\frac{7}{3}\right)^{7x-3}$ tenglamani yeching.

△ $\frac{3}{7} = \left(\frac{7}{3}\right)^{-1}$ ekanini inobatga olib, berilgan tenglamani $\left(\frac{3}{7}\right)^{3x-7} = \left(\frac{3}{7}\right)^{-7x+3}$ ko'rinishda yozamiz.

1-ayniyatga ko'ra $3x - 7 = -7x + 3$, $x = 1$.

Javob: 1. ▲

2-misol. $0,125 \cdot 4^{2x-8} = \left(\frac{0,25}{\sqrt{2}}\right)^{-x}$ tenglamani yeching.

△ Tenglamani quyidagi ko'rinishda yozamiz:

$$\frac{1}{8} \cdot 2^{2(2x-8)} = \left(\frac{1}{4} \cdot 2^{\frac{1}{2}}\right)^{-x} \qquad 2^{-3} \cdot 2^{2(2x-8)} = \left(2^{-2} \cdot 2^{\frac{1}{2}}\right)^{-x}$$

2-ayniyatga ko'ra $2^{-3+2(2x-8)} = \left(2^{-2-0,5}\right)^{-x}$ yoki $2^{4x-19} = 2^{2,5x}$.

Oxirgi tenglama $4x - 19 = 2,5x$

tenglamaga teng kuchlidir. Bundan $x = \frac{38}{3}$.

Javob: $x = \frac{38}{3}$. ▲

II Yangi o'zgaruvchini kiritish.

3-misol. $5^{2x-1} + 5^{x+1} = 250$ tenglamani yeching.

△ 2-ayniyatni qo'llab, tenglamani $5^{2x} \cdot 5^{-1} + 5^x \cdot 5 - 250 = 0$ kabi yozib olamiz.

$5^x = t > 0$ deb, yangi o'zgaruvchi kiritamiz. U holda $\frac{1}{5}t^2 + 5t - 250 = 0$ tenglamaga kelamiz.

U $t_1 = -50$, $t_2 = 25$ ildizlarga ega. Ammo $t_1 = -50$ ildiz $t > 0$ shartni qanoatlantirmaydi. Demak, $5^x = 25$ va $x = 2$.

Javob: $x = 2$. ▲

4-misol. $9^x + 6^x = 2 \cdot 4^x$ tenglamani yeching.

△ Tenglamani ikkala qismini $4^x \neq 0$ ga bo'lamiz:

$$\left(\frac{9}{4}\right)^x + \left(\frac{3}{2}\right)^x = 2 \text{ yoki } \left(\frac{3}{2}\right)^{2x} + \left(\frac{3}{2}\right)^x - 2 = 0.$$

$\left(\frac{3}{2}\right)^x = t > 0$ deb, oxirgi tenglamani $t^2 + t - 2 = 0$ ko'rinishga keltiramiz. Bu tenglamaning yechimlarini topamiz: $t_1 = -2$, $t_2 = 1$.

t_1 ning qiymati uchun $t > 0$ shart bajarilmaydi. Demak,

$$\left(\frac{2}{3}\right)^x = 1, \quad \left(\frac{2}{3}\right)^x = \left(\frac{2}{3}\right)^0 \Rightarrow x = 0.$$

Javob: $x=0$. ▲

5-misol. $\left(\sqrt{2-\sqrt{3}}\right)^x + \left(\sqrt{2+\sqrt{3}}\right)^x = 4$ tenglamani yeching.

△ $\left(\sqrt{2-\sqrt{3}}\right) \cdot \left(\sqrt{2+\sqrt{3}}\right) = 1$ bo'lgani bois $\sqrt{2-\sqrt{3}} = \frac{1}{\sqrt{2+\sqrt{3}}}$.

Tenglamani $\left(\frac{1}{\sqrt{2+\sqrt{3}}}\right)^x + \left(\sqrt{2+\sqrt{3}}\right)^x = 4$ ko'rinishda yozamiz.

$\left(\sqrt{2+\sqrt{3}}\right)^x = t > 0$ deylik. Bundan $\frac{1}{t} + t = 4$, ya'ni $t^2 - 4t + 1 = 0$.

Oxirgi tenglama $t_{1,2} = 2 \pm \sqrt{3}$ ildizlarga ega.

1-hol. $\left(\sqrt{2+\sqrt{3}}\right)^x = 2 + \sqrt{3}$, $(2 + \sqrt{3})^{\frac{x}{2}} = 2 + \sqrt{3}$, $\frac{x}{2} = 1$, $x = 2$.

2-hol. $\left(\sqrt{2+\sqrt{3}}\right)^x = 2 - \sqrt{3}$, $\left(\frac{1}{2 - \sqrt{3}}\right)^{\frac{1}{2}x} = 2 - \sqrt{3}$,

$(2 - \sqrt{3})^{\frac{1}{2}x} = 2 - \sqrt{3}$, $-\frac{x}{2} = 1$, $x = -2$.

Javob: $x = -2$ va $x = 2$. ▲

III Umumiy ko'paytuvchini qavslardan tashqariga chiqarish.

6-misol. $6^x + 6^{x+1} = 2^x + 2^{x+1} + 2^{x+2}$ tenglamani yeching.

△ Chap tomonda 6^x ni, o'ng tarafda esa 2^x ni qavsdan tashqariga chiqaramiz. Natijada $6^x(1+6) = 2^x(1+2+4)$ yoki $6^x = 2^x$ tenglamaga kelamiz. Bu tenglamaning ikkala tomonini $2^x \neq 0$ ga bo'lsak, $3^x = 1$, ya'ni $x = 0$ ni hosil qilamiz.

Javob: $x=0$. ▲

Eng sodda ko'rsatkichli tenglamalar sistemasi

7-misol. Tenglamalar sistemasini yeching:
$$\begin{cases} 3^{x+y} = 27, \\ 2^{5x-y} = 8. \end{cases}$$

△ Darajaning xossalariga ko'ra tenglamalar sistemasi quyidagi tenglamalar sistemasiga tengkuchli:
$$\begin{cases} 3^{x+y} = 3^3, \\ 2^{5x-y} = 2^3. \end{cases}$$
 Bundan
$$\begin{cases} x+y=3, \\ 5x-y=3 \end{cases}$$
 sistemaga kelamiz.

Uning yechimlari $x=1, y=2$ ekani ravshan.

Javob: $x=1, y=2$. ▲

8-misol. Tenglamalar sistemasini yeching:
$$\begin{cases} 3^{5x+6y} = 9, \\ 2^{7x+3y} = 8. \end{cases}$$

△ Darajaning xossalariga ko'ra tenglamalar sistemasi quyidagi ko'rinishni

oladi:
$$\begin{cases} 3^{5x+6y} = 3^2, \\ 2^{7x+3y} = 2^3. \end{cases}$$

Oxirgi tenglamalar sistemasi esa
$$\begin{cases} 5x+6y=2, \\ 7x+3y=3 \end{cases}$$
 chiziqli sistemaga tengkuchli.

Chiziqli tenglamalar sistemasining 2-tenglamasini (-2) ga ko'paytirib 1-tenglamaga qo'shsak, $-9x=-4$ tenglamani hosil qilamiz. Bundan $x=\frac{4}{9}$ ekani topiladi.

Uni 2-tenglamaga qo'ysak, $\frac{28}{9}+3y=3$ yoki $3y=3-\frac{28}{9}$, yoki $3y=-\frac{1}{9}$, yoki $y=-\frac{1}{27}$

ni topamiz. Javob: $x=\frac{4}{9}, y=-\frac{1}{27}$. ▲

9-misol. Tenglamalar sistemasini yeching:
$$\begin{cases} 4^x + 5^y = 9, \\ 4^x - 5^y = -1. \end{cases}$$

△ $4^x=u, 5^y=v$ belgilash kiritsak, berilgan tenglamalar sistemasi ushbu ko'ri-

nishni oladi:
$$\begin{cases} u+v=9, \\ u-v=-1. \end{cases}$$
 Ravshanki, bu tenglamalar sistemasining yechimi

$u=4, v=5$. U holda $4^x=4$ va $5^y=5$ tenglamalarni hosil qilamiz. Bu yerdan $x=1, y=1$ yechimlarni topamiz.

Javob: $x=1, y=1$. ▲

42.

$$a) \begin{cases} 5^{3x-y} = 25, \\ 2^{x^2+xy+y^2} = 8; \end{cases}$$

$$b) \begin{cases} 5^{x+2y} = 125, \\ 2^{x^2+3xy-y^2} = 8; \end{cases}$$

$$c) \begin{cases} 11^x + 7^y = 18, \\ 11^x - 7^y = 4. \end{cases}$$

43.

$$a) \begin{cases} 5^{x+y} = 25, \\ 2^{x^2-3xy+2y^2} = 1; \end{cases}$$

$$b) \begin{cases} 5^{3x-y} = 25, \\ 2^{x^2+xy+y^2} = 8; \end{cases}$$

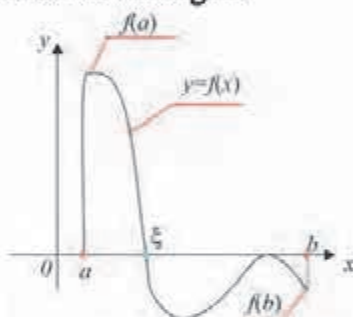
$$c) \begin{cases} 6^x + 3^y = 39, \\ 6^x \cdot 3^y = 108. \end{cases}$$

37-38

TENGLAMALARNI TAQRIBIY YECHISH

Agar $f(x)$ ko'phad $[a, b]$ kesma uchlarida turli ishorali qiymatlarni qabul qilsa, ya'ni $f(a) \cdot f(b) < 0$ bo'lsa, bu kesma ichida $f(x) = 0$ tenglamaning kamida bitta yechimi mavjud. Ya'ni, shunday $\xi \in [a, b]$ ("ksi" deb o'qiladi) mavjudki $f(\xi) = 0$.

Bu tasdiq quyidagi chizmada tasvirlangan.



Tenglamaning aynan bitta ildizini o'z ichiga olgan $[a, b]$ kesmani qaraylik.

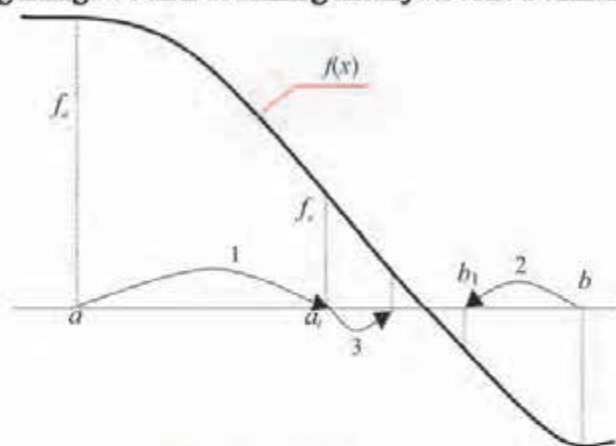
Kesmani teng ikkiga bo'lish usuli $[a, b]$ kesmani hosil bo'ladigan kesma uzunligi berilgan ε aniqlikdan kichik bo'lgunicha teng ikkiga bo'lishdan iborat.

Buning uchun:

- 1) $x=a$ da $f(x)$ ifodaning $f_a = f(a)$ qiymati hisoblanadi.
- 2) kesma teng ikkiga bo'linadi, ya'ni $x=(b-a)/2$ hisoblanadi;
- 3) $f(x)$ ifodaning $x=(b-a)/2$ dagi f_x qiymati hisoblanadi.
- 4) $f_a \cdot f_x > 0$ shart tekshiriladi;
- 5) agar bu shart bajarilsa, yangi kesmaning chap chegarasi sifatida oldingi kesmaning o'rtasi olinadi, ya'ni $a=x$, $f_a = f_x$ deb olinadi (kesmaning chap chegarasi o'rtaga o'tadi);
- 6) agar bu shart bajarilmasa, yangi kesmaning o'ng chegarasi o'rtaga o'tadi, ya'ni $b=x$ deb olinadi;
- 7) kesmani navbatdagi bo'lishdan so'ng $b-a < \varepsilon$ shart bajarilishi tekshiriladi.
- 8) agar bu shart bajarilsa, hisoblashlar tugatiladi. Bunda taqribiy yechim

sifatida x ning oxirgi hisoblangan qiymati olinadi. Agar bu shart bajarilmasa, mazkur algoritmning 2 - qadamiga o'tilib (qaytib), hisoblashlar davom ettiriladi.

Kesmani teng ikkiga bo'lish usulining mohiyati ushbu chizmada tasvirlangan:



Haqiqiy ildiz yotgan oraliqni topish

$f(x) = x^3 + ax^2 + bx + c = 0$ tenglama ildizi yotgan oraliqni topish uchun

$A = \max\{a, b, c\}$ va $B = \max\{\frac{1}{c}; \frac{a}{c}; \frac{b}{c}\}$ hisoblanadi.

Berilgan tenglamaning ildizi uchun $\frac{1}{1+B} < |x| < 1+A$ tengsizlik o'rinli bo'ladi. Demak, berilgan tenglamaning kamida 1 ta ildizi $(-1-A; 1+A)$ oraliqda joylashgan ekan. Bu ildizni taqriban topish uchun $-1-A < d_1 < d_2 < 1+A$ va $f(d_1) \cdot f(d_2) = (d_1^3 + ad_1^2 + bd_1 + c)(d_2^3 + ad_2^2 + bd_2 + c) < 0$ tengsizliklarni qanoatlantiruvchi d_1 va d_2 butun sonlar topiladi.

1-misol. $2x^3 + 3x^2 + 5x + 1 = 0$ tenglama ildizi yotgan oraliqni toping.

\triangle Tenglamaning har ikki qismini 2 ga bo'lsak, $x^3 + \frac{3}{2}x^2 + \frac{5}{2}x + \frac{1}{2} = 0$ tenglama hosil bo'ladi. $a = \frac{3}{2}$; $b = \frac{5}{2}$; $c = \frac{1}{2}$ bo'lgani uchun, $A = \max\{\frac{3}{2}; \frac{5}{2}; \frac{1}{2}\} = 2,5$.

Demak, $x \in (-2,5; 2,5)$ oraliqda tenglamaning kamida 1 ta ildizi bor. Tenglama $(0; 2,5)$ oraliqda ildizga ega emas, chunki $x_0 \in (0; 2,5)$ bo'lsa, $2x_0^3 + 3x_0^2 + 5x_0 + 1 > 0$ bo'ladi. Demak, tenglama $(-2,5; 0)$ oraliqda ildizga ega ekan. Bu oraliqni kichraytirish uchun butun sonlarni olamiz, ya'ni $d_1 = -2$; $d_2 = -1$; $d_3 = 0$.

Endi $d_1 = -2$; $d_2 = -1$; $d_3 = 0$ sonlarni tenglamaga qo'yib va quyidagi shartlarni tekshirib

$$d_1^3 + \frac{3}{2}d_1^2 + \frac{5}{2}d_1 + \frac{1}{2} = -8 + 6 - 5 + 0,5 = -6,5 < 0;$$

$$d_2^3 + \frac{3}{2}d_2^2 + \frac{5}{2}d_2 + \frac{1}{2} = -1 + 1,5 - 2,5 + 0,5 = -1,5 < 0;$$

$d_3^3 + \frac{3}{2}d_3^2 + \frac{5}{2}d_3 + \frac{1}{2} = 0,5 > 0$ tenglamaning ildizi $(-1; 0)$ oraliqda ekanini topamiz. ▲

Tenglamaning ildizini berilgan ε aniqlikda oraliqni teng 2 ga bo'lib topish usuli

Yuqoridan ma'lumki, agar $(\alpha^3 + a\alpha^2 + b\alpha + c)(\beta^3 + a\beta^2 + b\beta + c) < 0$ bo'lsa, tenglamaning ildizi $(\alpha; \beta)$ oraliqda bo'ladi. Endi $\gamma = \frac{\alpha + \beta}{2}$ bo'lsin. Agar $|\gamma^3 + a\gamma^2 + b\gamma + c| < \varepsilon$ bo'lsa, $x = \gamma$ son – tenglamaning ε aniqlikdagi ildizi. Agar $(\gamma^3 + a\gamma^2 + b\gamma + c)(\beta^3 + a\beta^2 + b\beta + c) < 0$ bo'lsa, ildizni $(\gamma; \beta)$ oraliqdan qidiriladi; agar $(\gamma^3 + a\gamma^2 + b\gamma + c)(\alpha^3 + a\alpha^2 + b\alpha + c) < 0$ bo'lsa, ildizni $(\alpha; \gamma)$ oraliqdan qidiriladi. Bu jarayon to'g'ri ildiz kerakli aniqlikda topilgunga qadar davom etaveradi.

2-misol.

$x^3 + 1,5x^2 + 2,5x + 0,5 = 0$ tenglamaning ildizini $\varepsilon = 0,1$ aniqlikda toping.

▲ Avvalgi misoldan ma'lumki, ildiz $(-1; 0)$ oraliqda yotadi. $\gamma = \frac{-1+0}{2} = -0,5$ va $(-0,5)^3 + 1,5(-0,5)^2 + 2,5(-0,5) + 0,5 = -0,5 < 0$ ekanidan tenglamaning ildizi $(-0,5; 0)$ oraliqda ekan.

$\gamma = \frac{-0,5+0}{2} = -0,25$ va $|(-0,25)^3 + 1,5(-0,25)^2 + 2,5(-0,25) + 0,5| = |-0,046| < 0,1$ bo'lgani uchun tenglamaning $0,1$ aniqlikdagi yechimi $x = -0,25$ bo'ladi. ▲

Savol va topshiriqlar



- $x^3 + ax^2 + bx + c = 0$ tenglamaning ildizi yotgan oraliq qanday topiladi?
- Tenglamaning ildizini berilgan ε aniqlikda oraliqni teng 2 ga bo'lib topish usulini tushuntiring.

Mashqlar

Tenglamaning ildizi yotgan oraliqni toping (44–47):

- | | | |
|-----|--------------------------------|--------------------------------|
| 44. | 1) $x^3 + 3x^2 + 5x + 1 = 0;$ | 2) $x^3 + 3x^2 + 7x + 6 = 0.$ |
| 45. | 1) $2x^3 + 4x^2 + 5x + 1 = 0;$ | 2) $x^3 + 4x^2 + 9x + 17 = 0.$ |
| 46. | 1) $4x^3 + 3x^2 + 5x + 7 = 0;$ | 2) $x^3 + x^2 + x + 19 = 0.$ |

47. 1) $2x^3+3x^2+5x+9=0$; 2) $x^3+x^2+x+19=0$.

Tenglamani ildizini $\varepsilon=0,1$ aniqlikda toping (48–51):

48. 1) $x^3+3x^2+5x+1=0$; 2) $x^3+3x^2+7x+6=0$.

49. 1) $2x^3+4x^2+5x+1=0$; 2) $x^3+4x^2+9x+17=0$.

50. 1) $4x^3+3x^2+5x+7=0$; 2) $x^3+x^2+x+19=0$.

51. 1) $2x^3+3x^2+5x+9=0$; 2) $x^3+x^2+x+19=0$.

39-41

SODDA RATSIONAL TENGSIZLIKLAR VA ULARNING SISTEMALARI

Bir o'zgaruvchili ratsional tengsizliklar va ularni yechish usullari

$A(x)$ va $B(x)$ ratsional ifodalar uchun $A(x) > B(x)$, $A(x) < B(x)$, $A(x) \geq B(x)$, $A(x) \leq B(x)$ munosabatlarga x o'zgaruvchili tengsizliklar deyiladi. x ning tengsizlikni to'g'ri sonli tengsizlikka aylantiruvchi har qanday qiymati tengsizlikning yechimi deyiladi.

1-misol. Tengsizlikni yeching: $2(2x-5)(3x-8)(5-4x) < 0$.

△ Tengsizlikni oraliqlar usuli yordamida yechamiz. Bu usul bilan 9-sinfda tanishgansiz. Qavslar ichidagi ifodalarni nolga tenglab, $x_1 = \frac{5}{4}$, $x_2 = \frac{5}{2}$, $x_3 = \frac{8}{3}$ sonlarni topamiz. Ular sonlar o'qini $(-\infty; \frac{5}{4})$, $(\frac{5}{4}; \frac{5}{2})$, $(\frac{5}{2}; \frac{8}{3})$, $(\frac{8}{3}; +\infty)$ oraliqlarga ajratadi. Tengsizlikka $(\frac{8}{3}; +\infty)$ oraliqqa tegishli, masalan, $x=10$ sonini qo'ysak, tengsizlik to'g'ri tengsizlikka aylanadi. Demak, tengsizlik $(\frac{5}{4}; \frac{5}{2}) \cup (\frac{8}{3}; +\infty)$ oraliqlarda o'rinli. ▲



2-misol.

Tengsizlikni yeching: $\frac{x^2(x+1)(x-3)}{(x-2)(x-4)} > 0$.

△ $x=2$, $x=4$ sonlar tengsizlikning yechimi emas. $x \neq 2$, $x \neq 4$ bo'lganda $(x-2)^2(x-4)^2 > 0$ bo'ladi. Shu sababli tengsizlikning har ikki qismini $(x-2)^2(x-4)^2$ ga ko'paytirish natijasida berilgan tengsizlikka teng kuchli quyidagi tengsizlik hosil bo'ladi: $(x+1)x^2(x-3)(x-2)(x-4) > 0$.

Qavslarni nolga tenglab, $x_1 = -1$, $x_2 = 0$, $x_3 = 0$, $x_4 = 2$, $x_5 = 3$, $x_6 = 4$ sonlarni topamiz. Natijada sonlar o'qi quyidagi oraliqlarga ajraladi: $(-\infty; -1)$, $(-1; 0)$, $(0; 2)$, $(2; 3)$, $(3; 4)$,

$(4; +\infty)$. Bu yerda nol soni 2 marta uchraydi. Shuning uchun tengsizlik nol sonining 2 yonidagi oraliqda bir hil ishorali. Oxirgi oraliqdan chegarada yotmagan $x=10$ sonini olib tengsizlikka qo'ysak, to'g'ri sonli tengsizlik hosil bo'ladi. Demak, tengsizlikning yechilmi quyidagi oraliqlar: $(-\infty; -1) \cup (2; 3) \cup (4; +\infty)$. ▲



3-misol. Tengsizlikni yeching: $\frac{x^2 - 5x + 4}{x - 3} \geq 0$.

▲ Ravshanki, $x \neq 3$ suratni nolga tenglab, $x^2 - 5x + 4 = 0$, $x_1 = 1$, $x_2 = 4$ sonlarni hosil qilamiz. $x_1 = 1$ va $x_2 = 4$ sonlar tengsizlikni qanoatlantiradi. Demak, sonlar o'qi quyidagi oraliqlarga ajraladi: $(-\infty; 1]$, $[1; 3)$, $(3; 4]$, $[4; +\infty)$.

Oxirgi oraliqdan chegarada bo'lmagan $x=5$ sonini olsak, to'g'ri sonli tengsizlik hosil bo'ladi. Shuning uchun $[1; 3) \cup [4; +\infty)$ oraliqlar tengsizlikning yechimi.



Sodda ratsional tengsizliklar sistemasi

4-misol. Tengsizliklar sistemasini yeching: $\begin{cases} 3x - 8 \leq 1, \\ 4x + 3 > 5. \end{cases}$

▲ Sistemaning har bir tengsizligini soddalashtirsak, $\begin{cases} 3x \leq 1 + 8, \\ 4x > 5 - 3, \end{cases} \begin{cases} 3x \leq 9, \\ 4x > 2, \end{cases}$ ya'ni $\begin{cases} x \leq 3, \\ x > 0.5 \end{cases}$ tengsizliklarni hosil qilamiz. Demak, sistemaning yechimi $(-\infty; 3]$ va $(0.5; +\infty)$ oraliqlarning umumiy qismi, ya'ni $(0.5; 3]$ oraliqdan iborat ekan. ▲

5-misol. Tengsizliklar sistemasini yeching: $\begin{cases} (3-x)(4+x) \geq 0, \\ (2+x)(5-x) < 0. \end{cases}$

▲ Sistemadagi har bir tengsizlikni yechib, 1-tengsizlikning yechimi $[-4; 3]$ oraliq, 2-tengsizlikning yechimi esa $(-\infty; 2) \cup (5; +\infty)$ oraliqlar ekanini topamiz. Demak, tengsizliklar sistemasining yechimi bu yechimlarning umumiy qismi, ya'ni $[-4; 2)$ oraliqdan iborat bo'ladi. ▲

Savol va topshiriqlar



1. Tengsizlikning yechimi nima, misollarda tushuntiring.
2. Teng kuchli tengsizliklarga misollar keltiring.
3. Eng sodda ratsional tengsizliklar sistemasini yechishni bitta misolda tushuntiring.

Mashqlar

Tengsizlikni yeching (52–53):

52. 1) $(x-6)(3-17x)(2x+8) \leq 0$; 2) $(x^2+5x-6)(7x-11) > 0$;
3) $(3+5x)(2x^2-6x+4) < 0$; 4) $\frac{2x-5}{2x+1} \geq 0$;
5) $(x^2+6x-7)(x^2+x+1) \geq 0$; 6) $\frac{3x+11}{2-x} < 0$;
7) $\frac{x-1}{4x-1} < 1$; 8) $\frac{2x-7}{3-7x} \geq 1$; 9) $\frac{x^2-5x+11}{x^2-7} \leq 0$; 10) $\frac{x^3-1}{2x^2-3x+1} > 1$.
53. 1) $(x-5)(3-7x)(2x+8) \leq 0$; 2) $(x^2-5x-6)(7x+11) > 0$;
3) $(3-5x)(2x^2-4x+4) < 0$; 4) $\frac{x-5}{2x+1} \geq 0$;
5) $(x^2-6x-7)(x^2+x+1) \geq 0$; 6) $\frac{3x+1}{2-x} < 0$;
7) $\frac{x+1}{4x-1} < 1$; 8) $\frac{2x-7}{3-7x} \geq 3$; 9) $\frac{x^2-5x+1}{x^2-7} \leq 0$; 10) $\frac{x^3+1}{2x^2-3x+1} > 1$.

54. Tengsizliklar sistemasini yeching (54–55):

1) $\begin{cases} 3x-5 \leq 7x, \\ 2x+1 > -2x+3; \end{cases}$ 2) $\begin{cases} \frac{x}{3} + \frac{2x-1}{5} < 1, \\ -\frac{5x+1}{2} - \frac{7}{3} > \frac{x}{5}; \end{cases}$ 3) $\begin{cases} 3x+5 \leq 7x, \\ 2x-1 > -3x+3; \end{cases}$

55.

1) $\begin{cases} 2(x-5) \leq 4(x+3), \\ 2x-1 > -5x; \end{cases}$ 2) $\begin{cases} \frac{5x}{3} - \frac{2x}{4} \geq 3\frac{1}{3}, \\ 2 - \frac{5-4x}{2} < \frac{6x}{5}; \end{cases}$ 3) $\begin{cases} 6x+5 \leq 7x, \\ 6x-4 > 3x+3; \end{cases}$

42-43 SODDA IRRATSIONAL TENGSIZLIKLAR

Irratsional tengsizlik deyilganda noma'lum ildiz belgisi ostida bo'lgan tengsizlik tushuniladi.

Tengsizliklarning yechimlari to'plami, odatda, sonlarning cheksiz to'plamlaridan iborat bo'ladi, shu sababli bu sonlarni dastlabki tengsizlikka bevosita qo'yish yo'li bilan yechimlar to'plamini tekshirish, umuman aytganda mumkin emas. Javobning to'g'riligini ta'minlaydigan birgina yo'l – dastlabki tengsizlikni har qanday almashtirishda bu tengsizlikka tengkuchli tengsizlik hosil bo'lishini kuzatib borishimiz lozim.

Irratsional tengsizliklarni yechayotganda tengsizlikning ikkala qismini toq darajaga ko'tarishda har doim dastlabki tengsizlikka tengkuchli tengsizlik hosil

bo'lishini yodda tutish lozim. Agar tengsizlikning ikkala qismi juft darajaga ko'tarilayotgan bo'lsa, u holda dastlabki tengsizlikka tengkuchli va o'shanday tengsizlik ishorasiga ega bo'lgan tengsizlik faqat dastlabki tengsizlikning ikkala qismi manfiymas bo'lgan holdagina hosil bo'ladi.

Irratsional tengsizlikning yechimlar to'plamini topish uchun, odatda, tengsizlikning ikkala qismini natural darajaga ko'tarishga to'g'ri keladi. Irratsional tengsizlikni yechishning asosiy usullaridan biri bu tengkuchli ratsional tengsizliklarga keltirish usulidir.

Eng sodda irratsional tengsizliklar quyidagi ko'rinishga ega:

- 1) $\sqrt{A(x)} < B(x)$ yoki $\sqrt{A(x)} \leq B(x)$;
- 2) $\sqrt{A(x)} > B(x)$ yoki $\sqrt{A(x)} \geq B(x)$;
- 3) $\sqrt{A(x)} > \sqrt{B(x)}$ yoki $\sqrt{A(x)} \geq \sqrt{B(x)}$.

$\sqrt{A(x)} < B(x)$ yoki $\sqrt{A(x)} \leq B(x)$ irratsional tengsizlik quyidagi tengsizliklar sistemasiga tengkuchli

$$\begin{cases} A(x) < B^2(x), \\ A(x) \geq 0, \\ B(x) \geq 0 \end{cases} \text{ yoki } \begin{cases} A(x) \leq B^2(x), \\ A(x) \geq 0, \\ B(x) \geq 0. \end{cases} \quad (1)$$

(1) sistemadagi birinchi tengsizlik berilgan tengsizlikni kvadratga ko'tarish natijasida hosil bo'lgan tengsizlik, ikkinchi tengsizlik ildizning mavjudlik shartini bildiradi, uchinchi tengsizlik esa kvadratga ko'tarish mumkinligini bildiradi.

$\sqrt{A(x)} > B(x)$ irratsional tengsizlikni yechish uchun quyidagi sistemani qarash zarur:

$$\begin{cases} A(x) > B^2(x), \\ B(x) \geq 0 \end{cases} \text{ yoki } \begin{cases} A(x) \geq 0, \\ B(x) < 0. \end{cases} \quad (2)$$

$\sqrt{A(x)} > \sqrt{B(x)}$ irratsional tengsizlik quyidagi tengsizliklar sistemasiga tengkuchli:

$$\begin{cases} A(x) > B(x), \\ B(x) \geq 0. \end{cases} \quad (3)$$

Berilgan tengsizlikning ikkala qismi barcha joiz x lar uchun nomanfiy bo'lganligi sababli uni kvadratga ko'tarish mumkin. (3) sistemadagi birinchi tengsizlik berilgan tengsizlikni kvadratga ko'tarish natijasida hosil bo'lgan tengsizlikdir. Ikkinchi tengsizlik ildizning mavjudlik shartini bildiradi. Ravshanki, $A(x) \geq 0$ shart albatta bajariladi.

(1)–(3) qoidalar irratsional tengsizlikni yechishning asosiy usuli hisoblanadi. Uning mohiyatini bir nechta misollarda ko'rsatamiz.

1-misol. Tengsizlikni yeching: $\sqrt{10x+5} < -3$.

△ Bu tengsizlikning o'ng qismi manfiy, shu bilan birga chap qismi joiz x lar uchun nomanfiy. Shuning uchun tengsizlik yechimga ega emas.

Javob: Yechim mavjud emas. ▲

2-misol. Tengsizlikni yeching: $\sqrt{3x-9} > -5$.

△ Tengsizlikning o'ng qismi manfiy, shu bilan birga chap qismi joiz x lar uchun nomanfiy. Demak, mazkur tengsizlik $x \geq 3$ shartni qanoatlantiradigan barcha x lar uchun bajariladi.

Javob: $x \in [3; +\infty)$. ▲

3-misol. Tengsizlikni yeching: $\sqrt{2x-3} < 1$.

△ (1) qoidaga ko'ra $\begin{cases} 2x-3 < 1^2, \\ 2x-3 \geq 0. \end{cases}$

$B(x) = 1 \geq 0$ shart barcha x lar uchun bajarilganligi bois, uni alohida yozish shart emas.

Javob: $\left[\frac{3}{2}; 2\right)$. ▲

4-misol. Tengsizlikni yeching: $\sqrt{4x-3} > 1$.

△ Bu tengsizlik (2) qoida bo'yicha yechiladi. Bu holda $B(x) = 1 \geq 0$ shart barcha x lar uchun bajarilganligi bois mazkur tengsizlikka teng kuchli tengsizlikni bevosita yozishimiz mumkin: $4x-3 > 1^2$.

Javob: $x > 1$. ▲

5-misol. Tengsizlikni yeching: $\sqrt{x+18} < 2-x$.

△ Bu tengsizlik (1) qoida bo'yicha yechiladi:

$$\begin{cases} x+18 \geq 0, \\ 2-x \geq 0, \\ x+18 < (2-x)^2 \end{cases} \Leftrightarrow \begin{cases} x \geq -18, \\ x \leq 2, \\ x^2 - 5x - 14 > 0 \end{cases} \Leftrightarrow \begin{cases} -18 \leq x < 2, \\ \begin{cases} x < -2, \\ x > 7 \end{cases} \end{cases} \Leftrightarrow -18 \leq x < -2.$$

Javob: $x \in [-18; -2)$. ▲

6-misol. Tengsizlikni yeching: $\sqrt{x^2+x-2} > x$.

△ Bu tengsizlik (2) qoida bo'yicha yechiladi:

$$\begin{cases} x < 0, \\ x^2 + x - 2 \geq 0, \end{cases} \Leftrightarrow \begin{cases} x < 0, \\ x \leq -2, \\ x \geq 1, \end{cases} \Leftrightarrow \begin{cases} x \leq -2, \\ x > 2. \end{cases}$$

$$\begin{cases} x \geq 0, \\ x^2 + x - 2 > x^2 \end{cases} \Leftrightarrow \begin{cases} x \geq 0, \\ x > 2 \end{cases}$$

Javob: $x \in (-\infty; -2] \cup (2; +\infty)$. ▲

7-misol. Tengsizlikni yeching: $\sqrt{2x+1} > \sqrt{2-3x}$.

△ Bu tengsizlik (3) qoida bo'yicha yechiladi:

$$\begin{cases} 2x+1 > 2-3x, \\ 2-3x \geq 0 \end{cases} \Leftrightarrow \begin{cases} x > \frac{1}{5}, \\ x \leq \frac{2}{3} \end{cases} \Leftrightarrow \frac{1}{5} < x \leq \frac{2}{3}.$$

Javob: $\frac{1}{5} < x \leq \frac{2}{3}$. ▲

8-misol. Tengsizlikni yeching: $\frac{\sqrt{x^2-25}}{x+6} < 1$.

△ Noma'lum x ning tengsizlik ma'noga ega bo'ladigan to'plamini topamiz:

$$\begin{cases} x^2 - 25 \geq 0, \\ x + 6 \neq 0 \end{cases} \Leftrightarrow \begin{cases} x \leq -5, \\ x \geq 5, \\ x \neq 6 \end{cases} \Leftrightarrow \begin{cases} x < -6, \\ -6 < x \leq -5, \\ x \geq 5. \end{cases}$$

Agar $x+6 > 0$ bo'lsa, mazkur tengsizlikni kvadratga ko'tarish mumkin:

$$\begin{cases} -6 < x \leq -5, \\ x \geq 5, \\ \sqrt{x^2-25} < x+6 \end{cases} \Leftrightarrow \begin{cases} -6 < x \leq -5, \\ x \geq 5, \\ x^2 - 25 < x^2 + 12x + 36 \end{cases} \Leftrightarrow \begin{cases} -6 < x \leq -5, \\ x \geq 5, \\ x > -\frac{61}{12} \end{cases} \Leftrightarrow \begin{cases} -\frac{61}{12} < x \leq -5, \\ x \geq 5. \end{cases}$$

$x < -6$ bo'lsa, berilgan tengsizlik albatta bajariladi.

Javob: $x \in (-\infty; -6) \cup \left(-\frac{61}{12}; -5\right] \cup [5; +\infty)$. ▲

Yangi o'zgaruvchini kiritish

Irratsional tenglamalarni yechishda qo'llanilgan yangi o'zgaruvchini kiritish usulini, irratsional tengsizliklarga ham tatbiq etish mumkin.

9-misol. Tengsizlikni yeching: $-9\sqrt{x} + \sqrt{x} + 18 \geq 0$.

△ Tengsizlikni quyidagicha yozib olamiz: $-9\sqrt[4]{x} + (\sqrt[4]{x})^2 + 18 \geq 0$.

Yangi o'zgaruvchini kiritamiz: $t = \sqrt[4]{x}$, $t \geq 0$. Bu holda

$$\begin{cases} -9t + t^2 + 18 \geq 0, \\ t \geq 0 \end{cases} \Leftrightarrow \begin{cases} t \geq 6, \\ t \leq 3, \\ t \geq 0 \end{cases} \Leftrightarrow \begin{cases} t \geq 6, \\ 0 \leq t \leq 3. \end{cases}$$

Shunday qilib:

$$\begin{cases} \sqrt[4]{x} \geq 6, \\ 0 \leq \sqrt[4]{x} \leq 3 \end{cases} \Leftrightarrow \begin{cases} x \geq 6^4, \\ 0 \leq x \leq 3^4 \end{cases} \Leftrightarrow \begin{cases} x \geq 1296, \\ 0 \leq x \leq 81. \end{cases}$$

Javob: $x \in [0; 81] \cup [1296; +\infty)$. ▲

10-misol. Tengsizlikni yeching: $\frac{3-x}{\sqrt{15-x}} < 1$.

△ Yangi o'zgaruvchini kiritamiz: $\sqrt{15-x} = t$, $t > 0$.

Bu holda $x = 15 - t^2$ va t o'zgaruvchiga nisbatan ratsional tengsizlikni hosil qilamiz:

$$\begin{cases} \frac{3-(15-t^2)}{t} < 1, \\ t > 0 \end{cases} \Leftrightarrow \begin{cases} \frac{t^2-t-12}{t} < 0, \\ t > 0 \end{cases} \Leftrightarrow \begin{cases} \frac{(t-4)(t+3)}{t} < 0, \\ t > 0 \end{cases} \Leftrightarrow 0 < t < 4.$$

Bundan x ni topamiz:

$$0 < \sqrt{15-x} < 4 \Leftrightarrow 0 < 15-x < 16 \Leftrightarrow -1 < x < 15.$$

Javob: $x \in (-1; 15)$. ▲

Savol va topshiriqlar



1. Irratsional tengsizlik deb nimaga aytiladi?
2. Irratsional tengsizlikni yechish jarayonida tengkuchli almashtirishga o'tishga oid misol keltiring.
3. Yechimi bo'lmagan irratsional tengsizlikka misol keltiring.

Mashqlar

Noma'lumlarning qaysi qiymatlarida tengsizliklar ma'noga ega? (56–59)

56. 1) $\sqrt{x} + \sqrt{2x-6} > 10$;

2) $\sqrt[4]{18-2x} < 3$.

57. 1) $\sqrt{10-\sqrt{x-5}} < 27$;

2) $\sqrt{(x+3)(x-8)} > x+2$.

58. 1) $\sqrt[3]{x^2 - x} > -x\sqrt[3]{2}$; 2) $\sqrt{x-3} + \sqrt{1-x} > \sqrt{8x-5}$.

59. 1) $\sqrt{x^2 + 3x + 1} < x + 1$; 2) $\sqrt{\frac{x+3}{4-x}} \geq 2$.

Tengsizliklarni yeching (60–66):

60. 1) $\sqrt{2x-1} < x+2$; 2) $\sqrt{x^2-1} > x-2$.

61. 1) $\sqrt[4]{2x^2-1} \leq x$; 2) $\sqrt{x^2-x-2} \geq 2x+3$.

62. 1) $x-3 < \sqrt{x^2+4x-5}$; 2) $\sqrt{x^2-55x+250} < x-14$.

63. 1) $\sqrt[3]{x^2+6x} > x$; 2) $\sqrt{22-x} - \sqrt{10-x} \geq 2$.

64. 1) $\sqrt{2x+1} > \sqrt{3-x}$; 2) $x > \sqrt{x(1+\sqrt{x(x-3)})}$.

65. 1) $\frac{x-1}{\sqrt{x+1}} \geq 4 + \frac{\sqrt{x-1}}{2}$; 2) $\sqrt{3x} - \sqrt{2x+1} \geq 1$.

66. 1) $\sqrt{2x+5} + \sqrt{x-1} > 8$; 2) $\sqrt[3]{x+1} \leq \sqrt[3]{5x}$.

67. Tekislikda $A(9; 4)$, $B(-4; 5)$, $C(x; y)$ nuqtalar berilgan. $AC > BC$ shartni qanoatlantiruvchi sohani toping.

68. Tekislikda $A(2; 4)$, $B(-3; 5)$, $C(x; y)$ nuqtalar berilgan. $AC > BC$ shartni qanoatlantiruvchi sohani toping.

69. Tekislikda $A(4; 4)$, $B(-5; 7)$, $C(x; y)$ nuqtalar berilgan. $AC > BC$ shartni qanoatlantiruvchi sohani toping.

70. Tekislikda $A(2; 4)$, $B(+3; -5)$, $C(x; y)$ nuqtalar berilgan. $AC > BC$ shartni qanoatlantiruvchi sohani toping.

71. Tekislikda $A(5; 4)$, $B(-6; 5)$, $C(x; y)$ nuqtalar berilgan. $AC > BC$ shartni qanoatlantiruvchi sohani toping.

72. Tekislikda $A(8; 4)$, $B(-7; 5)$, $C(x; y)$ nuqtalar berilgan. $AC > BC$ shartni qanoatlantiruvchi sohani toping.

Nazorat test topshiriqlari

Sinov mashqlarining har biriga 4 tadan "javob" berilgan. 4 ta "javob" ning faqat bittasi to'g'ri, qolganlari esa noto'g'ri. O'quvchilardan sinov mashqlarini bajarib yoki boshqa mulohazalar yordamida ana shu to'g'ri javobni topish (uni belgilash) talab qilinadi.

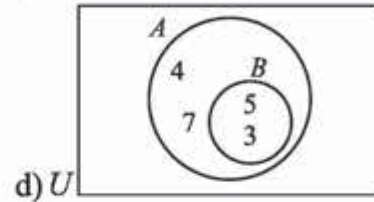
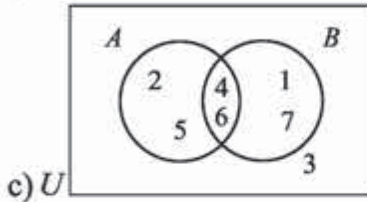
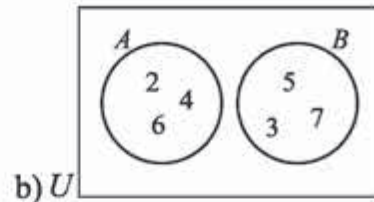
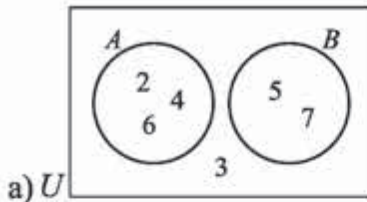
1. Tengkuçli tenglamalarni ko'rsating:
1) $10x=8$; 2) $6x-4=x$; 3) $x^2+2x+18=0$.
A) 1 va 3; B) 2 va 3; C) 1 va 2; D) hammasi.
2. Tenglamani katta ildizini toping: $(x-5)(x+4)(x-11)=0$.
A) -4; B) 5; C) 16; D) 11.
3. Bikvadrat tenglamani ildizlari yig'indisini toping: $3x^4+8x^2-11=0$.
A) 1; B) -1; C) 0; D) $11/3$.
4. Tenglamalar sistemasining nechta yechimi bor? $\begin{cases} x^2 + y^2 = 10, \\ xy = 3. \end{cases}$
A) 1; B) 2; C) 3; D) 4.
5. Tenglamani yeching: $\sqrt{5x+9} = 7$.
A) 2; B) 4; C) 6; D) 8.
6. Tenglamalar sistemasining nechta yechimi bor? $\begin{cases} \sqrt{x} + \sqrt{y} = 11, \\ \sqrt{xy} = 30. \end{cases}$
A) 1; B) 2; C) 3; D) 4.
7. Tekislikda $A(3; 1)$ va $B(7; 3)$ nuqtalardan teng uzoqlikda joylashgan $C(5; x)$ nuqtani toping.
A) (5; 2); B) (5; 3); C) (4; 2); D) (4; 3).
8. Tenglamani yeching: $3 \cdot 5^{x+3} - 5^{x+2} - 2 \cdot 5^{x+1} = 68$.
A) 1; B) 2; C) -1; D) 0.
9. Tenglamani butun ildizlarini toping: $11^{3x^2+23} = 11^{x^2+25x}$.
A) 1; B) -1; C) 2; D) 1 va -1.
10. Qaysidir davlat aholisi soni yiliga 3% kamaysa, nechta yildan so'ng aholi soni 20% kamayadi?
A) 6; B) 2; C) 8; D) 4.
11. Tengsizlikni yeching: $(x^2+6x-7)(x^2+x+1) \leq 0$.
A) $[-7; 1]$; B) $[-7; -1]$; C) $[7; -1]$; D) $[7; 1]$.
12. $|x-2| \leq 5$ tengsizlikning nechta butun yechimi bor?
A) 10; B) 11; C) 8; D) 9.
13. Tengsizlikni yeching: $|4x-1| \leq -2$.
A) $[-7; 1]$; B) $[-7; -1]$; C) $[7; -1]$; D) yechimi yo'q.
14. $\sqrt{x^2-13x+12} \leq 5-x$ tengsizlikning nechta butun yechimi bor?
A) 3; B) 4; C) 5; D) 6.

Javoblar

I BOB.

1. a) $5 \in D$; b) $6 \notin G$; c) $\{2, 5\} \subseteq \{1, 2, 3, 4, 5, 6\}$; d) $\{3, 8, 6\} \subseteq \{1, 2, 3, 4, 5, 6\}$; 2. a) **i** $\{9\}$
ii $\{5, 6, 7, 8, 9, 10, 11, 12, 13\}$. b) **i** \emptyset **ii** $\{1, 2, 3, 4, 5, 6, 7, 8\}$. c) **i** $\{1, 3, 5, 7\}$
ii $\{1, 2, 3, 4, 5, 6, 7, 8, 9\}$. 3. a) 5; b) 6; c) 2; d) 9. 4. a) chekli; b) cheksiz. 5. a)
kesishmaydi; b) kesishadi. 6. a) chekli; b) cheksiz; c) cheksiz; d) cheksiz. 7. a) **i**
 A to'plam -1 dan katta yoki teng va 7 dan kichik yoki teng bo'lgan butun sonlar
to'plami; **ii** $\{-1, 0, 1, 2, 3, 4, 5, 6, 7\}$ **iii** 9. b) **i** A to'plam -2 dan katta va 8 dan
kichik bo'lgan natural sonlar sonlar to'plami; **ii** $\{0, 1, 2, 3, 4, 5, 6, 7\}$ **iii** 8. c) **i**
 A to'plam 0 dan katta yoki teng va 1 dan kichik yoki teng bo'lgan haqiqiy sonlar
to'plami; **ii** mumkin emas; **iii** cheksiz. d) **i** A to'plam 5 dan katta yoki teng va
6 dan kichik yoki teng bo'lgan haqiqiy sonlar to'plami; **ii** mumkin emas; **iii**
cheksiz. 8. a) $A = \{x \mid -100 < x < 100, x \in \mathbb{Z}\}$; b) $A = \{x \mid x > 1000, x \in \mathbb{R}\}$; c) $A = \{x \mid 2 \leq$
 $x \leq 3, x \in \mathbb{Q}\}$. 9. a) **i** 8 ta: $\emptyset, \{a\}, \{b\}, \{c\}, \{a, b\}, \{a, c\}, \{b, c\}, \{a, b, c\}$; **ii** 16
ta: $\emptyset, \{a\}, \{b\}, \{c\}, \{d\}, \{a, b\}, \{a, c\}, \{a, d\}, \{b, c\}, \{b, d\}, \{c, d\}, \{a, b, c\}, \{a,$
 $b, d\}, \{a, c, d\}, \{b, c, d\}, \{a, b, c, d\}$; b) 2^n . 10. a) Ha; b) Yo'q; c) Ha; d) Ha; e)
Yo'q; f) Yo'q. 11. b) $C' = \mathbb{N}$; c) $C' = \{x \mid x \geq -4, x \in \mathbb{Z}\}$; d) $C' = \{x \mid 2 < x < 8, x \in \mathbb{Q}\}$. 12.
a) $\{2, 3, 4, 5, 6, 7\}$; b) $\{0, 1, 8\}$; c) $\{5, 6, 7, 8\}$; d) $\{0, 1, 2, 3, 4\}$; e) $\{5, 6, 7\}$; f) $\{2,$
 $3, 4, 5, 6, 7, 8\}$; g) $\{2, 3, 4\}$. 13. a) 9; b) 11. 14. a) $\{1, 2, 10, 11, 12\}$; b) $\{1, 2, 3, 4,$
 $12\}$; c) $\{1, 8, 9, 10, 11, 12\}$; d) $\{3, 4, 5, 6, 7\}$; e) $\{1, 2, 8, 9, 10, 11, 12\}$; f) $\{8, 9, 10,$
 $11\}$; g) $\{1, 2, 5, 6, 7, 8, 9, 10, 11, 12\}$; h) $\{2, 10, 11\}$; 15. a) $P = \{2, 3, 5, 7, 11, 13, 17,$
 $19, 23\}$; b) $\{2, 5, 11\}$; c) $\{2, 3, 4, 5, 7, 11, 12, 13, 15, 17, 19, 23\}$; d) $12 = 9 + 6 - 3 \checkmark$.
16. a) $P = \{1, 2, 3, 5, 6, 10, 15, 30\}$, $Q = \{1, 2, 3, 5, 8, 10, 20, 30\}$; b) $\{2, 5, 10\}$; c) $\{1,$
 $2, 3, 4, 5, 6, 8, 10, 15, 20, 30, 40\}$; d) $12 = 8 + 8 - 4 \checkmark$. 17. a) $P = \{32, 36, 40, 44, 48,$
 $52, 56\}$, $Q = \{36, 42, 48, 54\}$; b) $\{36, 48\}$; c) $\{32, 36, 40, 42, 44, 48, 52, 54, 56\}$; d)
 $9 = 7 + 4 - 2 \checkmark$. 18. a) $R = \{-2, -1, 0, 1, 2, 3, 4\}$, $S = \{0, 1, 2, 3, 4, 5, 6\}$; b) $\{0, 1, 2, 3, 4\}$;
c) $\{-2, -1, 0, 1, 2, 3, 4, 5, 6\}$; d) $9 = 7 + 7 - 5 \checkmark$. 19. a) $C = \{-4, -3, -2, -1\}$, $D = \{-7, -6,$
 $-5, -4, -3, -2, -1\}$; b) $\{-4, -3, -2, -1\}$; c) $\{-7, -6, -5, -4, -3, -2, -1\}$; d) $7 = 4 + 7 - 4$
 \checkmark . 20. a) $P = \{1, 2, 3, 4, 6, 12\}$, $Q = \{1, 2, 3, 5, 9, 18\}$, $R = \{1, 3, 9, 27\}$. b) **i** $\{1, 2, 3,$
 $6\}$; **ii** $\{1, 3\}$; **iii** $\{1, 3, 9\}$; **iv** $\{1, 2, 3, 4, 6, 9, 12, 18\}$; **v** $\{1, 2, 3, 4, 6, 9, 12, 27\}$;
vi $\{1, 2, 3, 6, 9, 18, 27\}$. c) **i** $\{1, 3\}$; **ii** $\{1, 2, 3, 4, 6, 9, 12, 18, 27\}$. 21. a) $A = \{4,$
 $8, 12, 16, 20, 24, 28, 32, 36\}$, $B = \{6, 12, 18, 24, 30, 36\}$, $C = \{12, 24, 36\}$. b) **i** $\{12,$
 $24, 36\}$; **ii** $\{12, 24, 36\}$; **iii** $\{12, 24, 36\}$; **iv** $\{12, 24, 36\}$. c) $\{4, 6, 8, 12, 16, 18, 20,$
 $24, 28, 30, 32, 36\}$. d) $12 = 9 + 6 + 3 - 3 - 3 + 3 \checkmark$. 22. a) $A = \{6, 12, 18, 24, 30\}$, $B = \{1,$
 $2, 3, 5, 6, 10, 15, 30\}$, $C = \{2, 3, 5, 7, 11, 13, 17, 19, 23, 29\}$. b) **i** $\{6, 30\}$; **ii** $\{2, 3,$
 $5\}$; **iii** \emptyset ; **iv** \emptyset . c) $\{1, 2, 3, 5, 6, 7, 10, 11, 12, 13, 15, 17, 18, 19, 23, 24, 29, 30\}$. d)
 $18 = 5 + 8 + 10 - 2 - 3 - 0 + 0 \checkmark$.

23.



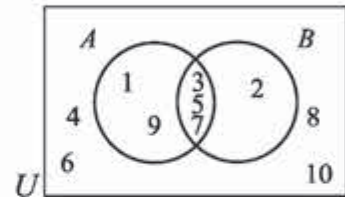
24.

a) $A = \{1, 3, 5, 7, 9\}$

$B = \{2, 3, 5, 7\}$;

b) $A \cap B = \{3, 5, 7\}$

$A \cup B = \{1, 2, 3, 5, 7, 9\}$;

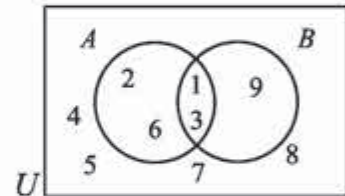


25. a) $A = \{1, 2, 3, 6\}$

$B = \{1, 3, 9\}$;

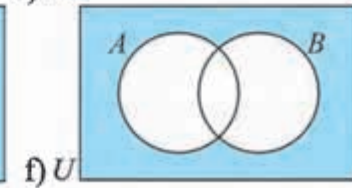
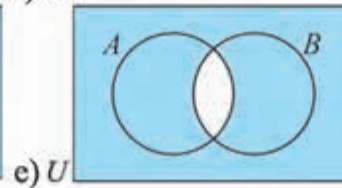
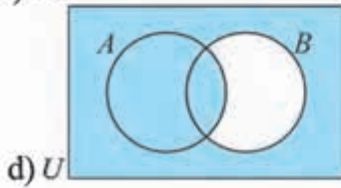
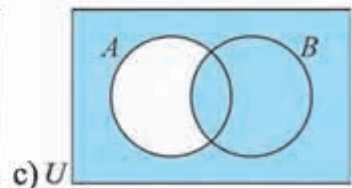
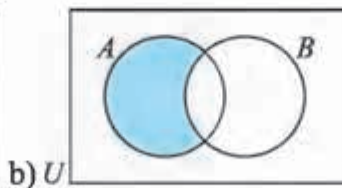
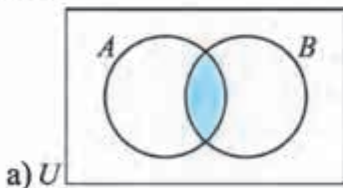
b) $A \cap B = \{1, 3\}$

$A \cup B = \{1, 2, 3, 6, 9\}$;

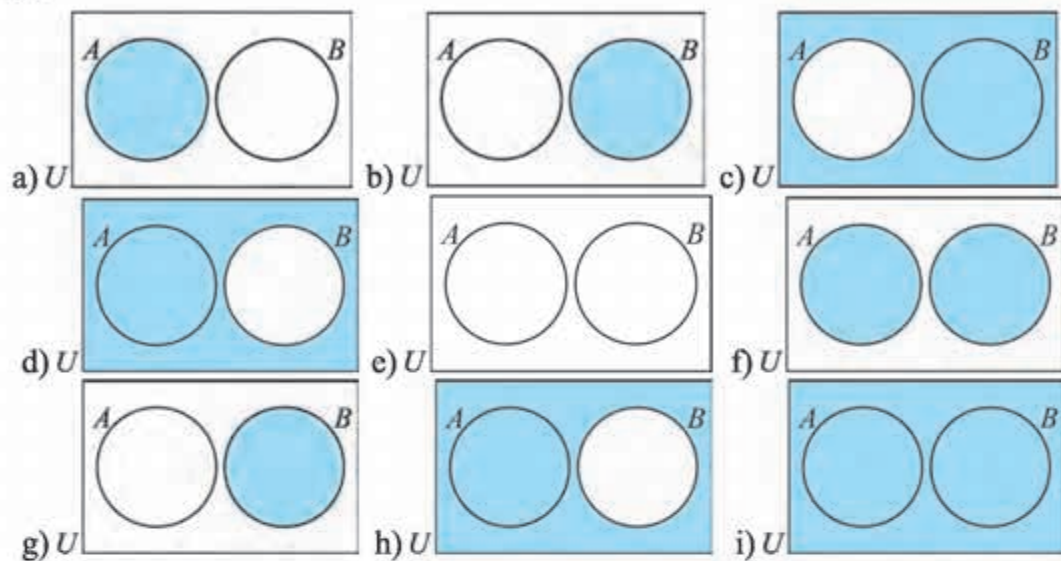


26. a) $\{b, d, e, h\}$; b) $\{e, f, h, i, j\}$; c) $\{a, c, f, g, i, j, k\}$; d) $\{a, b, c, d, g, k\}$; e) $\{e, h\}$; f) $\{b, d, e, f, h, i, j\}$; g) $\{a, c, g, k\}$; h) $\{a, b, c, d, f, g, i, j, k\}$. 27. a) **i)** $\{a, b, c, d, h, j\}$; **ii)** $\{a, c, d, e, f, g, k\}$; **iii)** $\{a, b, e, f, i, l\}$; **iv)** $\{a, c, d\}$; **v)** $\{a, b, e, f, i, l\}$; **vi)** $\{a, e, f\}$; **vii)** $\{a\}$; **viii)** $\{a, b, c, d, e, f, g, h, i, j, k, l\}$.

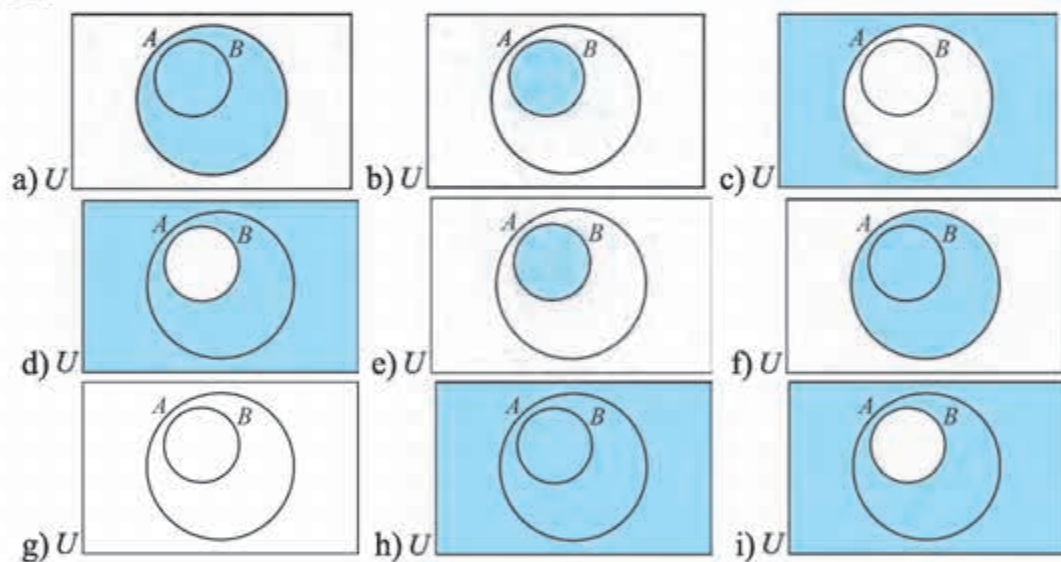
28.



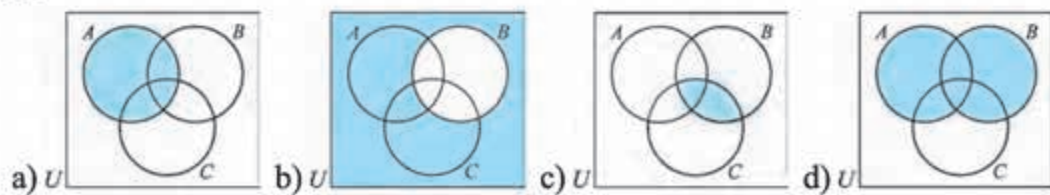
29.

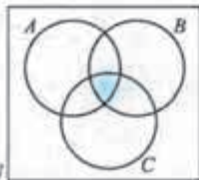


30.

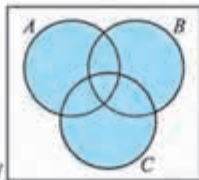


31.

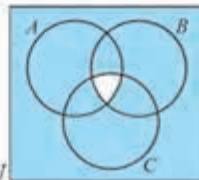




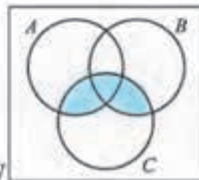
e) U



f) U



g) U



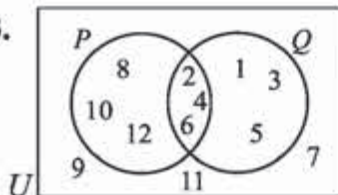
h) U

32. a) Ha, yolg'on; b) ha, rost; c) Ha, rost; d) Ha, rost; e) Ha, rost; f) Ha, rost; g) Yo'q; h) Ha, rost; i) Yo'q; j) Ha, aniq emas; k) Ha, aniq emas; l) Yo'q; m) Ha, aniq emas; n) Ha, aniq emas; o) Ha, aniq emas; p) Ha, yolg'on. 33. k) $\neg p$: Ayrim to'rtburchaklar parallelogramm emas; m) $\neg r$: 7 – ratsional son emas; n) $\neg s$: $23-14 \neq 12$; o) $\neg t$: $52:4 \neq 13$; p) $\neg u$: Ayrim ikkita juft sonlar ayirmasi juft bo'ladi; q) $\neg p$: Ketma-ket natural sonlar ko'paytmasi doimo juft bo'lmaydi; r) $\neg q$: Ayrim o'tmas burchaklar o'zaro teng emas; s) $\neg r$: Ayrim trapetsiyalar parallelogramm emasdir;

t) $\neg s$: Uchburchakda ikki burchagi o'zaro teng, ammo u tengyonli emas.

34. a) $x > 5$; b) $x < 3$; c) $y \geq 8$; d) $y > 10$; 35. e) Yo'q, Madinaning bo'yi 140 sm ham bo'lishi mumkin; f) Yo'q; g) Ha. 36. f) $x \geq 5, x \in \mathbb{N}$; g) x – sigir, $x \in \{\text{otlar, qo'ylar, sigirlar}\}$; h) $x < 0, x \in \mathbb{Z}$; i) x – o'quvchi qizbola, $x \in \{\text{o'quvchilar}\}$; j) x – o'quvchi bo'lmagan qizbola, $x \in \{\text{qizbolalar}\}$. 41. e) $p \wedge q$: Madina – terapevt, Munisa esa stomatolog; f) $p \wedge q$: 15 dan katta va 30 dan kichik; g) $p \wedge q$: havo bulutli va yomg'ir yog'moqda; h) $p \wedge q$: Olimning sochlari qora va ko'zlari moviy. 42. a) rost; b) yolg'on; c) yolg'on; d) rost; e) yolg'on.

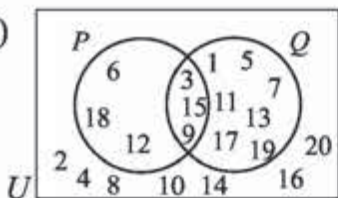
43.



44. a) rost; b) yolg'on.

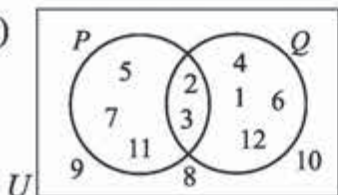
45. a) rost; b) rost.

46. a)



- b) **i)** {2, 4, 6, 8, 10, 12, 14, 16, 18, 20};
ii) {1, 3, 5, 6, 7, 9, 11, 12, 13, 15, 17, 18, 19};
iii) {3, 9, 15};
iv) {1, 5, 6, 7, 11, 12, 13, 17, 18, 19}.

47. a)



- b) **i)** {2, 3};
ii) {1, 2, 3, 4, 5, 6, 7, 11, 12};
iii) {1, 4, 5, 6, 7, 11, 12}.

48. a) $\neg x$; b) $x \wedge y$; c) $x \vee y$; d) $\neg x \wedge \neg y$; e) $x \wedge \neg y$. 50. a) Sardor erta turdi; b) Sardor kechki ovqatga palov yedi; c) Sardor nonushtaga qaymoq yedi va sport bilan shug'ullandi; d) Sardor tushlikka shorva ichdi va kechki ovqatga palov yedi; e) Sardor yo tushlikka yo kechki ovqatga sho'rva ichdi.

51. a)

| p | q | $\neg p$ | $\neg p \wedge q$ |
|-----|-----|----------|-------------------|
| T | T | F | F |
| T | F | F | F |
| F | T | T | T |
| F | F | T | F |

c)

| p | q | $\neg p$ | $\neg q$ | $\neg p \wedge \neg q$ |
|-----|-----|----------|----------|------------------------|
| T | T | F | F | F |
| T | F | F | T | T |
| F | T | T | F | T |
| F | F | T | T | T |

d)

| p | $p \vee q$ |
|-----|------------|
| T | T |
| F | F |

52. a) tautologiya emas; b) tautologiya; c) tautologiya emas.

55.

| p | q | $p \vee q$ | $\neg(p \vee q)$ | $\neg p$ | $\neg q$ | $\neg p \wedge \neg q$ |
|-----|-----|------------|------------------|----------|----------|------------------------|
| T | T | T | F | F | F | F |
| T | F | T | F | F | T | F |
| F | T | T | F | T | F | F |
| F | F | F | T | T | T | T |

57. d) quyosh yaraqlasa, men cho'milishga boraman; e) x son 6 ga bo'linsa, u juft bo'ladi; f) muzlatgichda tuxumlar bo'lsa Madina tort pishiradi.

59. a) $p \Rightarrow q$; b) $q \Rightarrow p$; c) $\neg q$; d) $\neg p$; e) $\neg p \Rightarrow \neg q$; f) $p \Rightarrow \neg q$; g) $\neg q \Rightarrow p$; h) $p \Leftrightarrow q$; 63.

a) Konversiya: Agar Diyora isinsa, u jemper kiyadi; Inversiya: Agar Diyora jemper kiymasa, u isina olmaydi. b) Konversiya: Agar ikki uchburchakning mos burchaklari teng bo'lsa, ular o'hshash bo'ladi; Inversiya: Agar ikki uchburchak o'hshash bo'lmasa, ularning mos burchaklari teng bo'lmaydi. c) Agar $2x^2=12$ bo'lsa, u holda $x = \pm\sqrt{6}$ bo'ladi; Konversiya: Agar $x = \pm\sqrt{6}$ bo'lsa, u holda $2x^2=12$ bo'ladi. Inversiya: Agar $2x^2 \neq 12$ bo'lsa, u holda $x \neq \pm\sqrt{6}$ bo'ladi. d) Konversiya: Agar Olim xursand bo'lsa, u o'yin o'ynaydi; Inversiya: Olim o'yin o'ynamasa, u xursand bo'lmaydi.

e) Agar uchburchak muntazam bo'lsa, u holda uning tomonlari teng bo'ladi; Konversiya: Agar uchburchakning tomonlari teng bo'lsa, u muntazam bo'ladi; Inversiya: Agar uchburchak muntazam bo'lmasa, u holda uning tomonlari teng bo'lmaydi. 64. a) Agar gul tikonli bo'lmasa u atirgul bo'lmaydi; b) To'g'ri qaror chiqara olmagan inson sudya emas;

c) to'pni aniq nishonga tepa olmaydigan inson yaxshi futbolchi bo'la olmaydi;

d) Agar modda quyilgan idish shaklini qabul qilmasa u suyuqlik emas;

e) Agar inson muvaffaqiyatli bo'lmasa, u halol va o'qimishli emas; 65. a) matematikani o'rganmaydigan inson 10 sinf o'quvchisi emas; b) Shavkat matematikani o'rganadi; Mirislom 10 sinf o'quvchisi emas; Aniq xulosa chiqara olmaymiz. 66.

a) x^2 soni 9 ga bo'linmasa, x soni 3 ga bo'linmaydi; b) x -juft bo'lmasa, uning

oxirgi raqami 2 emas; c) $AB \parallel CD$ va $AD \parallel BC$ bo'lmasa, $ABCD$ – to'g'ri to'rtburchak emas; d) $\angle ACB \neq 60^\circ$ bo'lsa, ACB – muntazam uchburchak emas. **67.** i) Agar uy tashqariga tutun chiqaradigan trubaga ega bo'lsa, eng ko'pi bilan 3 ta oynali bo'ladi; ii) Agar uy 3 tadan ortiq oynali bo'lsa, u tashqariga tutun chiqaradigan trubaga ega bo'lmaydi; iii) Agar uy tashqariga tutun chiqaradigan trubaga ega bo'lmasa, eng ko'pi bilan 3 ta oynali bo'lmaydi; **69.** a) $\exists x P(x)$; b) $\exists x P(x)$; c) $\forall x P(x)$; d) $\forall x P(x)$; e) $\forall x P(x)$; f) $\forall x P(x)$; g) $\forall x P(x)$; h) $\forall x P(x)$; i) $\exists x P(x)$; j) $\exists x P(x)$; k) $\forall x P(x)$; **70.** a) Sazan sut emizuvchi emas; b) Barcha qirollarda kamchiliklar bor; f) Oltin tokni yaxshi o'tkazadi; g) Ayrim umurtqalilar bola ochadi; h) Bu inson kasallangan. **71.** a) y x ning nevarasi; b) Har qanday insonda farzand bor; c) Har qanday inson kimningdur farzandi. **72.** a) Barcha insonlar uchun agar biri boshqasini do'st deb hisoblasa, u ham uni do'st deb hisoblaydi; b) Ihtiyoriy inson uchun u do'st deb hisoblaydigan inson bor; c) Shunday inson borki, uni hamma do'st deb hisoblaydi; d) Har qanday inson uchun uni do'st deb hisoblaydigan insonlar bor; e) Shunday inson borki, u hammani do'st deb hisoblaydi; f) Shunday inson borki, uni hamma do'st deb hisoblaydi. **73.** a) Ixtiyoriy butun son uchun unga bo'linadigan butun son mavjud; b) Shunday butun son mavjudki u barcha butun sonlarga bo'linadi; c) Ixtiyoriy butun son uchun uning bo'luvchisi mavjud; d) Shunday butun son mavjudki, unga barcha butun sonlar bo'linadi; e) Ixtiyoriy butun son uchun uning bo'luvchisi mavjud; f) Shunday butun son mavjudki, u barcha butun sonlarga bo'linadi. **82.** a) 7; b) 14; c) 14; d) 7; e) 5; f) 9. **83.** a) 5; b) 6; c) 17; d) 8; e) 3; f) 2. **84.** a) $b+c$; b) $c+d$; c) b ; d) $a+b+c$; e) $a+c+d$; f) d . **85.** a) 15; b) 4. **86.** a) 18; b) 6. **87.** a) 7; b) 23.

II BOB.

1. a) £630; b) £630; c) ¥238333; d) €4402.46. 3. \$2600. 4. £14 400. 5. €20219.78. 6. a) $6\frac{2}{3}\%$; b) 9.41%. 7. $11\frac{2}{3}\%$. 8. 15.4%. 9. a) 4; b) 7; 11. a) €5512.69; b) \$7293.04; c) £18938.83. 12. 787.50. 13. €1418.75. 14. £1660. 15. \$274.83. 16. a) €111.39; b) £763.31; c) ¥77157. 17. \$9021.58. 18. €301.26. 19. a) \$7650; b) \$8151.65; c) \$8243.81.

| 20. | Yillar | Amortizatsiya | Narxi |
|-----|--------|------------------------|----------|
| | 0 | | €2500 |
| | 1 | 15% €2500 = €375 | €2125 |
| | 2 | 15% €2125 = €318.75 | €1806.25 |
| | 3 | 15% €1806.25 = €270.94 | €1535.31 |

III BOB.

1. a) 5; b) -2; 50; c) 1; -9; d) \emptyset ; e) -1; f) 1; -0,5; g) -1; -4,7; i) -4; 7;
2. a) 7; b) -0,25; c) ildizlari yo'q; e) -1; 5; f) -1.
3. a) va b); a) va d); a) va f); b) va d); b) va f); d) va f); c) va e); g) va h).
4. a) $(81/11; -3/11)$; b) $(4; 4)$; c) $(9; 8)$. 6. b) $(1; 1)$. 7. a) $8; -33/4$.
9. 48 ta qiz va 60 ta o'smir. 11. a) $19\frac{2}{3}$; b) \emptyset ; c) 32; d) \emptyset ; 13. a) \emptyset ; b) $-\frac{23}{16}$.
15. a) $\frac{-9-\sqrt{105}}{2}$. 17. b) \emptyset ; 19. a) 5. 21. a) $(9; 4)$. 23. a) $(-5; 9)$. 25. $\frac{21}{22}$.
26. a) -0,25; b) -4/9; c) -2,5. 28. c) \emptyset . d) $\{0; -3, 5\}$. 29. c) 0; d) 1. 31. a) 0; b) 0.
37. 3 yil. 39. 8 yil. 41. a) $(\frac{69}{62}; \frac{35}{62})$; b) $(\frac{18}{5}; -\frac{1}{5})$. 43. a) $(1; 1)$; b) $(4/3; 2/3)$;
53. 1) $[-4; \frac{3}{7}] \cup [5; +\infty)$; 2) $(-\frac{11}{7}; -1) \cup (6; +\infty)$; 3) $(-\infty; \frac{3}{5})$;
- 4) $(-\infty; -0,5) \cup [5; +\infty)$; 5) $(-\infty; -1] \cup [7; +\infty)$; 6) $(-\infty; -\frac{1}{3}) \cup (2; +\infty)$
- 7) $(0,25; 1)$; 8) $(-\infty; \frac{3}{7}) \cup [\frac{16}{23}; +\infty)$; 9) $(-\sqrt{7}; \frac{15-\sqrt{21}}{2}) \cup (\sqrt{7}; \frac{15+\sqrt{21}}{2})$;
- 10) $(0; 0,5) \cup (1; +\infty)$. 55. 1) $(\frac{1}{7}; +\infty)$; 2) \emptyset . 57. $(-\infty; -3]$; 59. 1) \emptyset . 2) \emptyset .
61. 1) $[0; 1)$. 63. 1) $(-\infty; -2) \cup (0; 3)$. 65. 1) $[81; +\infty)$. 66. 2) $[0,25; +\infty)$.
68. $y > 5x + 7$. 70. $y < (x-2)/9$. 72. $y > 15x - 3$.

MUNDARIJA

| | |
|---|-----------|
| I bob. TO'PLAMLAR, MANTIQ | 3 |
| 1-4-darslar. To'plam tushunchasi, to'plamlar ustida amallar. To'ldiruvchi to'plam | 3 |
| 5-7-darslar. Mulohazalar. Inkor, konyunksiya va dizyunksiya | 14 |
| 8-9-darslar. Mantiqiy tengkuchlilik. Mantiqiy qonunlar | 21 |
| 10-11-darslar. Implikatsiya, konversiya, inversiya va kontrapozitsiya | 23 |
| 12-13-darslar. Predikatlar va kvantorlar | 29 |
| 14-15-darslar. To'g'ri fikr yuritish (argumentatsiya) qonunlari. Sofizmlar va paradokslar | 33 |
| 16-18-darslar. Masalalar yechish | 38 |
| II bob. MOLIYAVIY MATEMATIKA ELEMENTLARI | 48 |
| 19-21-darslar. Sodda foizlar, murakkab foizlar | 48 |
| 22-24-darslar. Masalalar yechish | 53 |
| III bob. ELEMENTAR FUNKSIYALAR VA TENGLAMALAR | 58 |
| 25-28-darslar. Sodda ratsional tenglamalar va ularning sistemalari | 58 |
| 29-32-darslar. Sodda irratsional tenglamalar va ularning sistemalari | 64 |
| 33-36-darslar. Sodda ko'rsatkichli tenglamalar va ularning sistemalari | 69 |
| 37-38-darslar. Tenglamalarni taqribiy yechish | 74 |
| 39-41-darslar. Sodda ratsional tengsizliklar va ularning sistemalari | 77 |
| 42-43-darslar. Sodda irratsional tengsizliklar | 79 |
| Javoblar | 86 |

Foydalanilgan va tavsiya etiladigan adabiyotlar

1. Sh.A. Alimov, O.R. Xolmuhamedov, M.A. Mirzaahmedov Algebra va analiz asoslari. 10-sinf uchun darslik. Toshkent: "O'qituvchi", 2004.
2. Mal Coad and others. Mathematics for the international students. Mathematical Studies SL 2nd edition. Haese and Harris publications. 2010.
3. Э. Сайдаматов и др. Алгебра и основы математического анализа. часть 1, Ташкент: "O'qituvchi", 2016.
4. A.U. Abduhamidov va boshqalar. Algebra va matematik analiz asoslari, 1-qism, Toshkent: "O'qituvchi", 2012.
5. Н.П. Филичева Уравнения и системы уравнений: Учебно-методическое пособие. "Рязань". 2009.
6. М.И. Исроилов Ҳисоблаш методлари. Тошкент: "Ўқитувчи" 1988.
7. Г.К. Муравин Алгебра и начала анализа. Учебник для 10 класса. Москва, "Дрофа", 2006.
8. Алгебра. Учебное пособие для 9-10 классов. Под ред. Н.Я. Виленкина. Москва, "Просвещение", 2004.
9. <http://www.ams.org/mathweb/> – Internetda matematika (ingliz tilida).
10. "Математика в школе" jurnali.
11. Fizika, matematika va informatika. Ilmiy-uslubiy jurnal (2001 - yildan boshlab chiqa boshlagan).
12. M.A. Mirzaahmedov, Sh.N. Ismailov Matematikadan qiziqarli va olimpiada masalalari. I qism, Toshkent, "Turon-Iqbol", 2016.
13. Matematikadan qo'llanma, I va II qismlar. O'qituvchilar uchun qo'llanma. Prof. T.A. Azlarov tahriri ostida. Toshkent, "O'qituvchi", 1979.
14. M.A. Mirzaahmedov, D.A. Sotiboldiyev O'quvchilarni matematik olimpiadalariga tayyorlash. Toshkent, "O'qituvchi", 1993.
15. <http://www.uzedu.uz> – Xalq ta'limi vazirligining axborot ta'lim portali.
16. <http://www.eduportal.uz> – Multimedia markazi axborot ta'lim portali.
17. <http://www.problems.ru> – Matematikadan masalalar izlash tizimi (rus tilida).
18. <http://matholymp.zn.uz> – O'zbekistonda va dunyoda matematik oimpiadalar.